



نام و نام خانوادگی: سهیل حاج کرم

نام آزمون: ۲۵۰ تست جغرافی دوازدهم درس یک



فصل اول: جغرافیای سکونتگاه‌ها

درس ۱: شهرها و روستاها تفاوت‌های شهر و روستا

- ۱ کدام راهکار در جهت برنامه‌ریزی بهتر برای عمران و توسعه و آبادی شهرها و روستاها ضروری است؟
- ۱ جلوگیری از تخریب منابع طبیعی ۲ انتقال یک شهر به مکان دیگر ۳ مطالعه مقر و موقعیت آن‌ها ۴ توسعه هسته اولیه یک شهر یا روستا

سخت-متنا- ۱۳۹۸

سلسله‌مراتب سکونتگاه‌ها و حوزه نفوذ سکونتگاه

۲ آستانه نفوذ در سلسله مراتب سکونتگاه‌ها به چه معناست؟

- ۱ حداقل جمعیتی که تقاضای کالا، خدمات، رفت و آمد یا عملکردی از سکونتگاه دارد.
- ۲ حداقل جمعیتی که تقاضای کالا، خدمات یا عملکردی از سکونتگاه دارند.
- ۳ بیشترین مسافتی که مردم منطقه برای دریافت خدمات از سکونتگاه طی می‌کنند.
- ۴ بیشترین مسافتی که مردم منطقه برای رفت و آمد و دریافت خدمات طی می‌کنند.

سخت-متنا- ۱۳۹۸

تغییر در روستانشینی و سکونتگاه‌های روستایی

۳ کدام عبارت با مفهوم «شهرگرایی» مطابقت بیشتری دارد؟

- ۱ بروز تحولات صنعتی و ورود کشورها به عصر نوسازی
- ۲ رواج شیوه‌های زندگی و رفتار و مظاهر شهری در روستاها
- ۳ تغییر نقش و عملکرد روستا و رونق صنایع کوچک تبدیلی
- ۴ استفاده از ماشین‌آلات کشاورزی و عناصر و خدمات شهری

متوسط- سراسری- ۱۳۹۸

مقر و موقعیت

۴ کدام یک از موارد زیر موجب از دست دادن موقعیت و اعتبار یک شهر می‌شود؟

- ۱ تغییرات آب و هوایی ۲ دسترسی به دریا ۳ نزدیکی به خط آهن ۴ منابع معدنی انرژی

متوسط-متنا- ۱۳۹۸

تفاوت‌های شهر و روستا

۵ همه گزینه‌ها در مورد تفاوت‌های شهر و روستا نادرست بیان شده است، به جز

- ۱ بیش تر مردمان ساکنان شهرها در بخش صنعتی و اغلب جمعیت فعال سکونتگاه‌های روستایی در بخش‌های کشاورزی و خدماتی مشغول به کارند.
- ۲ در برخی از کشورهای اروپایی، سکونتگاه‌هایی با بیش تر از ۱۰۰۰ نفر جمعیت، شهر محسوب شده‌اند.
- ۳ در روستاها چون جمعیت کم تر است، بیش تر افراد با یکدیگر روابط خویشاوندی دارند و به همین دلیل خدمات و تسهیلاتی هم که ارائه می‌دهند، گسترده است.
- ۴ سکونتگاه‌ها از نظر تعداد جمعیت متفاوت‌اند و طیف وسیعی از روستاهای کوچک با کم تر از ۱۰۰ نفر تا شهرهای بیش از ۱۰ میلیون نفر را دربرمی‌گیرند.

متوسط- ۱۳۹۸-smart

از مادرشهر تا زنجیره کلان شهرها (مگالاپلیس)

۶) منطقه آبر شهری به کدام یک از مفاهیم زیر اطلاق می شود؟

متوسط - منتا - ۱۳۹۸

- ۱) مادرشهر ۲) هسته اولیه ۳) حومه ۴) مگالاپلیس

به سوی جهانی در حال شهری شدن و افزایش شهرهای میلیونی

۷) کدام یک از نواحی زیر از بالاترین سطح شهرنشینی برخوردار است؟

سخت - منتا - ۱۳۹۸

- ۱) آسیا ۲) آمریکای شمالی ۳) کارائیب ۴) اقیانوسیه

از مادرشهر تا زنجیره کلان شهرها (مگالاپلیس)

۸) مگالاپلیس «بوسطن - واشنگتن» در کدام قسمت ایالات متحده آمریکا واقع شده است و به چه شهرهایی مگالاپلیس می گویند؟

سخت - منتا - ۱۳۹۸

- ۱) جنوب شرقی - شهر یا سکونتگاه اصلی یک کشور یا ناحیه
۲) شمال شرقی - شهر یا سکونتگاه اصلی یک کشور یا ناحیه
۳) جنوب شرقی - زنجیره ای از دو یا چند مادرشهر
۴) شمال شرقی - زنجیره ای از دو یا چند مادرشهر

متوسط - ۱۳۹۸ - smart

۹) در کدام گزینه، انواع سکونت گاه های شهری، به ترتیب از کوچک به بزرگ آورده شده است؟

- ۱) متروپل - مگالاپلیس - منطقه مادرشهری
۲) متروپل - منطقه مادرشهری - مگالاپلیس
۳) مادرشهر - منطقه مادرشهری - متروپل
۴) مادرشهر - متروپل - منطقه ابرشهری

مقر و موقعیت

۱۰) کدام عبارت درباره «هسته اولیه» یک سکونتگاه صحیح است؟

متوسط - منتا - ۱۳۹۸

- ۱) وضعیت آن سکونتگاه نسبت به پدیده های پیرامون خود در سطح ناحیه است.
۲) پدیده های طبیعی یا انسانی که موجب شکل گیری و گسترش یک شهر و روستا شده اند.
۳) محل دقیق و استقرار یک سکونتگاه بر روی زمین است.
۴) مکانی است که مردم برحسب نیاز آن را برای زندگی انتخاب کرده اند و بعدها روستا یا شهر از آن محل گسترش یافته است.

تغییر در روستانشینی و سکونتگاه های روستایی

۱۱) در قرن نوزدهم در کشورهای آسیایی و آمریکای لاتین، ورود فزاینده مهاجران روستایی به شهرها مشکلات زیادی برای روستاها و شهرها ایجاد کرد، زیرا

متوسط - منتا - ۱۳۹۸

- ۱) با مهاجرت روستاییان به شهرها تولید محصولات کشاورزی کاهش یافت.
۲) نقش و عملکرد برخی از روستاها تغییر یافت.
۳) شهرها با توسعه صنایع کارخانه ای با آلودگی زیست محیطی روبه رو شدند.
۴) رشد شهرنشینی در این نواحی سریع تر از رشد صنعتی رخ داد.

۱۲) در قرن نوزدهم عامل مؤثر در افزایش مهاجرت از روستاها به شهرها در کشورهای توسعه یافته صنعتی اروپا و آمریکای شمالی چه بود؟

متوسط - منتا - ۱۳۹۸

- ۱) کاهش مرگ و میر در روستاها ۲) توسعه صنایع کارخانه ای
۳) توسعه خطوط آهن ۴) کمبود زمین کشاورزی

سلسله مراتب سکونتگاه ها و حوزه نفوذ سکونتگاه

۱۳) کدام مورد به مفهوم حوزه نفوذ سکونتگاه اشاره می کند؟

متوسط - منتا - ۱۳۹۸

- ۱) حداقل جمعیتی که تقاضای کالا و خدمات از یک سکونتگاه را دارند.
۲) افزایش جمعیت در یک فضای جغرافیایی با توجه به گسترش فعالیت های تجاری در آن
۳) مهم ترین محدوده جغرافیایی یک شهر یا استان
۴) محدوده جغرافیایی که از یک سکونتگاه، کالا و انواع خدمات دریافت می کند.

سخت - خارج از کشور - ۱۴۰۰

۱۴ همه عبارت‌ها، براساس «سلسله‌مراتب سکونتگاه‌های ایران»، به درستی نوشته شده‌اند، به جز:

- ۱ استان با تنوع خدمات بیشتر در رأس هرم قرار گرفته است.
- ۲ تنوع خدمات در دهستان کمتر از بخش و بیشتر از روستا است.
- ۳ در شهرستان شمار جمعیت و تنوع خدمات از بخش بیشتر و از استان کمتر است.
- ۴ تنوع خدمات و شمار جمعیت در چند روستا، از بخش بیشتر و از دهستان کمتر است.

از مادرشهر تا زنجیره کلان‌شهرها (مگااپلیس)

سخت - ۱۴۰۰ - smart

۱۵ انواع شهرها در کدام گزینه از بزرگ به کوچک درست مرتب شده است؟

- ۱ کلان شهر - متروپل - منطقه مادرشهری - منطقه ابرشهری
- ۲ مگاسیتی - مگااپلیس - منطقه ابرشهری - متروپل
- ۳ متروپل - کلان شهر - مگااپلیس - مگاسیتی
- ۴ مگااپلیس - مادرشهری - مگاسیتی - متروپل

تفاوت‌های شهر و روستا

سخت - ۱۳۹۸ - smart

۱۶ در رابطه با سکونت‌گاه‌های شهری و روستایی کدام عبارت به درستی بیان شده است؟

- ۱ عمدتاً شهرها از روستاها پرجمعیت‌تر هستند، اما تراکم جمعیت در روستاها بیشتر است.
- ۲ کم‌اهمیت‌ترین ملاک تشخیص شهر و روستا ملاک اقتصادی است.
- ۳ در شهرها فعالیت‌های مختلف در فضاهای محدودتری متمرکز شده‌اند.
- ۴ در اغلب سکونت‌گاه‌های روستایی، درصد بیشتری از جمعیت فعال در بخش خدماتی فعالیت می‌کنند.

مقر و موقعیت

متوسط - منته - ۱۳۹۸

۱۷ کدام عبارت زیر صحیح است؟

- ۱ مقر هر روستا یا شهر، هسته اولیه آن را نیز شامل می‌شود و در انتخاب مکان برای استقرار و سکونت جمعیت، عوامل انسانی بیش‌ترین نقش را دارند.
- ۲ هسته اولیه روستا یا شهر، مقر آن را نیز شامل می‌شود و در انتخاب مکان برای استقرار و سکونت جمعیت، عوامل طبیعی بیش‌ترین نقش را دارند.
- ۳ هسته اولیه روستا یا شهر، مقر آن را نیز شامل می‌شود و در انتخاب مکان برای استقرار و سکونت جمعیت، عوامل انسانی بیش‌ترین نقش را دارند.
- ۴ مقر هر روستا یا شهر، هسته اولیه آن را نیز شامل می‌شود و در انتخاب مکان برای استقرار و سکونت جمعیت، عوامل طبیعی بیش‌ترین نقش را دارند.

تغییر در روستانشینی و سکونتگاه‌های روستایی

متوسط - منته - ۱۳۹۸

۱۸ همه موارد از مهم‌ترین عوامل شکل‌گیری هسته اولیه روستاها و شهرها در ایران هستند، به جز

- ۱ بازارهای محلی
- ۲ دسترسی به آب
- ۳ فعالیت اقتصادی و تجاری
- ۴ قلعه‌های دفاعی

سلسله‌مراتب سکونتگاه‌ها و حوزه نفوذ سکونتگاه

متوسط - ۱۳۹۹ - smart

۱۹ سلسله مراتب سکونتگاه‌ها به چه معناست و در سلسله‌مراتب سکونتگاه‌های اروپا، کدام سکونتگاه یک رتبه پایین‌تر از پایتخت قرار دارد؟

- ۱ رتبه‌بندی سکونتگاه برحسب اهمیت - شهر متوسط
- ۲ رتبه‌بندی سکونتگاه برحسب اهمیت - شهر منطقه‌ای
- ۳ طبقه‌بندی سکونتگاه بر اساس وسعت محدوده جغرافیایی آن - شهر متوسط
- ۴ طبقه‌بندی سکونتگاه بر اساس وسعت محدوده جغرافیایی آن - شهر منطقه‌ای

از مادرشهر تا زنجیره کلان شهرها (مگالاپلیس)

۲۰) هریک از گزاره های زیر با کدام مورد مرتبط است؟

- الف) بر سایر سکونتگاه ها برتری دارد.
ب) در امتداد راه های ارتباطی، شکل خطی و کریدوری دارد.
ج) به بخش پیرامونی یک شهر گفته می شود.

متوسط - منتا - ۱۳۹۸

- ۱) متروپل - مگالاپلیس - متروپل ۲) مادرشهر - مادرشهر - حومه
۳) متروپل - مادرشهر - متروپل ۴) مادرشهر - مگالاپلیس - حومه

متوسط - منتا - ۱۳۹۸

۲۱) در کدام گزینه به اولین مگالاپلیس های جهان اشاره شده است؟

- ۱) کیوتو - یوکوهاما / بوستن - واشنگتن
۲) توکیو - ازاکا / بوستن - نیویورک
۳) ازاکا - کوبه / توکیو - یوکاهاما
۴) بوستن - واشنگتن / توکیو - یوکوهاما

سلسله مراتب سکونتگاه ها و حوزه نفوذ سکونتگاه

سخت - ۱۳۹۸ - smart

۲۲) برخی از شهرها به سبب اینکه نقش مهمی در اقتصاد جهانی دارند، و به آن ها می گویند.

- ۱) محدوده وسیعی از آن شهرها کالا و خدمات دریافت می کنند - جهان شهر
۲) به تدریج در پیرامون آن ها، شهرها و شهرک های اقماری پدید آمده است - مگالاپلیس
۳) محدوده وسیعی از آن شهرها کالا و خدمات دریافت می کنند - مگالاپلیس
۴) به تدریج در پیرامون آن ها شهرها و شهرک های اقماری پدید آمده است - جهان شهر

تغییرات جمعیت شهری و روستایی در ایران

متوسط - منتا - ۱۳۹۸

۲۳) اصلاحات ارضی یعنی

- ۱) تغییر کاربری زمین های کشاورزی و ایجاد مزارع تک محصولی
۲) تغییر قوانین مالکیت زمین و توزیع مجدد آن به نفع کشاورزان
۳) تغییر کالبدی و عملکردی در روستاها و تغییر قوانین مالکیت زمین
۴) ایجاد مزارع تک محصولی و توزیع محصولات به نفع کشاورزان

از مادرشهر تا زنجیره کلان شهرها (مگالاپلیس)

متوسط - منتا - ۱۳۹۸

۲۴) پیامد مشارکت زیاد در اقتصاد و تجارت جهانی برای شهرها کدام می باشد؟

- ۱) تبدیل شدن به جهان شهر ۲) گسترش حومه های آن ها
۳) افزایش جمعیت ۴) تبدیل شدن به منطقه ابرشهری

مقر و موقعیت

متوسط - منتا - ۱۳۹۸

۲۵) شرایط و ارتباط سکونتگاه با عوامل در سطح ناحیه، توسط کدام مفهوم نشان داده می شود؟

- ۱) مقر ۲) موقعیت
۳) پیرامون ۴) هسته اولیه

تفاوت های شهر و روستا

متوسط - سراسری - ۱۳۹۷

۲۶) کدام مورد، ویژگی های یک روستا را در مقایسه با شهر، به درستی بیان می کند؟

- ۱) فضاهای صنعتی فشرده تر - تعاون و همکاری بیشتر - چشم اندازهای طبیعی بیشتر
۲) وابستگی به فعالیت های اولیه - تعاون و همکاری بیشتر - فضاهای صنعتی گسترده تر
۳) نوگرایی و تغییرات اجتماعی شدیدتر - کاربری اراضی متنوع تر - خدمات و تسهیلات کمتر
۴) وابستگی به فعالیت های اقتصادی نوع اول - تغییرات اجتماعی کمتر - فضاهای مسکونی کوچک تر

متوسط - سراسری - ۱۴۰۲

۲۷ به طور معمول در سکونتگاه‌هایی که بیشتر جمعیت فعال در فعالیت‌های نوع دوم و سوم اشتغال دارند

- ۱ از نظر میزان جمعیتی با متداول‌ترین ملاک تشخیص شهر و روستا، جمعیت بیشتری مشاهده می‌شود.
- ۲ در شیوه زندگی ساکنان آن، تغییرات اجتماعی در مقایسه با وابستگی اجتماعی کمتر دیده می‌شود.
- ۳ به دلیل جمعیت بیشتر، فعالیت ساکنان آن در چشم‌اندازهای طبیعی گسترده‌تری، انجام می‌شود.
- ۴ در ارائه خدمات و تسهیلات به ساکنان آنها، تنوع و تعداد کمتری مشاهده می‌شود.

از مادرشهر تا زنجیره کلان‌شهرها (مگالاپلیس)

متوسط - خارج از کشور - ۱۴۰۰

۲۸ کدام عبارت، درست است؟

- ۱ همه پایتخت‌ها در سطح جهان، مادرشهر هستند.
- ۲ مادرشهرها بیش از ۱۰ میلیون نفر جمعیت دارند.
- ۳ مادرشهرها در رأس هرم سلسله‌مراتب سکونتگاهی قرار دارند.
- ۴ مادرشهرها، بزرگ‌ترین و پرجمعیت‌ترین شهر در یک ناحیه یا استان هستند.

سخت - ۱۴۰۰ - smart

۲۹ در کدام گزینه یکی از ویژگی‌های مگالاپلیس‌ها بیان نشده است؟

- ۱ در امتداد مسیرهای ارتباطی هستند - انبوهی جمعیت
- ۲ تمرکز صنایع دانش بنیان - زنجیره‌ای از مادرشهرها
- ۳ تمرکززدایی از تراکم جمعیت - تمرکز مؤسسات مالی
- ۴ فراوانی آمد و شد بین مادرشهرها - در امتداد مسیرهای حمل و نقل هستند.

سخت - ۱۴۰۰ - smart

۳۰ کدام یک از عبارات زیر صحیح است؟

- ۱ در خصوص رقم حداقل جمعیت مادرشهر، توافق نظر وجود دارد.
- ۲ در کشور ایران، به مادرشهرهایی که بیش از ۱۰ میلیون نفر جمعیت داشته باشند، کلان‌شهر گفته می‌شود.
- ۳ با افزایش جمعیت مادرشهر و محدود شدن حومه‌های آنها به تدریج منطقه مادرشهری به وجود می‌آید.
- ۴ توکیو یک جهان‌شهر می‌باشد.

تفاوت‌های شهر و روستا

متوسط - ۱۴۰۰ - smart

۳۱ هریک از عبارت‌های زیر به ترتیب مربوط به کدام یک از موارد تفاوت شهر و روستا است؟

- در شهرها امکانات آموزشی، درمانی و پزشکی و... گسترده‌تر از روستا است.
- مهم‌ترین ملاک تفاوت شهر و روستا است.
- در شهرها نوگرایی بیشتر است.
- متداول‌ترین ملاک تشخیص شهر و روستا است.

- ۱ دسترسی به خدمات و تسهیلات - فعالیت اقتصادی - فرهنگ و مناسبات اجتماعی - میزان جمعیت
- ۲ وسعت و فضای سکونت و فعالیت - میزان جمعیت - دسترسی به خدمات و تسهیلات - فعالیت اقتصادی
- ۳ وسعت و فضای سکونت و فعالیت - فعالیت اقتصادی - دسترسی به خدمات و تسهیلات - میزان جمعیت
- ۴ دسترسی به خدمات و تسهیلات - میزان جمعیت - فرهنگ و مناسبات اجتماعی - فعالیت اقتصادی

تغییر در روستانشینی و سکونتگاه‌های روستایی

متوسط - ۱۴۰۰ - smart

۳۲ چه تعداد از عبارات زیر نادرست می‌باشند؟

- الف) در سال ۱۹۵۰ فقط ۶۰ درصد جمعیت جهان در شهرها زندگی می‌کردند.
- ب) شهرنشینی و افزایش آن در نواحی مختلف متوازن است.
- ج) گسترش شهرنشینی در آسیا و آفریقا سرعتی بالاتر از سایر نواحی دارد.

- ۱ هیچ عبارتی نادرست نیست
- ۲ ۱ عبارت
- ۳ ۲ عبارت
- ۴ همه عبارات نادرست هستند.

مقر و موقعیت

متوسط - ۱۴۰۰ - smart

۳۳) به ترتیب درست یا نادرست بودن عبارت‌های زیر را مشخص کنید.

الف) هسته اولیه روستاها یا شهرها در مراکز آن واقع شده است.

ب) تمدن‌های اولیه در دشت‌ها به وجود آمده‌اند.

ج) از عوامل جذب نیروی کار در برخی از نقاط منابع معدنی است.

د) نوع نیاز مردم، اشغال و گسترش هسته اولیه هر مکان را تعیین کرده است.

۴) ص - ص - غ - غ

۳) غ - ص - غ - ص

۲) ص - غ - ص - غ

۱) غ - غ - ص - ص

از مادرشهر تا زنجیره کلان‌شهرها (مگالاپلیس)

متوسط - ۱۴۰۰ - smart

۳۴) چه تعداد از عبارات زیر نادرست هستند؟

الف) متروپل شهر یا سکونتگاه اصلی یک منطقه و بزرگترین و مهم‌ترین شهر یک ناحیه است.

ب) مادرشهرها شکل خطی یا کربدوری دارند.

ج) مادرشهرها معمولاً مراکز حکومتی، مذهبی و تجاری یک کشور هستند و از این جهت برتری دارند.

د) گاه در اثر گسترش دو یا چند مادرشهر در امتداد مسیرهای ارتباطی متروپل شکل می‌گیرد.

۴) عبارت ۴

۳) عبارت ۳

۲) عبارت ۲

۱) عبارت ۱

تغییرات جمعیت شهری و روستایی در ایران

سخت - ۱۴۰۰ - smart

۳۵) کدام‌یک از اقدامات زیر در سال ۱۳۴۱ آغاز شد؟ نتیجه آن چه بود؟

۱) اصلاحات ارضی - انهدام کشاورزی ایران

۲) تأسیس بنیاد مسکن - تحول در مالکیت مسکن در ایران

۳) اجرای طرح‌های هادی روستایی - بهبود وضع روستاییان

۴) انقلاب سفید - سلطه آمریکا بر ایران

تغییر در روستانشینی و سکونتگاه‌های روستایی

متوسط - ۱۴۰۰ - smart

۳۶) اینکه ممکن است یک شهر کوچک فقط به چند روستای پیرامون خود خدمات بدهد، نشان دهنده است.

۱) سلسله مراتب پایین آن سکونتگاه

۲) حوزه نفوذ کم وسعت آن سکونتگاه

۳) موقعیت پایین سکونتگاه

۴) تفاوت‌های میان شهر و روستای پیرامون

به سوی جهانی در حال شهری شدن و افزایش شهرهای میلیونی

۳۷) با توجه به نمودار زیر، در کدام گزینه راهکار مناسب در «کنترل حرکت به سوی جهانی در حال شهری شدن» به درستی بیان شده است؟

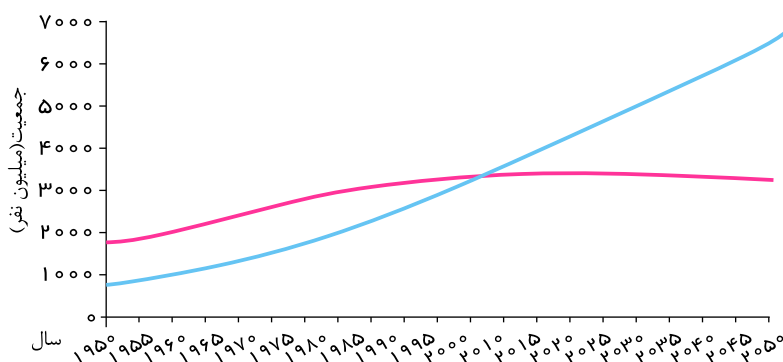
۱) تدوین برنامه‌های عمومی و آمایش در مقیاس ملی

۲) اجرای سیاست‌های کلی اقتصادی و اجتماعی در مقیاس ملی

۳) طراحی برنامه توسعه روستایی به منظور دسترسی به خدمات اجتماعی

۴) برنامه‌ریزی و مدیریت شهر و روستا بر اساس همکاری و مشارکت مردم

سخت - خارج از کشور - ۱۳۹۹



تغییرات جمعیت شهری و روستایی در ایران

- ۳۸ چرا اکثر مهاجران روستایی پس از ورود به شهر، در «بخش غیررسمی اقتصاد» به فعالیت می‌پردازند؟
الف) افزایش رشد طبیعی جمعیت شهری
ب) محدودیت فرصت‌های شغلی در شهر
ج) نداشتن مهارت و تخصص
د) رشد بخش غیررسمی اقتصاد
- ۱ الف و ب
۲ الف و د
۳ ج و د
۴ ب و ج

متوسط - سراسری - ۱۳۹۹

به سوی جهانی در حال شهری شدن و افزایش شهرهای میلیونی

۳۹ توضیح مقابل کدام مفهوم، نادرست ذکر شده است؟

- ۱ کلان‌شهر: در ایران به مادرشهرهایی که بیش از یک میلیون نفر جمعیت دارند، اطلاق می‌شود.
۲ مادرشهر: بزرگ‌ترین و مهم‌ترین شهر یک ناحیه، استان یا کشور است.
۳ منطقه ابرشهری: در امتداد راه‌های ارتباطی و حمل‌ونقل پدید آمده است.
۴ متروپل: در آن، حومه و شهرک‌های اقماری یک مادرشهر با حومه‌های مادرشهر دیگر پیوند می‌خورد.

سخت - متنا - ۱۳۹۹

سلسله‌مراتب سکونتگاه‌ها و حوزه نفوذ سکونتگاه

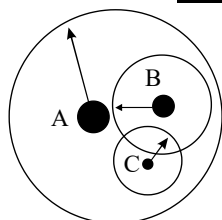
۴۰ کدام گزینه در زمینه شهر و شهرنشینی و تغییرات آن گزاره درستی را ارائه می‌دهد؟

- ۱ در سال ۱۹۵۰ میلادی فقط نیمی از جمعیت جهان در شهرها زندگی می‌کردند.
۲ شهرنشینی و افزایش آن در نواحی مختلف جهان ظاهری متوازن دارد.
۳ گسترش شهرنشینی در آسیا و آفریقا سرعتی بالاتر از سایر نواحی جهان دارد.
۴ امروزه جمعیت شهرنشین جهان با جمعیت روستانشین برابری می‌کند.

متوسط - smart - ۱۳۹۹

۴۱ شکل زیر حوزه نفوذ سه سکونتگاه را نشان می‌دهد. با توجه به سلسله‌مراتب سکونتگاه‌ها در اروپا، موارد A, B, C به ترتیب متوسط - smart - ۱۳۹۹

در کدام گزینه به درستی بیان شده است؟



- ۱ شهر کوچک - هاملت - روستا
۲ پایتخت - هاملت - شهر منطقه‌ای
۳ شهر کوچک - شهر منطقه‌ای - روستا
۴ پایتخت - شهر منطقه‌ای - هاملت

تفاوت‌های شهر و روستا

۴۲ همه عبارت‌ها درباره تفاوت‌های شهر و روستا گزاره نادرستی را بیان می‌کنند، به جز:

- ۱ روستاها از تراکم جمعیتی بالاتری برخوردار هستند.
۲ در شهرها فعالیت‌های متنوع در فضاهای محدودتری متراکم شده‌اند.
۳ روستاها درصد بالایی از اشتغال در بخش‌های صنعتی و خدماتی را دارند.
۴ در شهرها وابستگی اجتماعی و میزان همکاری افراد بیشتر است.

سخت - smart - ۱۳۹۹

تغییرات جمعیت شهری و روستایی در ایران

۴۳ اصلاحات ارضی از چه سالی در ایران انجام گرفت و نتیجه آن چه بود؟

- ۱ ۱۳۴۱ - بهبود وضع روستاییان
۲ ۱۳۳۵ - انهدام کشاورزی
۳ ۱۳۴۱ - انهدام کشاورزی
۴ ۱۳۳۵ - بهبود وضع روستاییان

سخت - متنا - ۱۳۹۸

مقر و موقعیت

- ۴۴ کدام گزینه با جمله «برخی رویدادهای سیاسی یا تغییرات آب و هوایی ممکن است موجب انتقال شهر به مکانی دیگر شود»، ارتباط بیش تری دارد.
- چهار هزار سال قبل، نخستین روستاها و شهرهای پرجمعیت و همچنین تمدن های اولیه، در کنار رودهای دجله، فرات، نیل، کارون، سند و ... پدید آمدند. متوسط - منتهای ۱۳۹۸
 - در کشور ایران، دسترسی به آب، قلعه های دفاعی، بازارهای محلی و قرار گرفتن در تقاطع راه ها از مهم ترین عوامل شکل گیری روستاها و شهرها بوده است.
 - نزدیک بودن شهر به روستاهای پرجمعیت مجاور و یا منابع معدنی، در جذب نیروی کار و توسعه صنایع آن شهر تأثیر زیادی دارد.
 - هسته اولیه شهر رشت، مکان بازار و تجارت محصولات کشاورزی و ابریشم با نواحی پیرامون آن است.

سلسله مراتب سکونتگاه ها و حوزه نفوذ سکونتگاه

- ۴۵ با توجه به سلسله مراتب سکونتگاه ها در اروپا، در کدام سکونتگاه ها تنوع خدمات کم تر است؟
- smart- ۱۳۹۸ - سخت
- شهر منطقه ای
 - روستا
 - هاملت
 - شهر کوچک
- ۴۶ کدام گزینه تعریف دقیق تری برای حوزه نفوذ سکونتگاه است؟
- smart- ۱۳۹۸ - سخت
- بیش ترین مسافتی که مردم منطقه برای دریافت خدمات از سکونتگاه طی می کنند.
 - به محدوده جغرافیایی که از یک سکونتگاه کالا و انواع خدمات دریافت می کند و بین آن محدوده و سکونتگاه جریان کالا و خدمات و رفت و آمد وجود دارد.
 - حداقل جمعیتی که تقاضای کالا، خدمات یا عملکردی از سکونتگاه دارند.
 - محدوده جغرافیایی که جمعیت آن سکونتگاه در آن پراکنده اند.

مقر و موقعیت

- ۴۷ مکانی را که مردم برحسب نیاز برای زندگی انتخاب کرده و به اشغال درآورده اند و بعدها روستاها یا شهر از آن محل گسترش یافته است، چه می نامند و کدام ویژگی یک شهر یا روستا در ادامه حیات یا گسترش آن سکونتگاه و یا حتی نابودی و زوال آن نقش مهمی ایفا می کند؟
- smart- ۱۳۹۸ - سخت
- مقر _ موقعیت
 - هسته اولیه _ موقعیت
 - مقر _ هسته اولیه
 - هسته اولیه _ مقر

سلسله مراتب سکونتگاه ها و حوزه نفوذ سکونتگاه

- ۴۸ در نمودار سلسله مراتب سکونتگاه ها چه رابطه ای بین جمعیت و تنوع خدمات وجود دارد؟
- متوسط - منتهای ۱۳۹۸
- مستقیم
 - رابطه ای وجود ندارد
 - تضاد
 - این رابطه بستگی به شرایط موجود دارد

مقر و موقعیت

- ۴۹ خصوصیات بیان شده مربوط به کدام شهر است؟ «این شهر در کنار رودخانه کارون و در محل مقاطع راه های آبی، جاده ای و راه آهن قرار گرفته و موقعیت چهار راهی دارد».
- متوسط - منتهای ۱۳۹۸
- لرستان
 - اصفهان
 - شهرکرد
 - اهواز
- ۵۰ در سکونت گزینی انسان ها چه عواملی مؤثر است؟
- متوسط - منتهای ۱۳۹۸
- آب فراوان و آب و هوای ملایم
 - خاک حاصلخیز جلگه ای
 - عوامل تاریخی
 - ۲ و ۱

تغییر در روستانشینی و سکونتگاه های روستایی

- ۵۱ طبق آمار سازمان ملل در نیمه سال ۲۰۱۸ میلادی جمعیت روستاهای جهان چند نفر است؟
- متوسط - منتهای ۱۳۹۸
- ۵٫۲ میلیارد نفر
 - ۳٫۴ میلیارد نفر
 - ۴ میلیارد نفر
 - ۴٫۲ میلیارد نفر

تغییرات جمعیت شهری و روستایی در ایران

سخت - منتهای ۱۳۹۸

۵۲) بنابر نظر پژوهشگران، کدام مورد هسته اولیه شهر رشت را شکل داده است؟

- ۱) دسترسی به عوامل طبیعی و انسانی پیرامون خود
 ۲) نقش تاریخی قلعه‌های دفاعی شهر
 ۳) تجارت محصولات کشاورزی و ابریشم با نواحی پیرامون
 ۴) راه‌های ارتباطی دریایی

متوسط - منتهای ۱۳۹۸

۵۳) به ترتیب دوره شهرنشینی کند و شهرنشینی سریع و بوده‌اند.

- ۱) قبل از سال ۱۳۵۷ - بعد از سال ۱۳۶۰
 ۲) قبل از سال ۱۳۴۰ - بعد از سال ۱۳۷۰
 ۳) قبل از سال ۱۳۳۵ - بعد از سال ۱۳۶۰
 ۴) قبل از سال ۱۳۳۵ - بعد از سال ۱۳۳۵

تغییر در روستانشینی و سکونتگاه‌های روستایی

متوسط - منتهای ۱۳۹۸

۵۴) پیامد ایجاد کشت تجاری در روستاها توسط شهرنشینان بود.

- ۱) وقوع جنگ‌های قبیله‌ای و محلی
 ۲) کاهش روستانشینی
 ۳) ایجاد فرصت‌های شغلی بیشتر
 ۴) افزایش دستمزد روستاییان

به سوی جهانی در حال شهری شدن و افزایش شهرهای میلیونی

سخت - منتهای ۱۳۹۸

۵۵) از پیامدهای رشد بخش خدمات و ورود کشورها به تجارت جهانی کدام بوده است؟

- ۱) توسعه کارخانه‌ها
 ۲) افزایش شهرهای میلیونی
 ۳) مهاجرت از شهرها به روستاها
 ۴) رشد شهرنشینی

تفاوت‌های شهر و روستا

سخت - ۱۴۰۰ - smart

۵۶) همه عبارت‌ها درباره شهر و روستا نادرست است، به جز:

- ۱) متداول‌ترین ملاک تشخیص شهر و روستا فعالیت اقتصادی است و همکاری در روستاها بیشتر است.
 ۲) متداول‌ترین ملاک تشخیص شهر و روستا ملاک جمعیتی است و همکاری در روستاها بیشتر است.
 ۳) متداول‌ترین ملاک تشخیص شهر و روستا ملاک جمعیتی است و وابستگی اجتماعی در شهرها بیشتر است.
 ۴) متداول‌ترین ملاک تشخیص شهر و روستا فعالیت اقتصادی است و وابستگی اجتماعی در شهرها بیشتر است.

سخت - ۱۴۰۰ - smart

۵۷) به ترتیب درستی یا نادرستی هر یک از عبارت‌های زیر در کدام گزینه به درستی بیان شده است؟

- الف) در شهرها وابستگی اجتماعی و میزان همکاری افراد بیشتر است.
 ب) در روستاها درصد بیشتری از جمعیت فعال در بخش کشاورزی فعالیت می‌کنند.
 ج) در شهرها فعالیت‌های متنوع در فضاهای محدودتری متراکم شده‌اند.
 د) روستاها از تراکم جمعیت بالاتری برخوردار هستند.
- ۱) ص - غ - ص - غ
 ۲) ص - ص - غ - غ
 ۳) غ - ص - ص - غ
 ۴) غ - ص - غ - ص

سخت - منتهای ۱۴۰۲

۵۸) کدام مفهوم در رابطه با تغییرات کالبدی و عملکردی در روستاها نادرست است؟

- ۱) با بروز تحولات سیاسی و ورود کشورها به عصر نوسازی (مدرنیزاسیون)، نفوذ شهرها و شهرگرایی، در روستاها افزایش یافت.
 ۲) منظور از شهرگرایی، روندی اقتصادی - اجتماعی است که طی آن شیوه‌های زندگی، رفتار و عملکردها، ارزش‌ها و مظاهر شهری در روستاها و بین روستانشینان رواج یابد.
 ۳) با فراهم شدن امکانات و تجهیزاتی چون آب و برق و راه‌سازی، استفاده از ماشین‌آلات کشاورزی و مصالح ساختمانی و تجهیزات شهری، تغییرات قابل ملاحظه‌ای در چهره و کالبد روستاها نسبت به گذشته پدید آمد.
 ۴) با آنکه فعالیت غالب در بیشتر روستاها زراعت است، نقش و عملکرد برخی از روستاها تغییر کرده و عملکردهای جدیدی به‌طور مستقل یا علاوه بر زراعت در این روستاها پدیدار شده است.

روابط شهر و روستا

۵۹ «روابط شهر و روستا را می توان از جنبه های مختلف اقتصادی، اجتماعی و فرهنگی مطالعه کرد. به همین سبب، جغرافی دان ها و سایر اندیشمندان نظریه های مختلفی در این زمینه ارائه کرده اند»، کدام مورد در رابطه با این گزاره صحیح است؟

متوسط - متنازوم - ۱۴۰۱

- ۱ در بیشتر آن ها بر نابرابری میان شهر و روستا تأکید شده است.
- ۲ در بیشتر آن ها بر معیشت کشاورزی در روستا و صنعت در شهر اشاره شده است.
- ۳ در اغلب آن ها بر عدم توازن درآمدی در روستاها اشاره شده است.
- ۴ طبق این نظریه ها، شهر محل تولید کالاهای کارخانه ای و روستا محل انباشت سرمایه است.

از مادرشهر تا زنجیره کلان شهرها (مگالاپلیس)

۶۰ به ترتیب کدام گزینه در مورد مگاسیتی و مگالاپلیس درست است؟

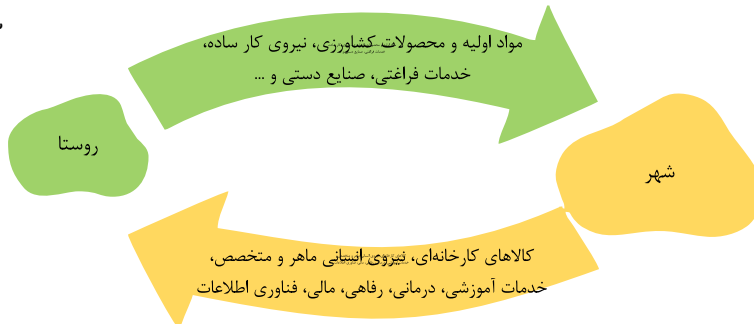
سخت - متنازوم - ۱۴۰۱

- ۱ به شهرهایی با بیش از ۱۰ میلیون نفر جمعیت اطلاق می شود. - از اتصال یک مادرشهر و حومه و شهرک های اقماری آن با یک مادرشهر و حومه ها و شهرک های اقماری شهر دیگر حاصل می شود.
- ۲ به شهرهایی که بیش از ۱۰ میلیون نفر جمعیت دارند اطلاق می شود. - بزرگ ترین و مهم ترین شهر یک ناحیه، استان یا یک کشور است.
- ۳ بزرگ ترین و مهم ترین شهر یک ناحیه، استان یا کشور است. - به سبب نقش مهم آن ها در اقتصاد و تجارت جهانی، حوزه نفوذ بسیار وسیعی در سطح جهان دارند.
- ۴ از اتصال یک مادرشهر و حومه ها و شهرک های اقماری آن با یک مادرشهر و حومه ها و شهرک های اقماری شهر دیگر حاصل می شود. - بزرگ ترین و مهم ترین شهر یک ناحیه، استان یا کشور است.

روابط شهر و روستا

۶۱ باتوجه به نمودار داده شده کدام عبارت درست است؟

سخت - متنازوم - ۱۴۰۱



- ۱ در نظریه های جغرافی دان ها و سایر اندیشمندان، بیشتر بر نوع رابطه بین شهر و روستا تأکید شده است.
- ۲ نوع و چگونگی روابط شهر و روستا در زمان های مختلف و در نواحی مختلف جهان متفاوت بوده است.
- ۳ روابط شهر و روستا را می توان از جنبه های سیاسی، اقتصادی، نظامی و اجتماعی مطالعه کرد.
- ۴ در گذشته شهر و روستا برخلاف امروزه با یکدیگر وابستگی و روابط متقابل داشته اند.

تغییرات جمعیت شهری و روستایی در ایران

۶۲ شهرنشینی سریع از چه سالی به بعد آغاز شد؟ و جمعیت دومین شهر پرجمعیت ایران چه نسبتی با اولین شهر پرجمعیت کشور دارد؟

متوسط - ۱۴۰۰ - smart

- ۱ از سال ۱۳۳۵ - نصف آن است.
- ۲ از سال ۱۳۳۱ - دو برابر آن است.
- ۳ از سال ۱۳۴۵ - نصف آن است.
- ۴ از سال ۱۳۴۱ - دو برابر آن است.

از مادرشهر تا زنجیره کلان شهرها (مگالاپلیس)

تغییرات جمعیت شهری و روستایی در ایران

۶۴) اینکه بین مناطق برخوردار و مرفه و مناطق محروم تفاوت‌های چشمگیری وجود دارد، به چه چیزی بر می‌گردد؟ این پدیده ناشی از چیست؟

متوسط - ۱۴۰۰ - smart

- ۱) رشد بخش غیررسمی در اشتغال - نظام اقتصادی سرمایه‌داری
 ۲) نظام سرمایه‌داری - نابرابری فضایی
 ۳) نابرابری فضایی - نظام اقتصادی سرمایه‌داری
 ۴) فقدان مسکن کافی و نامناسب - نابرابری فضایی

متوسط - ۱۴۰۰ - smart

۶۵) همه گزینه‌ها به درستی به راه‌های افزایش جمعیت در ایران اشاره کرده‌اند؛ به جز

- ۱) افزایش موالید - مهاجرت روستاییان به شهرها
 ۲) سیاست‌های تشویقی مهاجرت - ادغام روستاها در بافت شهری
 ۳) افزایش جمعیت روستاها و تبدیل آن‌ها در شهر - رشد موالید نسبت به مرگ و میر
 ۴) مهاجرت روستاییان به شهرها - ادغام روستاها در بافت شهری

متوسط - ۱۴۰۰ - smart

۶۶) کدام گزینه فقط به علل انهدام کشاورزی پس از اصلاحات ارضی در ایران اشاره دارد؟

- ۱) شدت گرفتن مهاجرت روستاییان به شهرها - توجه به صنایع مونتاژ
 ۲) حمایت دولت از کشاورزان - تغییر قوانین مالکیت زمین
 ۳) عدم حمایت از واردکننده‌های محصولات خارجی - عدم توجه به صنایع مونتاژ
 ۴) تقسیم نادرست زمین - حمایت نکردن دولت از کشاورزان

متوسط - ۱۴۰۰ - smart

۶۷) تا چه سالی مهاجرت از روستاها به‌کندی صورت می‌گرفت؟ این دوره به چه زمانی معروف است؟ و کدامیک از ویژگی‌های این دوره است؟

- ۱) ۱۳۳۱ - اصلاحات ارضی - مهاجرت از روستاهای دیگر به‌کندی صورت نمی‌گرفت.
 ۲) ۱۳۴۱ - دوره شهرنشینی سریع - تغییر قوانین مالکیت زمین به نفع کشاورزان
 ۳) ۱۳۳۵ - دوره شهرنشینی کند - بخش عمده تولیدات داخلی محصولات کشاورزی بود.
 ۴) ۱۳۴۵ - اصلاحات ارضی - دولت با درآمدهای نفتی بیشترین سرمایه‌گذاری را در روستاها کرد.

متوسط - ۱۴۰۰ - smart

۶۸) در کدامیک از گزینه‌های زیر تماماً ویژگی‌های برنامه آمایش بیان نشده است؟

- ۱) توجه به تمام ابعاد توسعه - توجه به حفظ محیط زیست
 ۲) توزیع متوازن جمعیت - توجه به عدالت در توسعه
 ۳) توجه به نیازهای حال و آینده - توجه به همبستگی تاریخی کشور
 ۴) توجه به ظرفیت‌ها و توانمندی‌های همه مناطق - تحقق عدالت اجتماعی

تفاوت‌های شهر و روستا

متوسط - ۱۴۰۰ - smart

۶۹) به ترتیب سکونتگاه‌ها از چه نظر با یکدیگر متفاوت‌اند و کدام مورد جزء مشاغل اغلب روستایی‌ها نیست؟

- ۱) وسعت - کشاورزی گسترده
 ۲) عملکرد - بخش صنایع
 ۳) جمعیت - شکار
 ۴) شرایط جوی - ارائه خدمات

تغییر در روستانشینی و سکونتگاه‌های روستایی

۷۰) توسعه شهرها و مهاجرت از روستا به شهر در هر کدام از مناطق زیر به چه صورت بوده است؟

متوسط - ۱۴۰۰ - smart

الف) آمریکای لاتین

ب) آسیا

ج) اروپا

- ۱) با سرعت - همگام با تحولات صنعتی - پرشتاب
 ۲) تدریجی - همگام با تحولات صنعتی - طولانی
 ۳) با سرعت - عدم هماهنگی با تحولات - طولانی
 ۴) تدریجی - عدم هماهنگی با تحولات - پرشتاب

تغییرات جمعیت شهری و روستایی در ایران

۷۱) مهاجرت روستاییان به شهرها عدم موفقیت اصلاحات ارضی است. و اصلاحات ارضی در انجام گرفت که در نتیجه به

متوسط - ۱۴۰۰ - smart

انهدام کشاورزی انجامید.

- ۱) علت - ۵ مرحله
 ۲) معلول - ۳ مرحله
 ۳) علت - ۴ مرحله
 ۴) معلول - ۲ مرحله

تغییر در روستانشینی و سکونتگاه‌های روستایی

متوسط - ۱۴۰۰ - smart

۷۲) بروز تحولات صنعتی و ورود کشورها به عصر نوسازی موجب چه چیزی شد؟

- ۱) نفوذ روستاها در شهر
- ۲) شهرگرایی در روستاها
- ۳) ایجاد تغییرات قابل ملاحظه در کالبد روستاها
- ۴) رواج شیوه‌های زندگی شهری در روستاها

تغییرات جمعیت شهری و روستایی در ایران

متوسط - ۱۴۰۰ - smart

۷۳) مهاجرت گسترده مردم از سراسر ایران به تهران موجب چه امری شد؟

- ۱) تبدیل تهران به یک مگالاپلیس
- ۲) تبدیل تهران به یک مادرشهر ملی
- ۳) ادغام روستاهای اطراف در بافت تهران
- ۴) رشد طبیعی جمعیت شهر تهران

سلسله مراتب سکونتگاه‌ها و حوزه نفوذ سکونتگاه

متوسط - ۱۴۰۰ - smart

۷۴) در کدام یک از گزینه‌های زیر به ترتیب سلسله مراتب سکونتگاه‌ها براساس سلسله مراتب اروپا بیان شده است؟

- ۱) پایتخت - شهر منطقه‌ای - شهر متوسط - شهر کوچک - روستا و هاملت
- ۲) شهر منطقه‌ای - شهر متوسط - پایتخت - شهر کوچک - هاملت
- ۳) پایتخت - شهر متوسط - شهر منطقه‌ای - شهر کوچک - روستا
- ۴) شهر منطقه‌ای - پایتخت - شهر کوچک - روستا - هاملت

تغییر در روستانشینی و سکونتگاه‌های روستایی

متوسط - ۱۴۰۰ - smart

۷۵) تقابل سنت نوگرایی با ملاک و محدود بودن تسهیلات با ملاک از ملاک تشخیص شهر و روستا در ارتباط است.

- ۱) فرهنگ و مناسبات اجتماعی - دسترسی به خدمات
- ۲) فعالیت اقتصادی - میزان جمعیت
- ۳) میزان جمعیت - فرهنگ و مناسبات اجتماعی
- ۴) دسترسی به خدمات - فعالیت اقتصادی

روابط شهر و روستا

متوسط - ۱۴۰۰ - smart

۷۶) سرعت گسترش شهرنشینی در کدام قاره‌ها بیشتر است و کدام گزینه تعریف اصطلاح شهرنشینی را به طور دقیق بیان کرده است؟

- ۱) آسیا و اروپا - افزایش نسبت جمعیت شهرهای یک کشور یا ناحیه به روستاهای آن
- ۲) آسیا و آفریقا - افزایش نسبت جمعیت شهرهای یک کشور یا ناحیه به روستاهای آن
- ۳) آفریقا و اقیانوسیه - افزایش جمعیت شهرهای یک کشور نسبت به سایر کشورها
- ۴) اقیانوسیه و آمریکا - افزایش جمعیت شهرهای یک کشور نسبت به سایر کشورها

مقر و موقعیت

متوسط - ۱۴۰۰ - smart

۷۷) کدام گروه از عوامل زیر باعث از دست رفتن موقعیت یک شهر خواهد شد؟

- ۱) تغییرات پیرامونی مانند رویداد سیاسی یا تغییرات آب و هوایی
- ۲) دوری از منابع معدنی و توسعه صنایع شهر
- ۳) مجاورت آن با کوه‌های آتشفشان یا گسل‌ها
- ۴) نزدیک بودن یا دور بودن از روستاهای پر جمعیت

تفاوت‌های شهر و روستا

متوسط - ۱۴۰۰ - smart

۷۸) همه عبارات زیر در مورد تفاوت شهر و روستا به اشتباه بیان شده‌اند؛ به جز

- ۱) عمدتاً روستاها از شهرها پرجمعیت‌ترند و تراکم جمعیت در روستاها بیشتر است.
- ۲) کم اهمیت‌ترین ملاک تشخیص شهر و روستا، ملاک جمعیتی است.
- ۳) در اغلب روستاها درصد بیشتری از جمعیت فعال در بخش صنعتی فعالیت می‌کنند.
- ۴) در شهرها فعالیت‌های مختلف در فضاهای محدودتری متراکم شده‌اند.

مقر و موقعیت

۷۹ کدام گزینه در زمینه مقر و موقعیت سکونتگاه نادرست است؟

متوسط - منتهی - ۱۴۰۰

- ۱ تمدن‌های اولیه در کنار رودها پدید آمده‌اند.
- ۲ هسته اولیه روستاها یا شهرها در مرکز آن واقع شده است.
- ۳ منابع معدنی از عوامل جذب نیروی کار در برخی شهرها هستند.
- ۴ آنچه اشغال و گسترش هسته اولیه هر مکان را تعیین کرده است، نوع نیاز مردم بوده است.

۸۰ همه گزینه‌های زیر مثال‌هایی از نقش موقعیت یک سکونتگاه در توسعه و گسترش یا نابودی و زوال آن هستند، به جز:

متوسط - منتهی - ۱۴۰۰

- ۱ دسترسی شهر انزلی به دریا و رونق تجارت آن
- ۲ وجود منابع مس در سرچشمه در رفسنجان
- ۳ وجود یک قلعه در روستای هولوکوی مجارستان به عنوان هسته اولیه آن
- ۴ تعداد بی‌شمار گسل‌های جوان در شهر تهران

از مادرشهر تا زنجیره کلان‌شهرها (مگالاپلیس)

۸۱ همه عبارت‌ها، مفهوم درستی از «منطقه مادرشهری» را بیان می‌کنند؛ به جز:

متوسط - سراسری - ۱۳۹۹

- ۱ به تدریج با گسترش حمل‌ونقل و وسایل ارتباطی، به وجود آمده است.
- ۲ با افزایش جمعیت مادرشهرها و گسترش حومه‌های پیرامونی، به وجود می‌آید.
- ۳ با مهاجرت گسترده مردم از نقاط مختلف یک کشور به مادرشهر ملی، به وجود می‌آید.
- ۴ با افزایش جمعیت مادرشهرها و گسترش حومه‌های آنها به تدریج منطقه مادر شهری به وجود می‌آید.

مقر و موقعیت

۸۲ در کدام گزینه اطلاعات مربوط به مقر سکونتگاه‌ها گنجانده شده است؟

متوسط - منتهی - ۱۳۹۹

- الف) وضعیت سکونتگاه نسبت به پدیده‌های پیرامون
- ب) مکان اصلی یک سکونتگاه
- ج) جایگاه سکونتگاه در سطح ناحیه
- د) محل استقرار سکونتگاه بر روی زمین

- ۱ الف و ج ۲ ج و د ۳ الف و ب ۴ ب و د

تغییرات جمعیت شهری و روستایی در ایران

۸۳ اثر اصلاحات ارضی سال ۱۳۴۱ بر تغییرات جمعیت ایران چه بود؟

متوسط - ۱۳۹۹ - smart

- ۱ شدت گرفتن مهاجرت روستائیان به شهرها
- ۲ کند شدن روند مهاجرت روستائیان به شهرها
- ۳ کمک به تثبیت کامل جمعیت روستایی در نواحی روستایی
- ۴ گرایش جمعیت شهری به نواحی روستایی

به سوی جهانی در حال شهری شدن و افزایش شهرهای میلیونی

۸۴ شکل‌گیری حومه‌ها در اطراف شهرها با کدام عوامل ارتباط بیشتری دارد؟

متوسط - ۱۳۹۹ - smart

- ۱ افزایش شهرنشینی و گسترش وسایل حمل و نقل
- ۲ میزان تمرکز و انبوهی جمعیت مادرشهر
- ۳ ترکیب گروه‌های اجتماعی تشکیل‌دهنده جمعیت شهرها
- ۴ میزان سرمایه‌گذاری در نواحی اطراف شهرها

تغییرات جمعیت شهری و روستایی در ایران

متوسط - منتهای ۱۳۹۹

۸۵ علت و نتیجه «انهدام کشاورزی پس از اصلاحات ارضی در ایران، کدام است؟

- ۱ حمایت دولت از کشاورزان - تغییر قوانین مالکیت زمین
- ۲ توجه نکردن به صنایع مونتاژ - شدت گرفتن مهاجرت روستاییان به شهرها
- ۳ واردات کالا از کشورهای خارجی - شدت گرفتن مهاجرت روستاییان به شهرها
- ۴ تقسیم نادرست زمین - تغییر قوانین مالکیت زمین

سلسله مراتب سکونتگاه‌ها و حوزه نفوذ سکونتگاه

متوسط - منتهای ۱۳۹۹

۸۶ چه تعداد از موارد زیر نادرست است؟

- الف) میان افزایش جمعیت یک سکونتگاه و کاهش تعداد و تنوع خدمات آن رابطه مستقیم وجود دارد.
- ب) طبقه بندی سکونتگاه‌ها بر حسب دو معیار جمعیتی و اقتصادی صورت می‌گیرد.
- ج) شهر منطقه‌ای حوزه نفوذ وسیع تری نسبت به شهر متوسط در سلسله مراتب سکونتگاه‌های اروپایی دارد.
- د) برخی شهرها حوزه نفوذ گسترده‌ای در سطح جهانی دارند.

- ۱ یک ۲ دو ۳ سه ۴ چهار

مقر و موقعیت

۸۷ تصویر روبه‌رو به‌طور شاخص کدام ویژگی شهر اهواز را نشان می‌دهد و این ویژگی بیانگر چیست؟

متوسط - ۱۳۹۸ - smart



- ۱ هسته اولیه - محل گسترش شهر و روستا
- ۲ مقر - مکان اصلی و دقیق یک سکونتگاه
- ۳ مکان - جایگاه سکونتگاه در سطح ناحیه
- ۴ موقعیت - وضعیت سکونتگاه نسبت پدیده‌های پیرامون خود

تفاوت‌های شهر و روستا

متوسط - ۱۳۹۸ - smart

۸۸ کدام یک از گزینه‌های زیر بیانگر متداول‌ترین ملاک تشخیص شهر از روستا است؟

- ۱ در روستاها درصد بیشتری از جمعیت فعال، در بخش کشاورزی فعالیت می‌کنند.
- ۲ ملاک جمعیتی در نواحی مختلف دنیا متفاوت است.
- ۳ خانه‌ها و مغازه‌ها و فضاهای صنعتی در شهرها به هم فشرده‌ترند.
- ۴ در شهرها نوگرایی بیش‌تر و تغییرات اجتماعی سریع‌تر است.

مقر و موقعیت

متوسط - ۱۳۹۸ - smart

۸۹ در سکونت‌گزینی تمدن‌های اولیه، کدام عامل نقش کم‌تری داشته است؟

- ۱ خاک حاصلخیز ۲ دسترسی به راه‌های تجاری ۳ آب‌وهوای معتدل ۴ آب فراوان

تغییر در روستانشینی و سکونتگاه‌های روستایی

- ۹۰ کدام گزینه از عوامل مهاجرت به شهرها و کاهش روستانشینی در کشورهای توسعه یافته نمی باشد؟
- سخت - متنا - ۱۳۹۸
- ۱ توسعه صنایع کارخانه‌ای و همگام شدن جوامع با تحولات صنعتی
 - ۲ گسترش شهرها و تبدیل روستاها به حومه‌های شهری
 - ۳ اقبال به کار کردن در شهرها برای کسب درآمد بیش‌تر
 - ۴ سرمایه‌گذاری و خرید زمین‌های کشاورزی در روستاها در جهت ایجاد کشت تجاری

تفاوت‌های شهر و روستا

- ۹۱ به ترتیب، به «حداقل جمعیتی که تقاضای کالا، خدمات یا عملکردی از سکونتگاه دارند»، چه می‌گویند و در سلسله‌مراتب سکونتگاه‌ها در اروپا، کدام یک از جمعیت بیشتری برخوردار است؟
- متوسط - ۱۳۹۸ - smart

- ۱ آستانه نفوذ - شهر منطقه‌ای
- ۲ دامنه نفوذ - شهر متوسط
- ۳ آستانه نفوذ - شهر متوسط
- ۴ دامنه نفوذ - شهر منطقه‌ای

روابط شهر و روستا

- ۹۲ در ارتباط با روابط شهر و روستا کدام گزینه نادرست است؟
- سخت - متنا - ۱۳۹۸
- ۱ نوع و چگونگی روابط شهر و روستا در زمان‌های مختلف و در نواحی مختلف جهان متفاوت بوده است.
 - ۲ همواره مبادله‌ای برابر بین شهر و روستا جریان دارد.
 - ۳ روابط شهر و روستا را می‌توان از جنبه‌های مختلف اقتصادی، اجتماعی و فرهنگی مطالعه کرد.
 - ۴ شهر محل انباشت سرمایه و تمرکز اقتصادی است.

مقر و موقعیت

- ۹۳ در انتخاب مکان برای استقرار و سکونت جمعیت، کدام عامل نقش بیشتری دارد و کدام عامل موجب گسترش حوزه نفوذ شهر اهواز شده است؟
- متوسط - متنا - ۱۳۹۸
- ۱ دسترسی به منابع معدنی و ناهمواری - هسته اولیه
 - ۲ دسترسی به منابع معدنی و ناهمواری - موقعیت
 - ۳ دسترسی به راه‌های تجاری - موقعیت
 - ۴ دسترسی به راه‌های تجاری - هسته اولیه

تفاوت‌های شهر و روستا

- ۹۴ به ترتیب مهم‌ترین ملاک تشخیص شهر از روستا کدام است و سکونتگاه‌ها بر چه اساسی طبقه‌بندی می‌شوند؟
- متوسط - ۱۳۹۸ - smart
- ۱ میزان جمعیت - شرایط آب‌وهوایی
 - ۲ میزان جمعیت - میزان جمعیت
 - ۳ فعالیت اقتصادی - خدمات ارائه شده
 - ۴ فعالیت اقتصادی - وسعت

از مادرشهر تا زنجیره کلان‌شهرها (مگالاپلیس)

- ۹۵ افزایش جمعیت در شهرها و گسترش حومه‌های آنها به تدریج منطقه‌ای با عنوان به وجود آورد.
- متوسط - متنا - ۱۳۹۸
- ۱ مادرشهر بزرگ
 - ۲ حومه‌نشینی مادرشهر
 - ۳ منطقه مادرشهری
 - ۴ منطقه حومه مادرشهری

به سوی جهانی در حال شهری شدن و افزایش شهرهای میلیونی

- ۹۶ به ترتیب کدام شهرها بیشترین سطح شهرنشینی را در جهان دارند؟
- سخت - متنا - ۱۳۹۸
- ۱ آرژانتین - ژاپن - هلند
 - ۲ هلند - ژاپن - آرژانتین
 - ۳ آرژانتین - هلند - ژاپن
 - ۴ ژاپن - آرژانتین - هلند

- ۹۷ کدام گزینه در ارتباط با سطح شهرنشینی در نقاط مختلف جهان در سال ۲۰۱۴ صحیح است؟
- متوسط - متنا - ۱۳۹۸
- ۱ آمریکای شمالی ۷۹٫۵ درصد - آمریکای لاتین ۸۱٫۵ درصد - آسیا ۴۷٫۵ درصد - آمریکای شمالی ۴۷٫۵ درصد
 - ۲ آمریکای شمالی ۷۹٫۵ درصد - آسیا ۸۱٫۵ درصد - آمریکای شمالی ۴۷٫۵ درصد - آسیا ۴۷٫۵ درصد
 - ۳ آمریکای شمالی ۸۱٫۵ درصد - آمریکای لاتین ۴۷٫۵ درصد - آسیا ۷۹٫۵ درصد - آمریکای شمالی ۸۱٫۵ درصد
 - ۴ آمریکای شمالی ۸۱٫۵ درصد - آسیا ۷۹٫۵ درصد - آمریکای لاتین ۴۷٫۵ درصد - آسیا ۴۷٫۵ درصد

سلسله مراتب سکونتگاه‌ها و حوزه نفوذ سکونتگاه

۹۸ در نمودار رتبه‌بندی سکونتگاه‌ها، با حرکت به سوی بالای هرم جمعیت سکونتگاه می‌شود و خدماتی که ارائه می‌دهند است.
متوسط - منتا - ۱۳۹۸

- ۱ بیشتر - کمتر ۲ کمتر - کمتر ۳ بیشتر - بیشتر ۴ کمتر - بیشتر

تفاوت‌های شهر و روستا

۹۹ کدام گزینه صحیح نیست؟
متوسط - منتا - ۱۳۹۸

- ۱ در روستا چشم‌اندازهای طبیعی بیشتر و در شهر خدمات مالی گسترده‌تر است. ۲ در شهر نوگرایی و تغییرات اجتماعی سریع‌تر است.
۳ در همه شهرهای دنیا جمعیت بیش از ۳۰۰۰ نفر است. ۴ در شهرها، خانه‌ها و فضاهای صنعتی به هم فشرده‌تر است.

۱۰۰ عاملی که در حیات یا گسترش شهر یا روستا نقش مهمی دارد، چه می‌باشد؟
متوسط - منتا - ۱۳۹۸

- ۱ موقعیت یک شهر یا روستا ۲ تمدن ۳ حکومت و فرمانروایی ۴ عوامل سیاسی

تغییر در روستانشینی و سکونتگاه‌های روستایی

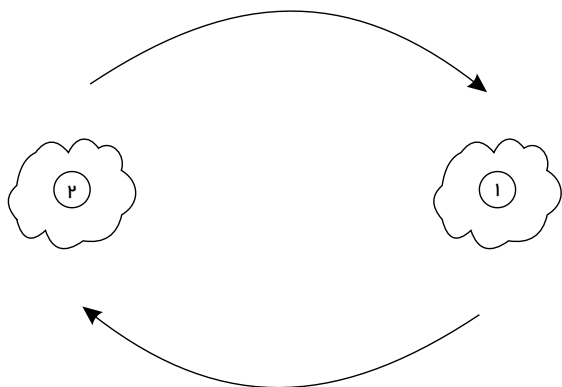
۱۰۱ قبل نخستین روستاها به وجود آمدند.
متوسط - منتا - ۱۳۹۸

- ۱ چهار هزار سال ۲ پنج هزار سال ۳ سه هزار سال ۴ دو هزار سال

روابط شهر و روستا

۱۰۲ با توجه به شکل مقابل عبارت مناسب برای شماره‌های ۱ و ۲ کدام است؟
متوسط - منتا - ۱۳۹۸

مواد اولیه، نیروی کار ساده، خدمات گردشگری، صنایع دستی



کالاهای کارخانه‌ای، فن آوری و اطلاعات، نیروی انسانی متخصص

- ۱ شهر - روستا
۲ روستا - شهر
۳ مزرعه - کارخانه
۴ مزرعه - شهر

تغییرات جمعیت شهری و روستایی در ایران

۱۰۳ از جمله تغییرات در زمینه شهرنشینی پس از انقلاب اسلامی ایران و بود.
متوسط - منتا - ۱۳۹۸

- ۱ افزایش تعداد کلان شهرها - رشد شهرهای کوچک ۲ تبدیل تهران به متروپلیس - گسترش حومه‌نشینی
۳ افزایش فاصله روستاها و شهرها - خالی شدن شهرها از سکنه ۴ کاهش مهاجرت روستاییان - رونق کشاورزی

۱۰۴ نتایج اصلاحات ارضی در ایران چه بود؟
متوسط - منتا - ۱۳۹۸

- ۱ رونق کشاورزی - مهاجرت معکوس ۲ کاهش قدرت اربابان - افزایش سهم کشاورزان
۳ انهدام کشاورزی - افزایش قدرت اربابان ۴ ضعف و انهدام کشاورزی - افزایش مهاجرت روستاییان به شهرها

۱۰۵) چه تعداد از عوامل زیر در عدم موفقیت طرح اصلاحات ارضی در ایران تأثیر گذار بوده است؟

متوسط - منتهای ۱۳۹۸

- توجه به صنایع مونتاژ
- تغییر حکومت در ایران
- مهاجرت روستاییان به شهرها
- افزایش موالید در شهرها
- عدم حمایت دولت از کشاورزان
- واردات کالا از کشورهای خارجی

۱) ۲ ۲) ۳ ۳) ۴ ۴) ۵

متوسط - منتهای ۱۳۹۸

۱۰۶) همه گزینه‌ها به جز درباره علل افزایش جمعیت شهری صحیح هستند.

- ۱) افزایش رشد موالید نسبت به مرگ و میر
- ۲) مهاجرت روستاییان به شهرها
- ۳) کاهش تولید محصولات کشاورزی
- ۴) ادغام برخی روستاها در بافت شهری

متوسط - منتهای ۱۳۹۸

۱۰۷) کدام یک از عوامل زیر در نفوذ شهرها و شهرگرایی در روستاها مؤثر بوده است؟

- ۱) انقلاب سبز - تحولات صنعتی
- ۲) بروز تحولات صنعتی - عصر نوسازی
- ۳) تغییرات کالبدی در روستاها - مدرنیزاسیون
- ۴) کشت محصولات تجاری - انقلاب صنعتی

تغییر در روستانشینی و سکونتگاه‌های روستایی

سخت - منتهای ۱۳۹۸

۱۰۸) زارعان نیمه وقت در کدام کشور مشهور بودند و هدف آن‌ها برای کار در مزارع چه بود؟

- ۱) آلمان - دریافت دستمزد بیشتر
- ۲) چین - توسعه صادرات محصولات کشاورزی
- ۳) ژاپن - دریافت دستمزد بیشتر
- ۴) آلمان - کشت محصولات تجاری

سلسله مراتب سکونتگاه‌ها و حوزه نفوذ سکونتگاه

متوسط - منتهای ۱۳۹۸

۱۰۹) در بررسی حوزه نفوذ عملکرد یک سکونتگاه، به چند جنبه از موارد گفته شده توجه می‌شود؟

- نزدیکی به شبکه ارتباطی
- دامنه نفوذ
- آستانه نفوذ
- تغییرات آب و هوایی

۱) ۱ ۲) ۲ ۳) ۳ ۴) ۴

به سوی جهانی در حال شهری شدن و افزایش شهرهای میلیونی

متوسط - منتهای ۱۳۹۸

۱۱۰) سرعت افزایش شهرنشینی در کدام نواحی بیشتر از سایر نواحی جهان است و نرخ رشد سالیانه آن کدام است؟

- ۱) آمریکای شمالی و لاتین - ۴٫۰ درصد
- ۲) اروپا و آمریکا - ۲ درصد
- ۳) آسیا و آفریقا - ۵٫۱ درصد
- ۴) اروپا و اقیانوسیه - ۵٫۱ درصد

متوسط - منتهای ۱۳۹۸

۱۱۱) پیش‌بینی صاحب نظران درباره جمعیت جهان در سال ۲۰۵۰ چیست؟

- ۱) حدود ۶۶ درصد از جمعیت جهان شهرنشین می‌شوند.
- ۲) جمعیت ساکن روستاها افزایش می‌یابد.
- ۳) حدود ۵۰ درصد از جمعیت جهان شهرنشین می‌شوند.
- ۴) ۳۰ درصد از جمعیت شهری کاهش می‌یابد.

مقر و موقعیت

متوسط - منتهای ۱۳۹۸

۱۱۲) کدام یک از شهرهای زیر از موقعیت چهارراهی برخوردار است؟

- ۱) بهبهان
- ۲) شیراز
- ۳) کوهدشت
- ۴) اهواز

تغییرات جمعیت شهری و روستایی در ایران

۱۱۳) چه دوره‌ای در کشورمان به دوره شهرنشینی کند معروف است و دومین کلان‌شهر کشورمان کدام است و جمعیت تهران چند برابر آن است؟

متوسط - متنا - ۱۳۹۹

۲) از سال ۱۳۳۵ تا ۱۳۴۵ - اصفهان - بیش از دو برابر

۱) تا سال ۱۳۳۵ - اصفهان - دو برابر

۴) از سال ۱۳۳۵ تا ۱۳۴۵ - مشهد - دو برابر

۳) تا سال ۱۳۳۵ - مشهد - بیش از دو برابر

تغییر در روستانشینی و سکونتگاه‌های روستایی

۱۱۴) تفاوت مهاجرت از روستا به شهر در کشورهای توسعه‌یافته و صنعتی با کشورهای آسیایی، آفریقایی و آمریکای لاتین در کدام خصوصیت

متوسط - ۱۳۹۹ - smart

است؟

۲) میزان همگام بودن با تحولات صنعتی و میزان شتاب و رشد شهرنشینی

۱) کیفیت و تعداد جمعیت جابه‌جا شده و میزان ارائه خدمات در شهرها

۴) نحوه و میزان سرمایه‌گذاری شهرنشینان در روستاهای خالی شده از جمعیت

۳) میزان صنعتی شدن شهرها پس از مهاجرت روستاییان

تفاوت‌های شهر و روستا

۱۱۵) مهم‌ترین ملاک تفاوت شهر و روستا و متداول‌ترین ملاک تشخیص شهر و روستا به ترتیب کدام است؟

متوسط - ۱۳۹۹ - smart

۲) فعالیت اقتصادی آن‌ها - دسترسی به خدمات و تسهیلات

۱) فرهنگ و مناسبات اجتماعی - دسترسی به خدمات و تسهیلات

۴) فعالیت اقتصادی آن‌ها - میزان جمعیت آن‌ها

۳) فرهنگ و مناسبات اجتماعی - میزان جمعیت آن‌ها

مقر و موقعیت

۱۱۶) وضعیت شهر تهران نسبت به ناهمواری‌های پیرامون و «جایگاه این شهر در سطح ناحیه» به ترتیب به کدام مورد اشاره دارند؟

متوسط - ۱۳۹۹ - smart

۴) مقر - مقر

۳) موقعیت - موقعیت

۲) موقعیت - مقر

۱) مقر - موقعیت

تغییرات جمعیت شهری و روستایی در ایران

۱۱۷) نابرابری فضایی موجود در شهرها حاصل چه چیزی است؟

متوسط - ۱۳۹۹ - smart

۲) حاکم بودن نظام اقتصادی سرمایه‌داری

۱) فقدان مسکن کافی و مناسب

۴) بی‌توجهی به فرهنگ و هنر بومی در طراحی مبلمان شهری

۳) رشد بخش غیررسمی در اشتغال

به سوی جهانی در حال شهری شدن و افزایش شهرهای میلیونی

۱۱۸) منظور از اصطلاح «شهرنشینی» کدام است و سرعت گسترش آن در کدام قاره‌ها بیشتر است؟

متوسط - ۱۳۹۹ - smart

۱) افزایش نسبت جمعیت شهرهای یک کشور یا ناحیه به روستاهای آن - آسیا و آفریقا

۲) روندی اقتصادی و اجتماعی که طی آن شیوه‌های زندگی و مظاهر شهری در روستاها رواج می‌یابد - آسیا و آفریقا

۳) افزایش نسبت جمعیت شهرهای یک کشور یا ناحیه به روستاهای آن - آمریکای شمالی، اروپا و استرالیا

۴) روندی اقتصادی اجتماعی که طی آن شیوه‌های زندگی و مظاهر شهری در روستاها رواج می‌یابد - آمریکای شمالی، اروپا و استرالیا

تغییر در روستانشینی و سکونتگاه‌های روستایی

۱۱۹) «چگونگی مهاجرت از روستاها به شهر در کشورهای توسعه‌یافته و صنعتی اروپا و آمریکای شمالی» و «اثر سرمایه‌گذاری و خرید زمین‌های

متوسط - ۱۳۹۹ - smart

کشاورزی روستاییان توسط شهرنشینان» در سده نوزدهم و نیمه اول قرن بیستم در کدام گزینه آمده است؟

۲) کوتاه و با سرعت زیاد - افزایش روستانشینی

۱) کوتاه و با سرعت زیاد - کاهش روستانشینی

۴) تدریجی و طولانی‌مدت - افزایش روستانشینی

۳) تدریجی و طولانی‌مدت - کاهش روستانشینی

تفاوت‌های شهر و روستا

- ۱۲۰ در تشخیص شهر از روستا، کدام‌یک از ملاک‌های زیر متداول‌تر است؟
متوسط - منتا - ۱۳۹۹
- ① فرهنگ و مناسبات اجتماعی ② وسعت و فضای سکونت و فعالیت ③ فعالیت‌های اقتصادی ④ میزان جمعیت

مقر و موقعیت

- ۱۲۱ در انتخاب مکان برای استقرار و سکونت جمعیت، کدام دسته از عوامل بیشترین نقش را داشته‌اند و منظور از هسته اولیه چیست؟
متوسط - ۱۳۹۹ - smart
- ① عوامل طبیعی - جایگاه سکونتگاه در سطح ناحیه است. ② عوامل انسانی - مکانی که مردم بر حسب نیاز، آن را برای زندگی انتخاب کرده‌اند.
③ عوامل طبیعی - جایی که روستا یا شهر از آن محل گسترش یافته است. ④ عوامل انسانی - مکان اصلی و دقیق یک سکونتگاه است.

تغییرات جمعیت شهری و روستایی در ایران

- ۱۲۲ در کدام گزینه طرق افزایش جمعیت شهری در ایران به درستی بیان شده است؟
متوسط - ۱۳۹۹ - smart
- ① انتقال کارخانه‌ها به نواحی روستایی - سیاست‌های تشویقی مهاجرت - ادغام روستاها در بافت شهری
② رشد موالید - مهاجرت روستاییان به شهرها - تبدیل روستاها به نقاط شهری - ادغام روستاها در بافت شهری
③ تشویق به افزایش تعداد شهرهای کوچک - افزایش غیرطبیعی جمعیت شهرها - سیاست‌های تشویقی مهاجرت
④ افزایش غیرطبیعی جمعیت شهرها - تبدیل روستاها به نقاط شهری - تشویق به افزایش تعداد شهرهای کوچک - انتقال کارخانه‌ها به نواحی روستایی

تغییر در روستانشینی و سکونتگاه‌های روستایی

- ۱۲۳ در کدام زمان و به دنبال کدام واقعه در کشورهای توسعه یافته و صنعتی اروپا و آمریکای شمالی، مهاجرت از روستاها به شهرها رخ داد؟
متوسط - ۱۳۹۹ - smart
- ① سده نوزدهم و نیمه اول قرن بیستم - توسعه صنایع کارخانه‌ای ② سده بیستم و دهه اول قرن بیست و یکم - شهرگرایی
③ سده نوزدهم و نیمه اول قرن بیستم - شهرگرایی ④ سده بیستم و دهه اول قرن بیست و یکم - توسعه صنایع کارخانه‌ای

- ۱۲۴ چه عاملی سبب افزایش «شهرگرایی» در روستاها شد؟
متوسط - ۱۳۹۹ - smart
- ① رواج شیوه‌های زندگی، رفتار و عملکردها، ارزش‌ها و مظاهر شهری در روستاها ② بروز تحولات صنعتی و ورود کشورها به عصر نوسازی
③ ایجاد تغییرات قابل ملاحظه در چهره و کالبد روستاها به گذشته ④ تعریف نقش صیادی، گردشگری و صنعتی برای روستاها

از مادرشهر تا زنجیره کلان‌شهرها (مگالاپلیس)

- ۱۲۵ در کدام گزینه انواع شهرها، از کوچک به بزرگ به درستی آورده شده است؟
سخت - منتا - ۱۳۹۹
- ① متروپل - مگالاپلیس - مگاسیتی ② متروپل - مگالاپلیس - منطقه ابرشهری - کلان‌شهر
③ مگاسیتی - کلان‌شهر - مادرشهر - متروپل ④ مگاسیتی - منطقه مادرشهری - منطقه ابرشهری

به سوی جهانی در حال شهری شدن و افزایش شهرهای میلیونی

- ۱۲۶ یکی از مهم‌ترین پدیده‌های مربوط به تغییرات الگوی شهرنشینی در جهان کدام است و در سال ۱۹۵۰ کدام دو شهر بیشتر از هشت میلیون نفر جمعیت داشتند؟
متوسط - منتا - ۱۳۹۹
- ① افزایش شهرهای میلیونی - نیویورک و پاریس ② افزایش شهرهای میلیونی - لندن و نیویورک
③ تغییر الگوی مکانی شهرها - پاریس و لندن ④ تغییر الگوی مکانی شهرها - نیویورک و لندن

متوسط - ۱۳۹۹ - smart

۱۲۷) الگوی مکانی شهرهای بالای ۵ و ۱۰ میلیون نفر در جهان تا چند دهه پیش چگونه بود؟

- ۱) قاره‌های آسیا، آمریکای لاتین و آفریقا با رشد چنین شهرهایی روبه‌رو بودند.
- ۲) این شهرها فقط در نیمکره شمالی و در آمریکای شمالی، اروپا و ژاپن وجود داشتند.
- ۳) مناطقی چون ژاپن، اروپا، استرالیا و آمریکای جنوبی دارای بالاترین تعداد این شهرها بودند.
- ۴) در هر کدام از قاره‌های جهان در حال رشد و بروز و ظهور بودند.

تفاوت‌های شهر و روستا

متوسط - منته - ۱۳۹۹

۱۲۸) به ترتیب متداول‌ترین و مهم‌ترین تفاوت‌های شهر و روستا کدام‌اند؟

- ۱) میزان جمعیت - فعالیت اقتصادی
- ۲) میزان جمعیت - فرهنگ و مناسبات اجتماعی
- ۳) فعالیت اقتصادی - میزان جمعیت
- ۴) فعالیت اقتصادی - فرهنگ و مناسبات اجتماعی

مقر و موقعیت

۱۲۹) «وضعیت یک سکونتگاه نسبت به پدیده‌های پیرامون خود»، «محل استقرار یک سکونتگاه روی زمین» و «محل گسترش یک شهر یا روستا»

متوسط - ۱۳۹۹ - smart

به ترتیب بیانگر تعریف کدام مفاهیم هستند؟

- ۱) موقعیت - مقر - هسته اولیه
- ۲) مقر - موقعیت - موقعیت
- ۳) مقر - مقر - موقعیت
- ۴) موقعیت - موقعیت - هسته اولیه

متوسط - منته - ۱۳۹۹

۱۳۰) کدام یک از عبارات‌های زیر درباره «مقر» درست است؟

- ۱) از چهار هزار سال قبل مقر اکثر روستاها و شهرهای پرجمعیت کوهپایه‌ها و دشت‌ها بوده است.
- ۲) مقر هر سکونتگاه، مکانی را که مردم بر حسب نیاز، آن را برای زندگی انتخاب کرده‌اند نیز شامل می‌شود.
- ۳) سکونت‌گزینی ابتدایی انسان‌ها بیشتر تحت تأثیر عوامل سیاسی و جغرافیایی بوده است.
- ۴) مقر هر شهر یا روستا، مکان اصلی و جایگاه آن سکونتگاه در سطح ناحیه است.

به سوی جهانی در حال شهری شدن و افزایش شهرهای میلیونی

متوسط - ۱۳۹۹ - smart

۱۳۱) علت و میزان رشد زیاد شهرنشینی در کشورهای آسیایی و آفریقایی در کدام گزینه به درستی بیان شده است؟

- ۱) صنعتی شدن و توسعه کارخانه‌ها - ۱٫۵ درصد
- ۲) رشد بخش خدمات و ورود این کشورها به تجارت جهانی - ۰٫۴ درصد
- ۳) مهاجرت فزاینده روستاییان به شهرها - ۰٫۴ درصد
- ۴) افزایش جمعیت روستاها و تبدیل آن‌ها به شهر - ۱٫۵ درصد

متوسط - منته - ۱۳۹۹

۱۳۲) کدام گزینه درباره «شهرنشینی» درست است؟

- ۱) شهرنشینی در قاره‌های در حال توسعه، مانند آفریقا، بیشتر از قاره‌های توسعه‌یافته، مانند آمریکا است.
- ۲) در فاصله سال‌های ۲۰۰۵ تا ۲۰۱۰، میزان جمعیت شهری و روستایی جهان تقریباً مساوی بوده است.
- ۳) منظور از اصطلاح شهرنشینی، افزایش تعداد شهرهای یک کشور یا ناحیه به روستاهای آن است.
- ۴) علی‌رغم پیشی گرفتن جمعیت شهری جهان از جمعیت روستایی، جمعیت روستایی در سال‌های آینده همچنان با رشد مواجه است.

سلسله مراتب سکونتگاه‌ها و حوزه نفوذ سکونتگاه

1333 حوزه نفوذ سکونتگاه که است، برآیند بررسی و است. متوسط - 1399 smart-

- 1 حداقل جمعیتی که تقاضای عملکردی از سکونتگاه دارند - بیشترین مسافتی که مردم برای دریافت خدمات از آن سکونتگاه طی می‌کنند - مقایسه میزان جمعیت و خدمات ارائه شده در سکونتگاه‌های مختلف
- 2 حداقل جمعیتی که تقاضای عملکردی از سکونتگاه دارند - محدوده جغرافیایی که از یک سکونتگاه کالا یا خدمات دریافت می‌کند - بیشترین مسافتی که مردم برای دریافت خدمات از آن سکونتگاه طی می‌کنند.
- 3 محدوده جغرافیایی که از یک سکونتگاه کالا یا خدمات دریافت می‌کند - حداقل جمعیتی که تقاضای عملکردی از سکونتگاه دارند - بیشترین مسافتی که مردم برای دریافت خدمات از آن سکونتگاه طی می‌کنند.
- 4 بیشترین مسافتی که مردم برای دریافت خدمات از آن سکونتگاه طی می‌کنند - حداقل جمعیتی که تقاضای عملکردی از سکونتگاه دارند - محدوده جغرافیایی که از یک سکونتگاه کالا یا خدمات دریافت می‌کند.

مقر و موقعیت

1334 کدام دسته از عوامل ممکن است موجب از دست رفتن موقعیت و اعتبار یک شهر یا انتقال آن به مکان دیگری شوند؟ متوسط - متنا - 1399

- 1 رویدادهای سیاسی یا تغییرات آب‌وهوایی
- 2 مجاورت آن با کوه آتشفشان یا گسل‌های فعال
- 3 نزدیک بودن آن به روستاهای پرجمعیت
- 4 نزدیکی آن به منابع معدنی و ناتوانی در جذب نیروی کار و توسعه صنایع آن شهر

1335 کدام مورد هسته اولیه یک شهر یا روستا را شامل می‌شود و عامل اصلی انتخاب هسته اولیه کدام است؟ متوسط - متنا - 1399

- 1 موقعیت - حضور عوامل مؤثر طبیعی
- 2 موقعیت - نیاز مردم
- 3 مقر - حضور عوامل مؤثر طبیعی
- 4 مقر - نیاز مردم

1336 در مطالعه مقر و موقعیت شهرهای زیر، کدام مورد به مقر آن اشاره می‌کند؟ متوسط - 1399 smart-

- 1 دسترسی شهر کرمانشاه به شبکه ارتباطی راه آهن
- 2 قرارگیری معدن مس سرچشمه در جنوب شهر رفسنجان
- 3 پدید آمدن شهر خرم‌آباد در دره‌های زاگرس
- 4 قرارگیری شهر تهران بر روی گسل‌های فعال

1337 این که تمدن‌های اولیه در کنار رودهای دجله، فرات، نیل، کارون و سند پدید آمده‌اند، بیانگر چیست؟ متوسط - 1399 smart-

- 1 اهمیت موقعیت قرارگیری سکونتگاه‌ها در مطالعه و شناخت آن‌ها
- 2 نقش مهم عوامل طبیعی در انتخاب مکان برای استقرار و سکونت جمعیت
- 3 تأثیر عوامل مختلف سیاسی، تصمیمات حکومتی و دسترسی به راه‌های تجاری در پدید آمدن سکونتگاه‌ها
- 4 تأثیر موقعیت قرارگیری سکونتگاه‌ها در ادامه حیات یا گسترش آن‌ها

تفاوت‌های شهر و روستا

1338 کدام یک از موارد زیر درباره سکونت‌گاه‌های شهری و روستایی درست است؟ متوسط - 1398 smart-

- 1 تغییرات اجتماعی در شهرها سریع‌تر از روستاهاست.
- 2 مهم‌ترین ملاک تفاوت شهر و روستا، میزان جمعیت آن‌هاست.
- 3 شهرها از فضاهای باز بیشتری برخوردار هستند.
- 4 با وجود همه تفاوت‌ها، شهرها و روستاها از نظر دسترسی به خدمات تقریباً شرایط یکسانی دارند.

از مادرشهر تا زنجیره کلان شهرها (مگالاپلیس)

متوسط - ۱۳۹۸ - smart

۱۳۹ کدام گزینه نادرست است؟

- ۱ متروپل، شهر یا سکونتگاه اصلی یک منطقه و بزرگ‌ترین و مهم‌ترین شهر یک ناحیه یا کشور است.
- ۲ مادرشهرها معمولاً مراکز حکومتی، مذهبی و تجاری یک کشور هستند و از این جهت بر سایر سکونتگاه‌ها برتری دارند.
- ۳ مادرشهرها شکل خطی یا کریدوری دارند و جمعیت بسیار بالایی را در خود جای می‌دهند.
- ۴ گاه در اثر گسترش دو یا چند مادرشهر در امتداد مسیرهای ارتباطی و حمل‌ونقل، مگالاپلیس شکل می‌گیرد.

مقر و موقعیت

متوسط - ۱۳۹۸ - smart

۱۴۰ کدام گزینه عبارت صحیحی درباره «مقر و موقعیت سکونتگاه‌ها» نیست؟

- ۱ موقعیت، مکان اصلی و دقیق یک سکونتگاه و محل استقرار آن روی زمین است.
- ۲ موقعیت یک شهر یا روستا نقش مهمی در ادامه حیات یا گسترش و حتی زوال آن ایفا می‌کند.
- ۳ مقر هر روستا یا شهر، هسته اولیه آن را نیز شامل می‌شود.
- ۴ عوامل طبیعی بیشترین نقش را در انتخاب مکان برای استقرار و سکونت جمعیت داشته‌اند.

تفاوت‌های شهر و روستا

سخت - ۱۳۹۸ - متنا

۱۴۱ به ترتیب، متداول‌ترین ملاک تشخیص شهر و روستا چیست و همکاری در کدام شکل از سکونت‌گاه‌ها بیش‌تر است؟

- ۱ فعالیت اقتصادی - روستا ۲ فعالیت اقتصادی - شهر ۳ جمعیت - روستا ۴ جمعیت - شهر

مقر و موقعیت

۱۴۲ محلی که یک شهر یا روستا در آن‌جا استقرار می‌یابد، نام دارد و تغییرات محیط و پدیده‌های پیرامون، متوسط - ۱۳۹۸ - متنا

- ۱ موقعیت - ممکن است به از دست رفتن موقعیت سکونتگاه بیانجامد.
- ۲ موقعیت - اثری بر موقعیت سکونتگاه‌ها ندارد.
- ۳ مقر - ممکن است به از دست رفتن موقعیت سکونتگاه بیانجامد.
- ۴ مقر - اثری بر موقعیت سکونتگاه‌ها ندارد.

تغییرات جمعیت شهری و روستایی در ایران

متوسط - ۱۳۹۸ - متنا

۱۴۳ کدام مورد از ویژگی‌های عمده برنامه آمایش سرزمین محسوب نمی‌شود؟

- ۱ شناسایی قابلیت‌ها و ظرفیت‌های مناطق
- ۲ تحقق عدالت اجتماعی
- ۳ پیشگیری از تمرکز و انبوهی جمعیت در مادرشهرها
- ۴ توجه به همبستگی تاریخی کشور

۱۴۴ در فرایند تغییرات جمعیت شهری و روستایی در ایران، کدام مورد مهم‌ترین عامل تبدیل تهران به یک «مادرشهر ملی» بود؟ متوسط - ۱۳۹۸ - smart

- ۱ رشد طبیعی جمعیت شهر تهران
- ۲ مهاجرت مردم از سراسر کشور به این شهر
- ۳ ادغام روستاهای اطراف تهران در بافت شهر تهران
- ۴ رشد شهرهای بزرگ و کوچک و شهرک‌های اقماری در اطراف تهران

تفاوت های شهر و روستا

۱۴۵) چه تعداد از گزاره های زیر در رابطه با تفاوت های شهر و روستا صحیح می باشد؟

متوسط - ۱۳۹۸ - smart

- الف) متداول ترین ملاک تشخیص شهر از روستا، فعالیت های اقتصادی ساکنان آن هاست.
 ب) در اغلب سکونت گاه های روستایی، جمعیت فعال، در بخش کشاورزی و خدماتی و در شهرها در بخش صنعتی مشغول به کار هستند.
 ج) جغرافی دانان با گردآوری نظریات مختلف توانسته اند تعریف مشخصی از شهر و روستا و ملاک های تشخیص آن ها ارائه کنند.
 د) در شهرها به علت کثرت جمعیت، وابستگی اجتماعی بیش تری میان افراد دیده می شود.
 ه) در شهرها فضاهای صنعتی به هم فشرده ترند و فعالیت های متنوع در فضاهای محدودتری متراکم شده اند.

① صفر ② یک ③ دو ④ سه

تغییرات جمعیت شهری و روستایی در ایران

۱۴۶) «دوره شهرنشینی کند» تا چه سالی در ایران ادامه یافت و کدام یک از ویژگی های آن است؟

متوسط - ۱۳۹۸ - smart

- ① ۱۳۴۱ - دولت با استفاده از درآمد نفتی، بیشترین سرمایه گذاری ها را به شهرها اختصاص داد.
 ② ۱۳۴۱ - مهاجرت از روستاها به شهرها به آرامی صورت می گرفت.
 ③ ۱۳۳۵ - محصولات کشاورزی بخش عمده تولیدات داخلی را تشکیل می داد.
 ④ ۱۳۳۵ - دولت با تغییر قوانین مالکیت به توزیع مجدد زمین های کشاورزی پرداخت.

تغییر در روستانشینی و سکونتگاه های روستایی

۱۴۷) کدام عبارت با گزاره زیر ارتباط بیشتری دارد؟

«در کشور مصر با مهاجرت روستاییان اطراف شهر قاهره به این شهر، مشکلات زیادی هم برای این روستاها و هم برای شهر قاهره به وجود آمد.»

سخت - متنا - ۱۳۹۸

- ① با ورود کشورها به عصر نوسازی (مدرنیزاسیون)، نفوذ شهرها و شهرگرایی در روستاها افزایش یافت.
 ② رشد شهرنشینی در برخی نواحی کوتاه تر و سریع تر از رشد صنعتی رخ داد.
 ③ عوامل جاذبه شهرها در کنار عوامل دافعه زندگی روستایی موجب مهاجرت روزافزون به شهرها شده است.
 ④ در برخی روستاها، سرمایه داران به خرید زمین های کشاورزی برای ایجاد کشت تجاری اقدام کردند که در نتیجه آن روستانشینی کاهش یافت.

به سوی جهانی در حال شهری شدن و افزایش شهرهای میلیونی

۱۴۸) جمعیت شهری و روستایی جهان در بین کدام سال ها به برابری رسید و پیش بینی می شود تا سال ۲۰۵۰ میلادی نسبت جمعیت شهرنشین

سخت - ۱۳۹۸ - smart

جهان به جمعیت روستانشین به حدود چند درصد برسد؟

① ۲۰۱۵ تا ۲۰۲۰ - ۶۶ درصد ② ۲۰۰۵ تا ۲۰۱۰ - ۷۶ درصد ③ ۲۰۰۵ تا ۲۰۱۰ - ۶۶ درصد ④ ۲۰۱۵ تا ۲۰۲۰ - ۷۶ درصد

تغییرات جمعیت شهری و روستایی در ایران

۱۴۹) کدام گزینه از علل اصلی عدم موفقیت اصلاحات ارضی در ایران نمی باشد؟

متوسط - متنا - ۱۳۹۸

- ① حمایت نکردن دولت از کشاورزان ② توجه به صنایع مونتاژ وابسته به خارج ③ واردات کالا از کشورهای خارجی ④ مهاجرت روستاییان به شهرها

تغییر در روستانشینی و سکونتگاه های روستایی

۱۵۰) کدام مورد در ارتباط با مهاجرت از روستا به شهر و رشد شهرنشینی در کشورهای آسیایی و آفریقایی درست است؟

متوسط - ۱۳۹۸ - smart

- ① تدریجی و طولانی و همگام با تحولات صنعتی ② سریع و کوتاه و ناهماهنگ با رشد صنعت
 ③ سریع و کوتاه و همگام با تحولات صنعتی ④ تدریجی و طولانی و ناهماهنگ با رشد صنعت

سلسله مراتب سکونتگاه‌ها و حوزه نفوذ سکونتگاه

۱۵۱) عبارت «یک شهر کوچک ممکن است فقط به چند روستای پیرامون خود خدمات بدهد و ساکنان روستاهای پیرامون برای خرید و کار در کارخانه‌ها و استفاده از مراکز درمانی به آن شهر مراجعه کنند»، به کدام مفهوم زیر ارتباط بیشتری دارد؟
متوسط - ۱۳۹۸ - smart

- ۱) حوزه نفوذ سکونت گاه ۲) سلسله مراتب سکونت گاه ۳) موقعیت سکونت گاه ۴) تفاوت های شهر و روستا

به سوی جهانی در حال شهری شدن و افزایش شهرهای میلیونی

۱۵۲) سرعت گسترش شهرنشینی در کدام قاره‌ها بیش تر از سایر نواحی جهان است و بخش عمده‌ای از این رشد به چه علت می باشد؟
متوسط - متنا - ۱۳۹۸

- ۱) آسیا و آفریقا _ مهاجرت فزاینده روستاییان به شهرها
۲) اروپا و آمریکای شمالی _ افزایش جمعیت برخی روستاها و تبدیل شدن آن‌ها به نقاط شهری
۳) آسیا و آفریقا _ افزایش جمعیت برخی روستاها و تبدیل شدن آن‌ها به نقاط شهری
۴) اروپا و آمریکای شمالی _ مهاجرت فزاینده روستاییان به شهرها

مقر و موقعیت

۱۵۳) مهم ترین عوامل شکل گیری هسته اولیه روستاها و شهرها در ایران کدام است؟
متوسط - ۱۳۹۸ - smart

- ۱) آب وهوای ملایم، خاک حاصلخیز، آب فراوان
۲) آب فراوان، قلعه های دفاعی، خاک حاصلخیز
۳) آب، قلعه های دفاعی، بازارهای محلی، قرار گرفتن در تقاطع راه‌ها
۴) بازارهای محلی، آب فراوان، خاک حاصلخیز، قرار گرفتن در تقاطع راه‌ها

سلسله مراتب سکونتگاه‌ها و حوزه نفوذ سکونتگاه

۱۵۴) به ترتیب هر یک از عبارات زیر با کدام یک از ملاک های تشخیص شهر از روستا در ارتباط است؟
متوسط - ۱۳۹۸ - smart

- تقابل سنت و نوگرایی
- وجود تعاون و مساعدت
- محدود بودن تسهیلات
۱) فرهنگ و مناسبات اجتماعی _ میزان جمعیت _ فعالیت اقتصادی
۲) فعالیت اقتصادی _ فرهنگ و مناسبات اجتماعی _ دسترسی به خدمات
۳) فرهنگ و مناسبات اجتماعی _ فرهنگ و مناسبات اجتماعی _ دسترسی به خدمات
۴) فعالیت اقتصادی _ میزان جمعیت _ دسترسی به خدمات

به سوی جهانی در حال شهری شدن و افزایش شهرهای میلیونی

۱۵۵) در حال حاضر ناحیه با شهرنشین، بیش ترین درصد شهرنشینی را در جهان به خود اختصاص داده است.
متوسط - ۱۳۹۸ - smart

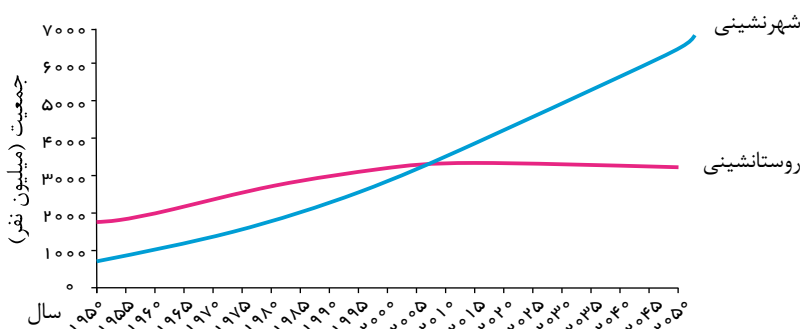
- ۱) آمریکای لاتین _ ۷۹/۵ درصد ۲) آمریکای شمالی _ ۸۱/۵ درصد
۳) آمریکای شمالی _ ۷۹/۵ درصد ۴) آمریکای لاتین و کارائیب _ ۸۱/۵ درصد

۱۵۶) در سال ۱۹۹۰ چند شهر با بیش از ۱۰ میلیون نفر در جهان وجود داشته است؟
متوسط - متنا - ۱۳۹۸

- ۱) ۱۰ ۲) ۲۰ ۳) ۱۵ ۴) ۲۵

۱۵۷) نمودار روبه رو چه چیز را نشان می دهد؟
متوسط - متنا - ۱۳۹۸

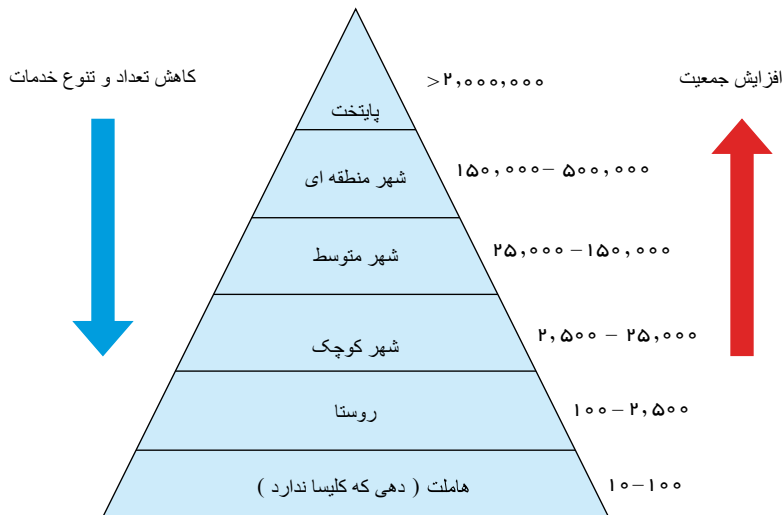
- ۱) افزایش جمعیت شهرنشین به مرور زمان
۲) افزایش جمعیت روستانشین به مرور زمان
۳) افزایش جمعیت به مرور زمان
۴) افزایش و کاهش جمعیت به مرور زمان



- ۱۵۸ یکی از مهمترین تغییرات فضای جغرافیایی در قرن بیستم و بیست و یکم، در جهان است. متوسط - منتا - ۱۳۹۸
- ۱ افزایش جمعیت و شهرنشینی ۲ افزایش شهرها و روستاها ۳ افزایش خدمات در شهر و روستا ۴ دغدغه افزایش خدمات

سلسله مراتب سکونتگاه‌ها و حوزه نفوذ سکونتگاه

- ۱۵۹ کدام عبارت در ارتباط با نمودار سلسله مراتب سکونتگاه صحیح نمی‌باشد؟ متوسط - منتا - ۱۳۹۸
- ۱ با حرکت به سمت بالای هرم جمعیت افزایش می‌یابد. ۲ با حرکت به سمت بالای هرم جمعیت و تعداد خدمات افزایش می‌یابد. ۳ در رأس هرم پایتخت قرار دارد. ۴ در رأس هرم دهکده قرار دارد.



- ۱۶۰ شکل روبه‌رو چه نموداری است؟ متوسط - منتا - ۱۳۹۸
- ۱ نمودار جمعیت ۲ نمودار خدمات ۳ نمودار سلسله مراتب سکونتگاه‌ها در اروپا ۴ نمودار تعداد تنوع خدمات شهری

به سوی جهانی در حال شهری شدن و افزایش شهرهای میلیونی

- ۱۶۱ در کشورهای پرجمعیت هند و چین روستاهایی با جمعیت وجود دارد. متوسط - منتا - ۱۳۹۸
- ۱ بیش از ۱۰۰۰۰ نفر ۲ بیش از ۲۰۰۰۰ نفر ۳ بیش از ۳۰۰۰۰ نفر ۴ بیش از ۳۰۰۰ نفر

تغییر در روستانشینی و سکونتگاه‌های روستایی

- ۱۶۲ شکل‌گیری روستاهای صیادی، گردشگری و صنعتی پیامد می‌باشد. متوسط - منتا - ۱۳۹۸
- ۱ تغییرات کالبدی و عملکردی در روستاها ۲ مهاجرت از روستاها به شهرها ۳ عوامل جاذبه زیاد در شهرها ۴ تغییر در سکونتگاه‌های روستایی

از مادرشهر تا زنجیره کلان‌شهرها (مگالاپلیس)

- ۱۶۳ گزینه به شکل‌های مگالاپلیس اشاره می‌کند. متوسط - منتا - ۱۳۹۸
- ۱ کریدوری و خطی - دنباله‌دار و تکه‌تکه ۲ دنباله‌دار و طویل - مقطع و خطی ۳ خطی و کهکشانی - دایره‌ای و پاره‌پاره ۴ خطی و کریدوری - خوشه‌ای و کهکشانی

- ۱۶۴ کدام گزینه از مهم‌ترین ویژگی‌های مگالاپلیس‌ها نیست؟ متوسط - منتا - ۱۳۹۸
- ۱ تمرکز صنایع دانش بنیان ۲ افزایش شهرک‌های اقماری ۳ انبوهی جمعیت ۴ دسترسی به راه‌های ارتباطی

- ۱۶۵ کدام ویژگی در شکل‌گیری مگالاپلیس تأثیر گسترده‌ای دارد؟ متوسط - منتا - ۱۳۹۸
- ۱ مسیرهای ارتباطی و حمل و نقل ۲ جمعیت زیاد ۳ فراوانی آمد و شد بین شهرها ۴ تمرکز مؤسسات مالی

متوسط - منتهای ۱۳۹۸

۱۶۶ به سبب کدام مورد برخی از شهرها حوزه نفوذ بسیار وسیعی در سطح جهان دارند؟

- ۱ توسعه کارخانه‌های صنعتی
- ۲ جذب جمعیت
- ۳ مشارکت زیاد در اقتصاد و تجارت جهانی
- ۴ گسترش و تنوع خدمات

متوسط - منتهای ۱۳۹۸

۱۶۷ کدام مورد از عوامل مؤثر بر شکل‌گیری حومه‌ها و حومه‌نشینی نیست؟

- ۱ افزایش شهرنشینی
- ۲ گسترش حمل و نقل
- ۳ افزایش تعداد کلان‌شهرها
- ۴ گسترش وسایل ارتباطی

متوسط - منتهای ۱۳۹۸

۱۶۸ کدام گزینه به حداقل میزان جمعیت مادرشهرها اشاره می‌کند؟

- ۱ عدد مورد توافق وجود ندارد.
- ۲ بالای ۱۰ میلیون نفر
- ۳ بیش از ۲۵ میلیون نفر
- ۴ کم‌تر از ۱۰ میلیون نفر

به سوی جهانی در حال شهری شدن و افزایش شهرهای میلیونی

متوسط - منتهای ۱۳۹۸

۱۶۹ کدام گزینه از نظر سطح شهرنشینی متفاوت است؟

- ۱ هند
- ۲ مالاوی
- ۳ نپال
- ۴ سودان

متوسط - منتهای ۱۳۹۸

۱۷۰ اصطلاح شهرنشینی به مفهوم اشاره دارد.

- ۱ نسبت جمعیت روستاها به شهرها
- ۲ افزایش مهاجرت از روستاها به شهرها
- ۳ افزایش مهاجرت از شهرها به روستاها
- ۴ نسبت جمعیت شهرها به روستاها

۱۷۱ مهاجرت فزاینده روستاییان به شهرها در قاره‌هایی مانند آسیا و آفریقا به چه علت می‌باشد و ورود کشورهای این نواحی به تجارت جهانی به چه عواملی ارتباط دارد؟

متوسط - ۱۴۰۰ smart

- ۱ اشتغال و دستمزد بیشتر - سرعت گسترش شهرنشینی در آسیا و آفریقا
- ۲ دسترسی به رفاه و امکانات بیشتر - صنعتی شدن، توسعه کارخانه‌ها و رشد بخش خدمات
- ۳ اشتغال و دستمزد بیشتر - صنعتی شدن و توسعه کارخانه‌ها و رشد بخش خدمات
- ۴ دسترسی به رفاه و امکانات بیشتر - سرعت گسترش شهرنشینی در آسیا و آفریقا

تغییرات جمعیت شهری و روستایی در ایران

متوسط - منتآزمون - ۱۴۰۲

۱۷۲ صحیح یا غلط بودن عبارات زیر در کدام گزینه به درستی آمده است؟

- معیار جمعیت و موافقت وزارت کشور در تبدیل یک روستا به شهر مؤثر می‌باشد.
- در دوره شهرنشینی کند محصولات کشاورزی بخش عمده تولیدات داخلی بود.
- در سال ۱۳۴۱ با اصلاحات ارضی شرایط کشاورزی مساعدتر شد.
- جمعیت تهران همواره بیش از دو برابر دومین شهر پرجمعیت ایران، یعنی مشهد، بوده است.

- ۱ غ - غ - ص - ص
- ۲ ص - غ - غ - ص
- ۳ ص - ص - غ - ص
- ۴ غ - ص - ص - غ

از مادرشهر تا زنجیره کلان‌شهرها (مگالاپلیس)

سخت - منتآزمون - ۱۴۰۲

۱۷۳ واژه «مگاسیتی» به چه شهرهایی گفته می‌شود و به کدام واژه نزدیک‌تر است؟

- ۱ شهرهایی با بیش از یک میلیون نفر جمعیت - مگالاپلیس
- ۲ شهرهایی با بیش از ده میلیون نفر جمعیت - مگالاپلیس
- ۳ شهرهایی با بیش از یک میلیون نفر جمعیت - متروپل
- ۴ شهرهایی با بیش از ده میلیون نفر جمعیت - متروپل

تفاوت‌های شهر و روستا

متوسط - منتآزمون - ۱۴۰۲

۱۷۴ به ترتیب مهم‌ترین ملاک و متداول‌ترین ملاک تفاوت شهر و روستا کدام است؟

- ۱ میزان جمعیت - فرهنگ و مناسبات اجتماعی
- ۲ فعالیت اقتصادی - میزان جمعیت
- ۳ فعالیت اقتصادی - فرهنگ و مناسبات اجتماعی
- ۴ میزان جمعیت - فعالیت اقتصادی

تغییر در روستانشینی و سکونتگاه‌های روستایی

۱۷۵ مفهوم «آستانه نفوذ» در کدام گزینه به درستی آمده است؟

متوسط - منتآزمون - ۱۴۰۲

- ۱ حداکثر جمعیتی که تقاضای کالا، خدمات یا عملکردی از یک سکونتگاه دارند.
- ۲ حداقل جمعیتی که تقاضای کالا، خدمات یا عملکردی از یک سکونتگاه دارند.
- ۳ کمترین مسافتی که مردم منطقه برای دریافت خدمات از آن سکونتگاه طی می‌کنند.
- ۴ بیشترین مسافتی که مردم منطقه برای دریافت کالا یا خدمات از آن سکونتگاه طی می‌کنند.

از مادرشهر تا زنجیره کلان‌شهرها (مگالاپلیس)

۱۷۶ در ارتباط با «مادر شهر یا متروپل» کدام گزینه درست نیست و کدام مورد نمونه‌ای از اولین مگالاپلیس‌های جهان هستند؟

متوسط - منتآزمون - ۱۴۰۱

- ۱ بزرگ‌ترین و مهم‌ترین شهر یک ناحیه، استان یا یک کشور است. - شمال شرق
- ۲ این شهر ممکن است پایتخت یا شهر اصلی یک ناحیه باشد که بر سایر سکونتگاه‌ها برتری دارد. - شمال غرب
- ۳ برخی مادرشهر را منطقه ابرشهری نامیده‌اند. - شمال شرق
- ۴ این شهر به‌عنوان مرکز حکومتی، مذهبی، تجاری و ... در حال فعالیت است. - شمال غرب

تفاوت‌های شهر و روستا

۱۷۷ به ترتیب مهم‌ترین و متداول‌ترین ملاک تفاوت شهر و روستا چیست؟

متوسط - منتآزمون - ۱۴۰۱

- ۱ میزان جمعیت - فعالیت اقتصادی
- ۲ فعالیت اقتصادی - میزان جمعیت
- ۳ فعالیت اقتصادی - وسعت
- ۴ میزان جمعیت - وسعت

به سوی جهانی در حال شهری شدن و افزایش شهرهای میلیونی

۱۷۸ پیش‌بینی می‌شود تا سال ۲۰۵۰ میلادی حدود درصد جمعیت جهان در شهرها ساکن شوند و سرعت گسترش شهرنشینی در بیشتر از سایر نواحی جهان است و این میزان به درصد در سال در این نواحی می‌رسد و در سال ۱۹۵۰ میلادی دو شهر لندن و بیشتر از ۸ میلیون نفر جمعیت داشتند.

متوسط - منتآزمون - ۱۴۰۱

- ۱ ۵۴ - آمریکای شمالی و اروپا - ۰٫۴ - پاریس
- ۲ ۶۶ - آمریکای شمالی و اروپا - ۱٫۵ - پاریس
- ۳ ۶۶ - آسیا و آفریقا - ۱٫۵ - نیویورک
- ۴ ۵۴ - آسیا و آفریقا - ۰٫۴ - نیویورک

تفاوت‌های شهر و روستا

۱۷۹ در کدام گزینه به ترتیب درستی یا نادرستی عبارتهای زیر به درستی آورده شده است؟

متوسط - منتآزمون - ۱۴۰۱

- الف) در انتخاب مکان برای استقرار و سکونت جمعیت عوامل انسانی بیشترین نقش را داشته‌اند.
- ب) در کشور ایران عواملی چون آب فراوان، آب‌وهوای ملایم و خاک حاصلخیز جلگه‌ها نقش مهمی در سکونت‌گزینی انسان‌ها داشته است.
- پ) مقر هر روستا یا شهر، همچنین هسته اولیه آن را شامل می‌شود.
- ت) برخی تغییرات محیط پیرامون، ممکن است موجب از دست رفتن موقعیت و اعتبار یک شهر شود.

- ۱ غ - ص - ص - غ
- ۲ غ - غ - ص - ص
- ۳ ص - ص - غ - غ
- ۴ ص - غ - ص - غ

تغییرات جمعیت شهری و روستایی در ایران

۱۸۰ یکی از راه‌های افزایش جمعیت شهری کدام است و به چه علت اصلاحات ارضی، شرایط انهدام کشاورزی در ایران را فراهم آورد و یکی از موضوعاتی که در زمینه شهرنشینی در ایران رخ داد تبدیل تهران به چه نوع شهری است؟

متوسط - متنازوم - ۱۴۰۱

- ۱ مهاجرت روستائیان به شهرها - توجه به صنایع تبدیلی - مادر شهر ملی
- ۲ افزایش طبیعی جمعیت شهرها - حمایت نکردن دولت از کشاورزان - مادر شهر زنجیره‌ای
- ۳ ادغام روستاها در بافت شهری - تقسیم نادرست زمین - مادر شهر زنجیره‌ای
- ۴ افزایش جمعیت برخی روستاها و تبدیل شدن به نقاط شهری - واردات کالاهای خارجی - مادر شهر ملی

تفاوت‌های شهر و روستا

۱۸۱ در کدام گزینه ویژگی‌های سکونتگاه روستایی بیان نشده است؟

متوسط - ۱۴۰۰ - smart

- ۱ جمعیت کمتر - فعالیت محدود در فضای گسترده
- ۲ خدمات محدود - تسهیلات کمتر
- ۳ روابط خویشاوندی بیشتر - نوگرایی سریع‌تر
- ۴ فعالیت در بخش کشاورزی - تراکم جمعیتی کمتر

به سوی جهانی در حال شهری شدن و افزایش شهرهای میلیونی

۱۸۲ همه گزینه‌های زیر در مورد شهرنشینی و بحث‌های جمعیتی درست هستند؛ به جز

متوسط - ۱۴۰۰ - smart

- ۱ جمعیت روستانشینان در دهه‌های آینده ثابت خواهد بود.
- ۲ امروزه جمعیت شهرنشینان بر روستانشینان پیشی گرفته است.
- ۳ سرعت افزایش شهرنشینی در نواحی مختلف جهان ثابت است.
- ۴ شهرنشینی به معنای افزایش نسبت جمعیت شهرهای یک ناحیه بر روستاهای آن است.

تغییر در روستانشینی و سکونتگاه‌های روستایی

۱۸۳ به سوالات زیر پاسخ دهید.

متوسط - ۱۴۰۰ - smart

در ایران

- روند شهرنشینی تا چه سالی ادامه داشته است؟
- از چه سالی روند شهرنشینی سرعت گرفت؟
- آیا تغییرات شهرنشینی و روستانشینی در ایران همانند سایر نواحی جهان بوده است؟
- ۱ ۱۳۳۵ - ۱۳۳۵ - بله همانند سایر جهان بوده است.
 - ۲ ۱۳۳۱ - ۱۳۴۱ - خیر تفاوت محسوسی داشته است.
 - ۳ ۱۳۳۵ - ۱۳۴۱ - بله همانند سایر جهان بوده است.
 - ۴ ۱۳۲۱ - ۱۳۳۵ - خیر تفاوت محسوسی داشته است.

تفاوت‌های شهر و روستا

۱۸۴ به ترتیب بر اساس کدام ملاک‌های تفاوت شهر و روستا، می‌توان "تغییرات اجتماعی سریع‌تر در شهرها"، "فعالیت متنوع در فضای محدود" و

متوسط - ۱۴۰۰ - smart

"اشتغال به زراعت در روستاها" را دسته‌بندی کرد؟

- ۱ فعالیت اقتصادی - میزان جمعیت - دسترسی به خدمات و تسهیلات
- ۲ فرهنگ و مناسبات اجتماعی - وسعت و فضای سکونت و فعالیت - فعالیت اقتصادی
- ۳ دسترسی به خدمات و تسهیلات - فعالیت اقتصادی - میزان جمعیت
- ۴ وسعت و فضای سکونتگاه - دسترسی به خدمات و تسهیلات - وسعت و فضای سکونت و فعالیت

به سوی جهانی در حال شهری شدن و افزایش شهرهای میلیونی

۱۸۵ به ترتیب کدام گزینه در خصوص سطح شهرنشینی در نواحی مختلف جهان، نادرست می‌باشد و امروزه تعداد شهرهای متوسط - ۱۴۰۰ smart- میلیونی با بیش از ۱۰ میلیون جمعیت، به چند عدد رسیده است؟

- ① در آمریکای لاتین کمتر از آمریکای شمالی - ۲۸
 ② در اروپا بیشتر از آسیا - ۱۰
 ③ در آمریکای لاتین بیشتر از آمریکای شمالی - ۲۸
 ④ در آسیا بیشتر از آفریقا - ۱۰

سلسله مراتب سکونتگاه‌ها و حوزه نفوذ سکونتگاه

۱۸۶ در رتبه‌بندی سکونتگاه‌ها در اروپا کدام یک در کف هرم قرار دارد و حداقل جمعیت یک منطقه که تقاضای عملکردی از یک سکونتگاه دارند، چه نامیده می‌شود؟

متوسط - ۱۴۰۰ smart-

- ① هاملت - دامنه نفوذ
 ② هاملت - آستانه جمعیتی نفوذ
 ③ روستا - دامنه نفوذ
 ④ روستا - آستانه جمعیتی نفوذ

۱۸۷ منظور از دامنه نفوذ چیست و مهم‌ترین عامل تغییر در کاهش روستانشینی و افزایش شهرنشینی چه می‌باشد؟

متوسط - ۱۴۰۰ smart-

- ① حداقل جمعیت یک منطقه که تقاضای کالا، خدمات یا عملکردی از یک سکونتگاه دارند - ایجاد مگالاپلیس‌ها
 ② حداقل جمعیت یک منطقه که تقاضای کالا، خدمات یا عملکردی از یک سکونتگاه دارند - کم‌رنگ شدن روابط شهر و روستا
 ③ بیشترین مسافتی که مردم منطقه برای دریافت کالا یا خدمات از آن سکونتگاه طی می‌کنند - مهاجرت از روستاها به شهر
 ④ بیشترین مسافتی که مردم منطقه برای دریافت کالا یا خدمات از آن سکونتگاه طی می‌کنند - تغییر کالبدی و عملکردی روستا

تفاوت‌های شهر و روستا

۱۸۸ کدام گزینه جزء متداول‌ترین ملاک تشخیص شهر و روستا نیست؟

متوسط - ۱۴۰۰ smart-

- ① تراکم این ملاک در شهرها بیشتر از روستا است.
 ② این ملاک در روستاها فشرده‌تر و متنوع‌تر است.
 ③ این ملاک در روستاها فشرده‌تر و متنوع‌تر است.
 ④ میزان این ملاک در شهرها نسبت به روستاها بیشتر است.

از مادرشهر تا زنجیره کلان‌شهرها (مگالاپلیس)

۱۸۹ بزرگ‌ترین و مهم‌ترین شهر یک ناحیه، استان یا کشور است که درباره حداقل جمعیت آن توافقی وجود

متوسط - ۱۴۰۰ smart-

- ① متروپل - ندارد
 ② متروپل - دارد
 ③ مگالاپلیس - ندارد
 ④ مگالاپلیس - دارد

سلسله مراتب سکونتگاه‌ها و حوزه نفوذ سکونتگاه

۱۹۰ اگر در هرم رتبه‌بندی و سلسله مراتب سکونتگاه‌ها از پایین به بالا برویم اتفاق می‌افتد و اگر از بالا به پایین برویم اتفاق می‌افتد.

متوسط - ۱۴۰۰ smart-

- ① کاهش جمعیت - افزایش خدمات گردشگری
 ② کاهش جمعیت - افزایش تولیدات صنعتی
 ③ افزایش جمعیت - کاهش تولیدات کشاورزی
 ④ افزایش جمعیت - کاهش تعداد و تنوع خدمات

مقر و موقعیت

۱۹۱ کدام یک از گزینه‌های زیر به لحاظ ارتباط به مقر و موقعیت متفاوت از بقیه است؟

متوسط - ۱۴۰۰ smart-

- ① وجود یک قلعه در روستای هوکولوی مجارستان به عنوان هسته اولیه
 ② دسترسی بوشهر به دریا و رونق تجارت در آن
 ③ وجود منابع مس در رفسنجان
 ④ تعداد گسل‌های زیاد در تهران

به سوی جهانی در حال شهری شدن و افزایش شهرهای میلیونی

۱۹۲) حومه‌ها کجا تشکیل می‌شوند؟ این شکل‌گیری با کدام یک از عوامل زیر ارتباط بیشتری دارد؟ smart- ۱۴۰۰ - متوسط

- ۱) اطراف شهرها - افزایش شهرنشینی و وسایل ارتباطی
- ۲) اطراف روستاها - ترکیب گروه‌های اجتماعی تشکیل‌دهنده روستاها
- ۳) اطراف روستاها و شهرها - میزان تمرکز و انبوهی جمعیت شهرها
- ۴) هر جایی می‌توانند تشکیل شوند - میزان سرمایه‌گذاری در نواحی مختلف

سلسله‌مراتب سکونتگاه‌ها و حوزه نفوذ سکونتگاه

۱۹۳) سلسله‌مراتب سکونتگاه‌ها یعنی و پایین‌ترین رتبه در سلسله‌مراتب سکونتگاه‌های اروپایی است. smart- ۱۴۰۰ - متوسط

- ۱) طبقه‌بندی سکونتگاه براساس وسعت - شهر کوچک
- ۲) رتبه‌بندی سکونتگاه برحسب اهمیت - هاملت
- ۳) رتبه‌بندی سکونتگاه برحسب اهمیت - شهر کوچک
- ۴) طبقه‌بندی سکونتگاه براساس وسعت - هاملت

از مادرشهر تا زنجیره کلان‌شهرها (مگالاپلیس)

۱۹۴) اولین مگالاپلیس آمریکا در کدام نقطه قرار دارد و از کجا تا کجاست؟ نام مگالاپلیس ژاپن چیست؟ smart- ۱۴۰۰ - متوسط

- ۱) شرق آمریکا - از کالیفرنیا تا سانفرانسیسکو - توکیو تا یوکوهاما
- ۲) غرب آمریکا - از بوستن تا واشنگتن - ازاکا تا توکیو
- ۳) شمال شرق آمریکا - از بوستن تا واشنگتن - توکیو تا یوکوهاما
- ۴) شمال غرب آمریکا - از کالیفرنیا تا سانفرانسیسکو - ازاکا تا توکیو

به سوی جهانی در حال شهری شدن و افزایش شهرهای میلیونی

۱۹۵) یکی از مهم‌ترین پدیده‌های مربوط به تغییرات الگوی شهرنشینی در جهان است و در سال ۱۹۵۰ شهرهای و جمعیتی بیش از ۸ میلیون نفر داشتند. smart- ۱۴۰۰ - متوسط

- ۱) افزایش شهرهای میلیونی - پاریس - برلین
- ۲) افزایش شهرهای میلیونی - نیویورک - لندن
- ۳) تغییر الگوی مکانی شهرها - رم - نیویورک
- ۴) کاهش شهرهای میلیونی - لندن - پاریس

تغییر در روستانشینی و سکونتگاه‌های روستایی

۱۹۶) در کدام یک از مناطق زیر رشد شهرنشینی سریع‌تر از رشد صنعتی رخ نداد؟ smart- ۱۴۰۰ - متوسط

- ۱) کشورهای آسیایی
- ۲) کشورهای آفریقایی
- ۳) کشورهای آمریکای لاتین
- ۴) کشورهای اقیانوسیه

از مادرشهر تا زنجیره کلان‌شهرها (مگالاپلیس)

۱۹۷) بزرگ‌ترین انواع سکونتگاه‌های شهری است و بعد از آن سکونتگاه وجود دارد که از آن کوچک‌تر است. smart- ۱۴۰۰ - متوسط

- ۱) مگالاپلیس - متروپل
- ۲) مگالاپلیس - متروپل
- ۳) منطقه مادرشهری - منطقه مادرشهری
- ۴) منطقه مادرشهری - مگالاپلیس

مقر و موقعیت

۱۹۸) علت شکل‌گیری تمدن‌های اولیه در کنار رودهای مهم مثل دجله و فرات کدام است؟ smart- ۱۴۰۰ - متوسط

- ۱) نقش بیشتر عوامل طبیعی در انتخاب مکان برای استقرار و سکونت جمعیت
- ۲) اهمیت مقر و موقعیت سکونتگاه‌ها در مطالعه آن‌ها
- ۳) تأثیر موقعیت سکونتگاه‌ها در ادامه حیات با گسترش آن‌ها
- ۴) تأثیر عوامل سیاسی و دسترسی به راه‌های تجاری در پدید آمدن سکونتگاه‌ها

۱۹۹) کدام یک از موارد زیر از مهم‌ترین عوامل شکل‌گیری هسته اولیه روستاها و شهرها در ایران نبوده است؟ smart- ۱۴۰۰ - متوسط

- ۱) دسترسی به آب
- ۲) قلعه‌های دفاعی
- ۳) بازارهای محلی
- ۴) خاک حاصلخیز

۲۰۰) همه موارد زیر نقش بیشتری در سکونت‌گزینی تمدن‌های اولیه داشته‌اند؛ به جز smart- ۱۴۰۰ - متوسط

- ۱) آب و هوای معتدل
- ۲) خاک حاصلخیز
- ۳) آب فراوان
- ۴) دسترسی به راه‌های تجاری

۲۰۱) تصویر روبه‌رو کدامیک از ویژگی‌های شهر اهواز را نشان می‌دهد و این ویژگی مورد نظر جایگاه شهر در چه سطحی را نشان می‌دهد؟

متوسط - ۱۴۰۰ - smart



- ۱) موقعیت - در سطح ناحیه
- ۲) هسته اولیه - در سطح شهر و روستا
- ۳) موقعیت - در سطح استان
- ۴) مکان - در سطح پدیده‌های پیرامون خود

تغییرات جمعیت شهری و روستایی در ایران

۲۰۲) کدام عبارات درباره شهرنشینی سریع در ایران درست هستند؟

الف) تبدیل شدن تهران به مادرشهر ملی

ب) استفاده از درآمد نفتی و ایجاد زیرساخت‌ها و کارخانه‌ها در اطراف روستاها

ج) تقسیم نادرست زمین و حمایت نکردن دولت از کشاورزان در طرح اصلاحات ارضی

د) انهدام کشاورزی از طریق ادغام روستاهای هم‌جوار در یکدیگر

- ۱) ب، ج ۲) ج، د ۳) الف، ج ۴) الف، ب

تغییر در روستانشینی و سکونتگاه‌های روستایی

۲۰۳) از میان عوامل زیر کدامیک اثری بر دفع جمعیت از روستاها ندارد؟

۱) چرای بیش از حد دام‌ها در نواحی روستایی

۲) کمبود ماشین‌آلات در فعالیتهای کشاورزی

۳) درآمد کم در نتیجه کمبود فرصت‌های شغلی

۴) کمبود بهداشت، خدمات رفاهی و آموزش

از مادرشهر تا زنجیره کلان‌شهرها (مگالاپلیس)

۲۰۴) همه گزینیه‌ها ویژگی‌های مگالاپلیس را برمی شمردند، به جز

۱) تمرکززدایی از انبوه جمعیت، مؤسسات مالی و پولی و توزیع صنایع دانش‌بنیان در شهرهای هم‌جوار

۲) پدیدآمدن آن در نتیجه گسترش فوق‌العاده زیاد دو یا چند مادرشهر

۳) پیوند حومه‌ها و شهرک‌های اقماری یک مادرشهر به حومه‌ها و شهرک‌های مادرشهر دیگر

۴) زنجیره ای از مادرشهرها یا کلان‌شهرها در امتداد مسیرهای ارتباطی و حمل‌ونقل

متوسط - منتا - ۱۴۰۰

سخت - ۱۴۰۰ - smart

سخت - منتا - ۱۴۰۰

۲۰۵ کدام گزینه اطلاعات نادرستی از سکونتگاه‌های شهری ارائه می‌کند؟

- ۱ متروپل مهم‌ترین شهر یک ناحیه، استان یا کشور است.
- ۲ به شهرهایی با بیش از ۱۰ میلیون نفر جمعیت، کلان‌شهر اطلاق می‌شود.
- ۳ با گسترش حمل‌ونقل می‌توان از تراکم حومه‌ها کاست.
- ۴ در ایران به مادرشهرهایی که بیش از ۱ میلیون نفر جمعیت داشته باشند، کلان‌شهر می‌گویند.

سلسله‌مراتب سکونتگاه‌ها و حوزه نفوذ سکونتگاه

۲۰۶ در جدول طبقه‌بندی سلسله‌مراتب سکونتگاه‌ها، تعداد شهرها یا روستاهایی که در هر طبقه وجود خواهند داشت، پس از کدام مرحله مشخص می‌شوند؟

متوسط - منتا - ۱۴۰۰

- ۱ هماهنگی اهداف و نوع مطالعات محققان
- ۲ تعیین نوع خدمات مشخص و مشترک
- ۳ در نظر گرفتن تحولات و میزان جمعیت
- ۴ طراحی معیارهای رتبه‌بندی

متوسط - ۱۴۰۰ - smart

۲۰۷ در دسته‌بندی سکونتگاه‌ها براساس سلسله‌مراتب آن‌ها، کدام ویژگی ملاک تصمیم‌گیری است؟

- ۱ میزان و تنوع خدمات ارائه‌شده توسط آن‌ها
- ۲ وسعت و فضای اشغال‌شده توسط آن‌ها
- ۳ ویژگی‌های سنی و جنسی جمعیت
- ۴ شکل و جهت جغرافیایی آن‌ها

تفاوت‌های شهر و روستا

۲۰۸ «میزان اشتغال جمعیت سکونتگاه‌های روستایی به زراعت، صید و شکار و...»، «تراکم بالای فعالیت‌های متنوع در فضاهای محدود» و «بالابودن نوگرایی در شهرها» به کدام‌یک از ملاک‌های تفاوت شهر و روستا اشاره دارد؟

متوسط - منتا - ۱۴۰۰

- ۱ وسعت و فضای سکونت و فعالیت - میزان جمعیت - دسترسی به خدمات و تسهیلات
- ۲ فعالیت اقتصادی - میزان جمعیت - دسترسی به خدمات و تسهیلات
- ۳ وسعت و فضای سکونت و فعالیت - فعالیت اقتصادی - فرهنگ و مناسبات اجتماعی
- ۴ فعالیت اقتصادی - وسعت و فضای سکونت و فعالیت - فرهنگ و مناسبات اجتماعی

مقر و موقعیت

متوسط - ۱۴۰۰ - smart

۲۰۹ کدام گزینه درباره «قلعه روستای هولوکو» صحیح است؟

- ۱ تغییرات محیط پیرامون باعث از دست رفتن اعتبار یک شهر می‌شوند.
- ۲ در انتخاب مکان برای استقرار و سکونت جمعیت، عوامل سیاسی بیشترین نقش را داشته‌اند.
- ۳ هسته اولیه مکانی است که مردم برحسب نیاز، آن را برای زندگی انتخاب کرده‌اند و سکونتگاه از آنجا گسترش یافته است.
- ۴ جایگاه یک سکونتگاه در سطح ناحیه متأثر از عوامل انسانی و طبیعی آن و پیرامونش است.

به سوی جهانی در حال شهری شدن و افزایش شهرهای میلیونی

متوسط - ۱۴۰۰ - smart

۲۱۰ کدام گزینه مقایسه درستی از سطح شهرنشینی در جهان ارائه می‌کند؟

- ۱ در آسیا کمتر از آفریقا و بیشتر از اروپا و آمریکا
- ۲ در اروپا کمتر از آسیا و بیشتر از آمریکا
- ۳ در آمریکا بیشتر از آسیا و کمتر از اروپا
- ۴ در اقیانوسیه و آسیا کمتر از آمریکا و بیشتر از آفریقا

سلسله مراتب سکونتگاه‌ها و حوزه نفوذ سکونتگاه

۲۱۱ کدام گزینه به «آستانه نفوذ» یک سکونتگاه اشاره دارد؟

- ۱ سطح شهرنشینی و سرعت آن در مناطق غربی کشور رو به افزایش است.
- ۲ افزایش جمعیت شهر تهران مسائل و مشکلات زیادی را بر کشور تحمیل خواهد کرد.
- ۳ میزان صنعتی شدن و توسعه کارخانه‌ها در شهر اصفهان باعث افزایش جمعیت شده است.
- ۴ به نظر می‌رسد که حداقل جمعیت متقاضی کالا و خدمات از شهر ملایر، ۱۵۰ هزار نفر است.

متوسط - منته - ۱۴۰۰

۲۱۲ اگر حوزه نفوذ یک سکونتگاه را با رسم یک دایره نشان دهیم، کدام شکل دامنه نفوذ بیشتری دارد؟



متوسط - ۱۴۰۰ - smart

تفاوت‌های شهر و روستا

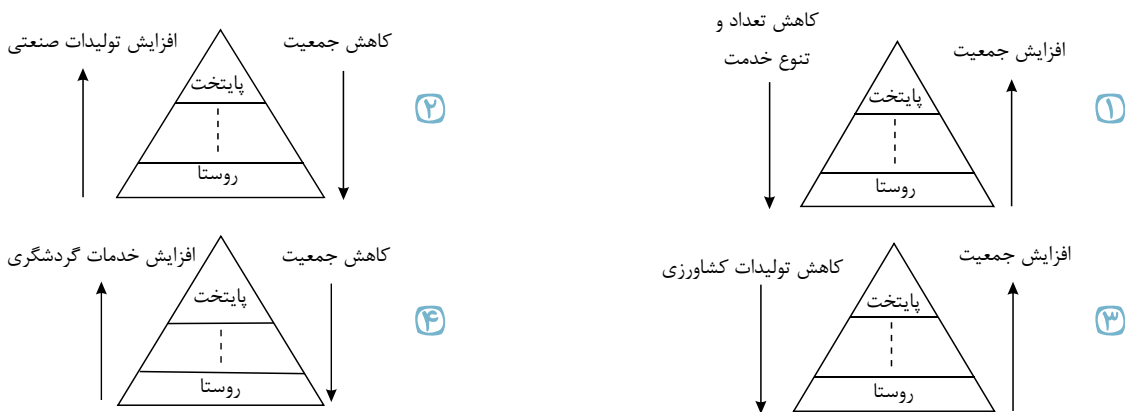
۲۱۳ در مقایسه سکونتگاه‌های شهری و روستایی، کدام گزینه بیانگر ویژگی‌های سکونتگاه روستایی است؟

- ۱ جمعیت کمتر - فعالیت‌های محدودتر در فضای گسترده‌تر
- ۲ فعالیت در بخش‌های کوچک صنعتی - خدمات و تسهیلات محدودتر
- ۳ تراکم بیشتر جمعیت - فعالیت در بخش زراعت، جنگل‌داری، صید و شکار و...
- ۴ نوگرایی بیشتر و تغییرات اجتماعی سریع‌تر - چشم‌اندازهای طبیعی بیشتر و گسترده‌تر

متوسط - ۱۴۰۰ - smart

سلسله مراتب سکونتگاه‌ها و حوزه نفوذ سکونتگاه

۲۱۴ کدام شکل برای رتبه‌بندی یا تعیین سلسله مراتب سکونتگاه‌ها مناسب‌تر است؟



سخت - منته - ۱۳۹۹

از مادرشهر تا زنجیره کلان‌شهرها (مگالاپلیس)

۲۱۵ تبدیل مادرشهرها به منطقه آبرشهری، چه تأثیری بر حومه‌ها می‌گذارد؟

- ۱ تبدیل شدن حومه‌های فقیر به حومه‌های مرفه
- ۲ از بین رفتن بافت روستایی حومه شهرها
- ۳ کاهش رفت‌وآمد حومه‌نشینان به شهرها
- ۴ پیوند خوردن حومه‌های مادرشهرها با یکدیگر

متوسط - ۱۳۹۹ - smart

تغییر در روستانشینی و سکونتگاه‌های روستایی

۲۱۶ در سده نوزدهم به دنبال کدام اتفاق، مهاجرت از روستاها به شهرها در کشورهای توسعه‌یافته و صنعتی رخ داد؟

متوسط - منته - ۱۳۹۹

از مادرشهر تا زنجیره کلان شهرها (مگالاپلیس)

۲۱۷ کدام گزینه اطلاعات درستی از متروپل ها به دست نمی دهد؟

سخت- ۱۳۹۹-smart

- ۱ بزرگ ترین و مهم ترین شهر یک ناحیه، استان یا کشور است.
- ۲ در ایران شهرهایی چون تهران، مشهد، اصفهان و کرج از این دسته اند.
- ۳ درباره حداقل جمعیت مادرشهر، توافقی وجود ندارد.
- ۴ این شهر همواره پایتخت و شهر اصلی یک ناحیه است.

تغییرات جمعیت شهری و روستایی در ایران

۲۱۸ موارد زیر موجب گردید تا اصلاحات ارضی در ایران ناموفق باشد؛ به جز:

متوسط- منتهای- ۱۳۹۹

- ۱ حمایت نکردن دولت از کشاورزان
- ۲ تقسیم نادرست زمین
- ۳ واردات کالا از کشورهای خارجی
- ۴ بی توجهی به صنایع مونتاژ

تغییر در روستانشینی و سکونتگاه های روستایی

۲۱۹ نحوه وقوع تغییرات شهرنشینی و روستانشینی در ایران، نسبت به سایر نواحی جهان، چگونه بوده است و روند شهرنشینی در آن از چه سالی سرعت گرفت؟

متوسط- ۱۳۹۹-smart

- ۱ همانند سایر نواحی جهان است - از سال ۱۳۳۵
- ۲ همانند سایر نواحی جهان است - از سال ۱۳۴۱
- ۳ تفاوت محسوسی با سایر نواحی جهان دارد - از سال ۱۳۳۵
- ۴ تفاوت محسوسی با سایر نواحی جهان دارد - از سال ۱۳۴۱

از مادرشهر تا زنجیره کلان شهرها (مگالاپلیس)

۲۲۰ در سده نوزدهم و اوایل قرن بیستم در کدام کشورها و به دنبال کدام اتفاق، مهاجرت از روستاها به شهرها رخ داد؟

متوسط- منتهای- ۱۳۹۹

- ۱ توسعه یافته و صنعتی اروپا و آمریکای جنوبی - ورود کشورها به عصر مدرنیسم
- ۲ توسعه نیافته آسیا و آفریقا - تحولات صنعتی و شهرگرایی
- ۳ توسعه یافته و صنعتی اروپا و آمریکای شمالی - توسعه صنایع کارخانه ای
- ۴ توسعه نیافته آسیا، آفریقا و آمریکای لاتین - ایجاد کشت تجاری

به سوی جهانی در حال شهری شدن و افزایش شهرهای میلیونی

۲۲۱ یکی از مهم ترین پدیده های مربوط به تغییرات الگوی شهرنشینی در جهان چیست و در سال ۱۹۵۰ کدام دو شهر بیش از ۸ میلیون نفر جمعیت داشتند؟

متوسط- منتهای- ۱۳۹۹

- ۱ افزایش شهرهای میلیونی - پاریس و لندن
- ۲ صنعتی شدن و توسعه کارخانه ها - نیویورک و توکیو
- ۳ افزایش شهرهای میلیونی - لندن و نیویورک
- ۴ صنعتی شدن و توسعه کارخانه ها - نیویورک و پاریس

سلسله مراتب سکونتگاه ها و حوزه نفوذ سکونتگاه

۲۲۲ منظور از سلسله مراتب سکونتگاه ها چیست و نحوه طبقه بندی آن ها برای این منظور بر چه اساسی است؟

متوسط- ۱۳۹۹-smart

- ۱ میزان قدرت و وسعت آن ها - میزان جمعیت و عملکرد
- ۲ رتبه بندی آن ها بر حسب اهمیت - میزان جمعیت و عملکرد
- ۳ میزان قدرت و وسعت آن ها - میزان حوزه نفوذ
- ۴ رتبه بندی آن ها بر حسب اهمیت - میزان حوزه نفوذ

مقر و موقعیت

۲۲۳ محل استقرار سکونتگاه و آنچه «هسته اولیه آن» را شامل می شود و عواملی که «بیشترین نقش را در انتخاب مکان برای استقرار جمعیت» داشته اند، به ترتیب کدام اند؟

متوسط- ۱۳۹۹-smart

- ۱ موقعیت - مقر - سیاسی
- ۲ موقعیت - موقعیت - سیاسی
- ۳ مقر - مقر - طبیعی
- ۴ مقر - موقعیت - طبیعی

پاسخنامه تشریحی

- ۱) مطالعه موقعیت و مقر روستاها و شهرها به ما کمک می‌کند تا برای توسعه، عمران و آبادانی آن‌ها برنامه‌ریزی بهتری داشته باشیم. (۱ ۲ ۳ ۴ ۵)
- ۲) به حداقل جمعیتی که تقاضای کالا، خدمات یا عملکردی از یک سکونتگاه دارند، آستانه نفوذ آن می‌گویند. (۱ ۲ ۳ ۴ ۵)
- ۳) منظور از شهرگرایی روندی اقتصادی-اجتماعی است که طی آن شیوه‌های زندگی، رفتار و عملکردها، ارزش‌ها و مظاهر شهری در روستاها و بین روستائیان رواج می‌یابد. (۱ ۲ ۳ ۴ ۵)

- ۴) رویدادهای سیاسی یا تغییرات آب و هوایی می‌تواند موجب از دست دادن موقعیت و اعتبار یک شهر یا انتقال آن به مکان دیگر شود. (۱ ۲ ۳ ۴ ۵)
- ۵) تشریح گزینه‌های دیگر: (۱ ۲ ۳ ۴ ۵)
- گزینه ۱: در اغلب سکونتگاه‌های روستایی، درصد بیشتری از جمعیت فعال در بخش کشاورزی فعالیت می‌کنند اما در شهرها بیشتر مردم در بخش‌های صنعتی و خدماتی مشغول به کارند.
- گزینه ۲: در برخی از کشورهای اروپایی، سکونتگاه‌هایی با بیشتر از ۲۰۰۰ نفر جمعیت، شهر محسوب می‌شوند.
- گزینه ۳: در شهرها امکانات، متنوع‌تر و گسترده‌تر است، در حالی که این خدمات و تسهیلات در روستاها کمتر و محدودتر است.
- ۶) برخی مگالاپلیس را منطقه آبرشهری نامیده‌اند. (۱ ۲ ۳ ۴ ۵)
- ۷) (۱ ۲ ۳ ۴ ۵)

نواحی	آمریکای شمالی	آمریکای لاتین و کارائیب	اروپا - اقیانوسیه	آسیا	آفریقا
درصد شهرنشینی	۸۱٫۵ درصد	۷۹٫۵	۷۳٫۵ درصد - ۷۰ درصد	۴۷٫۵ درصد	۴۰ درصد

- ۸) مگالاپلیس بوستن - واشنگتن در شمال شرقی ایالات متحده آمریکا واقع شده است. در نتیجه گسترش زیاد دو یا چند مادرشهر در امتداد مسیرهای ارتباطی و حمل‌ونقل، زنجیره‌ای از مادرشهرها، پدید آمده‌اند که به آن‌ها مگالاپلیس می‌گویند. (۱ ۲ ۳ ۴ ۵)
- ۹) مادرشهر (متروپل) بزرگ‌ترین و مهم‌ترین شهر یک ناحیه، استان یا کشور است. با افزایش جمعیت مادرشهرها و گسترش حومه‌های آن، منطقه‌هایی با عنوان منطقه مادرشهری به وجود آمده‌اند. در برخی از بخش‌های جهان، زنجیره‌ای از مادرشهرها پدید آمده‌اند که به آن‌ها مگالاپلیس (منطقه ابرشهری) می‌گویند. (۱ ۲ ۳ ۴ ۵)
- ۱۰) منظور از هسته اولیه مکانی است که مردم برحسب نیاز آن را برای زندگی انتخاب نموده و به اشغال درآورده‌اند؛ بعدها نیز روستا یا شهر از آن محل گسترش یافته است. (۱ ۲ ۳ ۴ ۵)
- ۱۱) با ورود کشورهای آسیایی، آفریقایی و آمریکای لاتین به دوره صنعتی شدن، مهاجرت فزاینده‌ای از روستا به شهر در این دوره به وقوع پیوست؛ اما این مهاجرت‌ها با توسعه صنعتی همگام نبود، بلکه رشد شهرنشینی در این نواحی طی دوره‌های زمانی کوتاه‌تر و سریع‌تر از رشد صنعتی رخ داد. (۱ ۲ ۳ ۴ ۵)
- ۱۲) در سده نوزدهم و نیمه اول قرن بیستم در کشورهای توسعه‌یافته و صنعتی اروپا و آمریکای شمالی، به دنبال توسعه صنایع کارخانه‌ای، مهاجرت از روستاها به شهرها رخ داد. (۱ ۲ ۳ ۴ ۵)
- ۱۳) به محدوده جغرافیایی که از یک سکونتگاه کالا و انواع خدمات دریافت می‌کند و بین آن محدوده و سکونتگاه جریان کالا، خدمات و آمد افراد وجود دارد، حوزه نفوذ، آن سکونتگاه می‌گویند. (۱ ۲ ۳ ۴ ۵)
- ۱۴) سلسله‌مراتب سکونتگاه‌های ایران: روستا - دهستان - بخش - شهرستان - استان که به ترتیب جمعیت خدمات شهرها نیز افزایش می‌یابد. (۱ ۲ ۳ ۴ ۵)
- ۱۵) معمولاً به مادرشهر (متروپل)، کلان شهر نیز گفته می‌شود. برخی نیز معتقدند که کلان شهر ترجمه و معادل واژه مگاسیتی است. با افزایش جمعیت مادرشهرها و گسترش حومه‌های آن‌ها به تدریج منطقه‌هایی با عنوان منطقه مادرشهری به وجود آمدند. در نتیجه گسترش فوق‌العاده زیاد دو یا چند مادرشهر زنجیره‌ای از مادرشهرها پدید می‌آید که به آن‌ها مگالاپلیس (منطقه ابرشهری) می‌گویند. (۱ ۲ ۳ ۴ ۵)
- ۱۶) در روستاها فضاهای باز و چشم‌اندازهای طبیعی بیشتر و گسترده‌ترند. در شهرها، خانه‌ها، مغازه‌ها و فضاهای صنعتی به هم فشرده‌ترند و فعالیت‌های متنوع در فضاهای محدودتری متراکم شده‌اند. (۱ ۲ ۳ ۴ ۵)
- گزینه ۱ ← به طور کلی شهرها از روستاها پرجمعیت‌ترند و تراکم جمعیت نیز در آن‌ها بیشتر است.
- گزینه ۲ ← متداول‌ترین ملاک تشخیص شهر و روستا ملاک جمعیتی است.
- گزینه ۴ ← در اغلب سکونت‌گاه‌های روستایی، درصد بیشتری از جمعیت فعال، در بخش کشاورزی فعالیت می‌کنند؛ اما در شهرها بیشتر مردم در بخش‌های صنعتی و خدماتی مشغول به کارند.
- ۱۷) مقر هر روستا یا شهر، هسته اولیه آن را شامل می‌شود و در انتخاب مکان برای استقرار و سکونت جمعیت، عوامل طبیعی بیش‌ترین نقش را دارند. (۱ ۲ ۳ ۴ ۵)
- ۱۸) در کشور ایران دسترسی به آب، قلعه‌های دفاعی، بازارهای محلی و قرار گرفتن در تقاطع راه‌ها از مهم‌ترین عوامل شکل‌گیری هسته اولیه شهرها و روستاها بوده است. (۱ ۲ ۳ ۴ ۵)
- ۱۹) سلسله‌مراتب سکونتگاه‌ها یعنی رتبه‌بندی آن‌ها بر حسب اهمیت. در سلسله‌مراتب سکونتگاه‌های اروپایی قبل از پایتخت، شهر منطقه‌ای قرار دارد. طبقه‌بندی سکونتگاه‌ها بر اساس میزان جمعیت و عملکرد آن‌ها صورت می‌گیرد. (۱ ۲ ۳ ۴ ۵)
- ۲۰) الف) مادرشهر (متروپل) ب) مگالاپلیس ج) حومه (۱ ۲ ۳ ۴ ۵)
- ۲۱) مگالاپلیس شمال شرق ایالات متحده آمریکا (از بوستان تا واشنگتن) و مگالاپلیس ژاپن (توکیو - یوکوهاما) از اولین مگالاپلیس‌های جهان هستند. (۱ ۲ ۳ ۴ ۵)

- ۲۲) برخی از شهرها (با بیش از ۱۰ میلیون نفر) به سبب نقش مهم آن‌ها در اقتصاد و تجارت جهانی، حوزه نفوذ بسیار وسیعی در سطح جهان دارند و به آن‌ها جهان‌شهر گفته می‌شود. ۱ ۲ ۳ ۴
- ۲۳) اصلاحات ارضی یعنی تغییر قوانین مالکیت زمین و توزیع محصولات به نفع کشاورزان. ۱ ۲ ۳ ۴
- ۲۴) برخی از شهرها به دلیل مشارکت زیاد در اقتصاد و تجارت جهانی، حوزه نفوذ وسیعی در سطح جهان دارند که به آن‌ها جهان‌شهر می‌گویند. ۱ ۲ ۳ ۴
- ۲۵) موقعیت، شرایط و ارتباط سکونتگاه را با عوامل در سطح وسیع‌تر (مانند یک ناحیه) نشان می‌دهد. ۱ ۲ ۳ ۴
- ۲۶) در روستاها چشم‌اندازهای طبیعی بیشتر و گسترده‌تر ولی فضاهای مسکونی یا صنعتی کوچک‌تر است. روستاها به‌طور نسبی مکان‌هایی شناخته شده‌اند که در آن‌ها اغلب نیروهای کار به کشاورزی یا سایر فعالیت‌های اولیه مشغول‌اند. در روستاها تعاون و همکاری بیشتر و در شهرها نوگرایی و تغییرات اجتماعی شدیدتر است. ۱ ۲ ۳ ۴
- ۲۷) در طبقه‌بندی فعالیت‌های اقتصادی، فعالیت‌های نوع دوم شامل صنعت و فعالیت‌های نوع سوم شامل خدمات می‌شود. متداول‌ترین ملاک تشخیص شهر و روستا ملاک جمعیتی است. به‌طور کلی شهرها از روستاها پرجمعیت‌ترند و تراکم جمعیت نیز در آنها بیشتر است. ۱ ۲ ۳ ۴
- ۲۸) بررسی سایر گزینه‌ها: ۱ ۲ ۳ ۴
- گزینه ۲: مادرشهرها بیش از ۱ میلیون نفر جمعیت دارند.
- گزینه ۳: مگالاپلیس در رأس هرم سلسله مراتب سکونتگاهی قرار دارد.
- گزینه ۴: مادرشهر بزرگ‌ترین و مهم‌ترین شهر یا ناحیه، استان یا کشور است.
- ۲۹) در برخی از بخش‌های جهان، در نتیجه گسترش فوق‌العاده زیاد دو یا چند مادرشهر در امتداد مسیرهای ارتباطی و حمل و نقل، زنجیره‌ای از مادرشهرها پدید آمده‌اند که به آن‌ها مگالاپلیس گفته می‌شود. از مهم‌ترین ویژگی‌های مگالاپلیس‌ها عبارتند از: تمرکز و انبوهی جمعیت شهرها، تمرکز مؤسسات مالی و پولی، تمرکز صنایع دانش بنیان و فراوانی آمد و شد بین مادرشهرهای هم‌جوار. ۱ ۲ ۳ ۴
- ۳۰) تشریح گزینه‌های نادرست: برای حداقل جمعیت مادرشهر، ارقام مختلفی را ذکر کرده‌اند و در این مورد توافقی وجود ندارد. در کشور ایران طبق مصوبه شورای عالی معماری و شهرسازی، به مادرشهرهایی که بیش از ۱ میلیون نفر جمعیت داشته باشد، کلان‌شهر گفته می‌شود. با افزایش جمعیت مادرشهر و گسترش حومه‌های آن‌ها به تدریج منطقه مادرشهری به‌وجود می‌آید. ۱ ۲ ۳ ۴
- ۳۱) هریک از عبارتها به‌ترتیب مربوط به موارد گزینه ۱ است. ۱ ۲ ۳ ۴
- ۳۲) الف) در سال ۱۹۵۰ فقط ۳۰ درصد جمعیت جهان در شهرها زندگی می‌کردند. ب) سطوح شهرنشینی و افزایش آن در نواحی مختلف جهان متفاوت است. ج) صحیح است. ۱ ۲ ۳ ۴
- ۳۳) الف) هسته اولیه مکانی است که مردم برحسب نیاز آن را برای زندگی انتخاب کرده و به اشتغال درآورده‌اند و بعدها روستاها یا شهرها از محل آن گسترش یافته‌اند. هسته اولیه لزوماً در مرکز شهر قرار ندارد برای مثال ممکن است هسته اولیه شهری در کنار رود پدید آید و سپس از آن در جهت مخالف رود گسترش یابد. ب) تمدن‌های اولیه در کنار رودها پدید آمده‌اند. ج) صحیح است. د) صحیح است. ۱ ۲ ۳ ۴
- ۳۴) الف) صحیح ۱ ۲ ۳ ۴
- ب) در امتداد مسیرهای ارتباطی و حمل‌ونقل زنجیره‌ای از مادرشهرها یا کلان‌شهرها پدید می‌آیند که به آن‌ها مگالاپلیس می‌گویند و شکل آن‌ها خطی، کریدوری، خوشه‌ای یا کهکشانی است. ج) صحیح ۱ ۲ ۳ ۴
- د) مادرشهر همان متروپول است درحالی که باید می‌گفت مگالاپلیس شکل می‌گیرد. ۱ ۲ ۳ ۴
- ۳۵) اصلاحات ارضی از سال ۱۳۴۱ در کشور ما انجام گرفت و به انهدام کشاورزی انجامید. ۱ ۲ ۳ ۴
- ۳۶) برخی از سکونتگاه‌ها حوزه نفوذ کم و وسعتی دارند. برای مثال یک شهر کوچک ممکن است فقط به چند روستای پیرامون خود خدمات بدهد و ساکنان روستاهای پیرامون برای خرید و کار در کارخانه‌ها و استفاده از مراکز درمانی به آن شهر مراجعه کنند. ۱ ۲ ۳ ۴
- ۳۷) در بیشتر کشورها علاوه بر برنامه‌ریزی برای تک‌تک شهرها و روستاها، برنامه عمومی و کلی تری در سطح کشور و منطقه، یعنی آمایش سرزمین، تهیه می‌شود. ۱ ۲ ۳ ۴
- ۳۸) مهاجران روستایی اکثراً فاقد مهارت و تخصص هستند. هم‌چنین فرصت‌های شغلی در شهرها حائز محدودیت می‌باشد. در نتیجه اکثر مهاجران روستایی پس از مهاجرت به شهرها به سمت بخش غیررسمی اقتصاد سوق یافته و در این بخش به فعالیت می‌پردازند. ۱ ۲ ۳ ۴
- ۳۹) در مگالاپلیس، حومه‌ها و شهرک‌های اقماری یک مادرشهر، به حومه‌ها و شهرک‌های مادرشهر دیگر پیوند می‌خورد. ۱ ۲ ۳ ۴
- ۴۰) تشریح گزینه‌های نادرست: ۱ ۲ ۳ ۴
- گزینه ۱: در سال ۱۹۵۰ میلادی فقط ۳۰ درصد جمعیت جهان در شهرها زندگی می‌کردند.
- گزینه ۲: سطوح شهرنشینی و افزایش آن در نواحی مختلف جهان متفاوت است.
- گزینه ۴: امروزه جمعیت شهرنشین جهان بر جمعیت روستانشین پیشی گرفته است.
- ۴۱) مطابق شکل صورت سؤال، سکونتگاه A بیشترین و سکونتگاه C، کمترین وسعت حوزه نفوذ را دارند. میان رتبه سکونتگاه و وسعت حوزه نفوذ آن رابطه مستقیم وجود دارد؛ به این معنا که هر قدر رتبه سکونتگاه در سلسله مراتب سکونتگاه‌ها بالاتر باشد، حوزه نفوذ وسیع‌تری دارد. بنابراین سکونتگاه‌های اروپایی از نظر وسعت حوزه نفوذ، به این صورت ترتیب‌بندی می‌شوند: پایتخت، شهر منطقه‌ای، شهر متوسط، شهر کوچک، روستا و هاملت. ۱ ۲ ۳ ۴
- ۴۲) تشریح گزینه‌های دیگر: ۱ ۲ ۳ ۴
- گزینه ۱: «شهرها» از تراکم جمعیت بالاتری برخوردار هستند.
- گزینه ۳: در روستاها درصد بیشتری از جمعیت فعال در «بخش کشاورزی» فعالیت می‌کنند.
- گزینه ۴: در «روستاها» وابستگی اجتماعی و همکاری میان افراد بیشتر است. ۱ ۲ ۳ ۴

- ۴۳) اصلاحات ارضی از سال ۱۳۴۱ در کشور ما انجام گرفت و به انهدام کشاورزی انجامید. ۱ ۲ ۳ ۴ ۵
- ۴۴) عبارت صورت سؤال و عبارت گزینه «۳» هردو بیانگر «موقعیت» سکونتگاه می‌باشند. سایر گزینه‌ها مربوط به «مقر» سکونتگاه‌اند. ۱ ۲ ۳ ۴ ۵
- ۴۵) باتوجه به سلسله مراتب سکونتگاه‌ها در اروپا، تعداد و تنوع خدمات در در هاملت (دهی که کلیسا ندارد) از روستا، شهرهای کوچک، متوسط و منطقه‌ای و پایتخت کمتر است. ۱ ۲ ۳ ۴ ۵
- ۴۶) به محدوده جغرافیایی که از یک سکونتگاه کالا و انواع خدمات دریافت می‌کند و بین آن محدوده و سکونتگاه جریان کالا، خدمات و رفت و آمد افراد وجود دارد، حوزه نفوذ سکونتگاه می‌گویند. ۱ ۲ ۳ ۴ ۵
- ۴۷) منظور از هسته اولیه مکانی است که مردم برحسب نیاز، آن را برای زندگی انتخاب کرده و به اشتغال درآورده‌اند و بعدها روستا یا شهر از آن محل گسترش یافته است. موقعیت یک شهر یا روستا در ادامه حیات یا گسترش آن سکونتگاه و یا حتی نابودی و زوال آن نقش مهمی ایفا می‌کند. ۱ ۲ ۳ ۴ ۵
- ۴۸) در نمودار سلسله مراتب سکونتگاه‌ها، رابطه بین جمعیت و تنوع خدمات مستقیم است. ۱ ۲ ۳ ۴ ۵
- ۴۹) توضیحات بیان شده مربوط به شهر اهواز است. ۱ ۲ ۳ ۴ ۵
- ۵۰) آب فراوان و آب و هوای ملایم و خاک حاصلخیز جلگه‌ای در سکونت‌گزینی انسان‌ها مؤثر است. ۱ ۲ ۳ ۴ ۵
- ۵۱) جمعیت روستاهای جهان طبق آمار سازمان ملل در نیمه سال ۲۰۱۸، برابر ۳٫۴ میلیارد نفر می‌باشد. ۱ ۲ ۳ ۴ ۵
- ۵۲) برخی پژوهشگران هسته اولیه شهر رشت را وجود بازار و تجارت محصولات کشاورزی و ابریشم با نواحی پیرامون می‌دانند. ۱ ۲ ۳ ۴ ۵
- ۵۳) تا سال ۱۳۳۵ مهاجرت از روستاها به شهرها به کندی صورت می‌گرفت؛ این دوره به دوره شهرنشینی کند معروف است. از سال ۱۳۳۵ به بعد روند شهرنشینی در ایران سرعت گرفت. ۱ ۲ ۳ ۴ ۵
- ۵۴) با سرمایه‌گذاری و خرید زمین‌های کشاورزی توسط شهرنشینان به منظور ایجاد کشت تجاری، روستانشینی کاهش یافت. ۱ ۲ ۳ ۴ ۵
- ۵۵) در کشورهای آسیا و آفریقا بخش عمده‌ای از رشد شهرنشینی به علت مهاجرت فزاینده روستاییان به شهرها به منظور اشتغال و دستمزد بیشتر و به دنبال صنعتی شدن و توسعه کارخانه‌ها و یا رشد بخش خدمات و ورود این کشورها به تجارت جهانی بوده است. ۱ ۲ ۳ ۴ ۵
- ۵۶) متداول‌ترین ملاک تشخیص شهر و روستا، ملاک جمعیتی است و وابستگی اجتماعی و همکاری در روستاها بیشتر است. ۱ ۲ ۳ ۴ ۵
- ۵۷) تشریح عبارت‌های نادرست:
الف) در روستاها وابستگی اجتماعی و همکاری میان افراد بیشتر است.
د) شهرها از تراکم جمعیت بالاتری برخوردار هستند.
- ۵۸) با بروز تحولات صنعتی و ورود کشور به عصر نوسازی (مدرنیزاسیون) نفوذ شهرها و «شهرگرایی» در روستاها افزایش یافت. ۱ ۲ ۳ ۴ ۵
- ۵۹) در بیشتر آن‌ها بر نابرابری میان شهر و روستا تأکید شده است. طبق این گزاره، شهر محل انباشت سرمایه، تولید کالاهای کارخانه‌ای و تمرکز اقتصادی است و مبادله‌ای نابرابر بین شهر و روستا جریان دارد. ۱ ۲ ۳ ۴ ۵
- ۶۰) مگاسیتی به شهرهایی با بیش از ۱۰ میلیون نفر جمعیت اطلاق می‌شود و در مگالاپلیس، حومه‌ها و شهرک‌های اقماری آن با یک مادرشهر به حومه‌ها و شهرک‌های مادرشهر دیگر پیوند می‌خورد.
بررسی سایر گزینه‌ها:
گزینه «۲»: مگاسیتی - متروپل
گزینه «۳»: متروپل - جهان شهر
گزینه «۴»: مگالاپلیس - متروپل
- ۶۱) تشریح گزینه‌های نادرست:
۱) در نظریه‌های جغرافی‌دان‌ها و سایر دانشمندان بیشتر بر نابرابری میان شهر و روستا تأکید شده است.
۳) روابط شهر و روستا را می‌توان از جنبه‌های اقتصادی، اجتماعی و فرهنگی مطالعه کرد.
۴) از دیرباز شهر و روستا با یکدیگر وابستگی و روابط متقابل داشته‌اند.
- ۶۲) تا سال ۱۳۳۵ مهاجرت به کندی صورت می‌گرفت، این دوره را «شهرنشینی کند» گویند. از این سال به بعد مهاجرت شدت گرفت و به شهرنشینی سریع معروف شد. ۱ ۲ ۳ ۴ ۵
- شهر مشهد، دومین کلان‌شهر ایران است و جمعیت تهران بیش از دو برابر آن است (پس دومین شهر یعنی مشهد نصف تهران جمعیت دارد). ۱ ۲ ۳ ۴ ۵
- ۶۳) در سده نوزدهم و اوایل قرن ۲۰ در کشورهای توسعه یافته اروپا و آمریکای شمالی، به دنبال توسعه صنایع کارخانه‌ای مهاجرت از روستاها به شهرها رخ داد. ۱ ۲ ۳ ۴ ۵
- ۶۴) یکی از پدیده‌های ناشی از نظام اقتصادی سرمایه‌داری، نابرابری فضایی است. در بیشتر آنها امکانات و خدمات شهری به‌طور عادلانه و متوازن توزیع نشده‌اند و بین مناطق برخوردار و مرفه و مناطق محروم تفاوت‌های چشمگیری از نظر فضای جغرافیایی مشاهده می‌شود. ۱ ۲ ۳ ۴ ۵
- ۶۵) به طور کلی افزایش جمعیت شهری از ۳ طریق صورت گرفته است:
الف) افزایش طبیعی جمعیت شهرها یعنی رشد موالید نسبت به مرگ و میرها
ب) مهاجرت روستاییان به شهرها
ج) افزایش جمعیت برخی از روستاها و تبدیل آن به نقاط شهری یا ادغام روستاها در بافت شهری
- ۶۶) با اصلاحات ارضی در ایران به سبب تقسیم نادرست زمین، حمایت نکردن دولت از کشاورزان، توجه به صنایع مونتاژ و واردات کالا از کشورهای خارجی، نه تنها وضع بهتر نشد بلکه شرایط انهدام کشاورزی در ایران فراهم آمد؛ در نتیجه مهاجرت روستاییان به شهرها شدت گرفت. ۱ ۲ ۳ ۴ ۵
- ۶۷) تا سال ۱۳۳۵ مهاجرت از روستاها به شهرها به کندی صورت می‌گرفت و محصولات کشاورزی بخش عمده تولیدات داخلی را تشکیل می‌داد. این دوره به دوره شهرنشینی کند معروف بود. ۱ ۲ ۳ ۴ ۵

۶۸ (۱ ۲ ۳ ۴) بخش دوم گزینه نادرست است.

ویژگی‌های عمده برنامه آمایش سرزمین عبارتند از:

۱ - توجه به ظرفیت‌ها و توانمندی‌های همه مناطق و استان‌های کشور

۲ - توجه به همه ابعاد توسعه

۳ - توجه به عدالت در توسعه (تحقق عدالت اجتماعی)

۴ - توزیع متوازن جمعیت

۵ - توجه به نیازهای حال و آینده

۶ - توجه به حفظ محیط زیست

۶۹ (۱ ۲ ۳ ۴) سکونتگاه‌ها از نظر جمعیت و عملکرد متفاوت‌اند و درصد بیشتری از روستاییان در بخش کشاورزی (زراعت، دامداری، جنگل‌داری، صید و شکار و...) فعالیت می‌کنند.

۷۰ (۱ ۲ ۳ ۴) در کشورهای توسعه‌یافته اروپا و آمریکای شمالی، برخلاف کشورهای آسیایی، آفریقایی و آمریکای لاتین، مهاجرت از روستا به شهر همگام با تحولات صنعتی صورت گرفته است؛ روندی تدریجی و طولانی داشته است.

۷۱ (۱ ۲ ۳ ۴) در ایران اصلاحات ارضی در سه مرحله انجام گرفت اما به سبب تقسیم نادرست زمین، حمایت نکردن دولت از کشاورزان، توجه به صنایع مونتاژ و واردات کالا از کشورهای خارجی نه تنها وضع روستاییان بهتر نشد؛ بلکه شرایط انهدام کشاورزی ایران نیز فراهم آمد. مهاجرت روستاییان به شهرها معلول عدم موفقیت اصلاحات ارضی است، نه علت آن.

۷۲ (۱ ۲ ۳ ۴) با بروز تحولات صنعتی و ورود کشورها به عصر نوسازی (مدرناسیون) نفوذ شهرها و شهرگرایی در روستاها افزایش یافت.

۷۳ (۱ ۲ ۳ ۴) از موضوعاتی که در زمینه شهرنشینی در ایران رخ داد، تبدیل تهران به مادرشهر ملی بود. با مهاجرت گسترده مردم سراسر کشور جمعیت این شهر به‌طور مداوم افزایش یافت و رفته رفته فاصله زیادی با سایر شهرها پیدا کرد.

۷۴ (۱ ۲ ۳ ۴) سکونتگاه‌های اروپایی از نظر وسعت حوزه نفوذ به این صورت ترتیب‌بندی می‌شوند ← پایتخت، شهر منطقه‌ای، شهر متوسط، شهر کوچک، روستا و هاملت.

۷۵ (۱ ۲ ۳ ۴) آداب و رسوم و شیوه زندگی در شهر و روستا متفاوت است. در شهرها نوگرایی بیشتر و تغییرات اجتماعی سریع‌تر است. (فرهنگ و مناسبات اجتماعی) - در روستاها خدمات، امکانات و تسهیلات نسبت به شهرها کمتر و محدودتر است. (دسترسی به خدمات و تسهیلات)

۷۶ (۱ ۲ ۳ ۴) سرعت گسترش شهرنشینی در آسیا و آفریقا بیشتر از سایر نواحی است و منظور از اصطلاح شهرنشینی افزایش نسبت جمعیت شهرهای یک کشور یا ناحیه به روستاهای آن است.

۷۷ (۱ ۲ ۳ ۴) برخی از تغییرات پیرامونی مانند رویدادهای سیاسی یا تغییرات آب و هوایی ممکن است موجب از دست رفتن موقعیت و اعتبار یک شهر یا انتقال آن به مکانی دیگر شود.

۷۸ (۱ ۲ ۳ ۴) در روستاها فضاهای باز و چشم‌اندازهای طبیعی بیشتر و گسترده‌ترند. در شهرها، خانه‌ها، مغازه‌ها و فضاهای صنعتی به هم فشرده‌ترند و فعالیت‌های متنوع در فضای محدودتری متراکم شده است.

تشریح سایر گزینه‌ها:

گزینه (۱): به‌طور کلی شهرها از روستاها پرجمعیت‌ترند و تراکم جمعیت در آن‌ها بیشتر است.

گزینه (۲): متداول‌ترین ملاک تشخیص شهر و روستا، ملاک جمعیتی است.

گزینه (۳): در اغلب سکونتگاه‌های روستایی درصد بیشتری از جمعیت فعال در بخش کشاورزی فعالیت می‌کنند، اما در بخش شهرها مردم در صناعت و خدمات مشغول‌اند.

۷۹ (۱ ۲ ۳ ۴) هسته اولیه مکانی است که مردم برحسب نیاز، آن را برای زندگی انتخاب کرده و به اشغال درآورده‌اند و بعدها روستاها یا شهر از محل آن گسترش یافته است.

هسته اولیه لزوماً در مرکز شهر قرار ندارد؛ برای مثال ممکن است هسته اولیه شهری در کنار رود پدید بیاید و پس از آن، در جهت مخالف رود گسترش یابد.

۸۰ (۱ ۲ ۳ ۴) منظور از موقعیت یک شهر یا روستا، وضعیت آن سکونتگاه نسبت به پدیده‌های پیرامون خود و همچنین جایگاه آن در سطح ناحیه است.

عبارت گزینه ۳، درباره مقر و هسته اولیه سکونتگاه است.

۸۱ (۱ ۲ ۳ ۴) گسترش حومه نشینی: به بخش‌های پیرامونی یک شهر حومه می‌گویند. با افزایش شهرنشینی و گسترش حمل و نقل و وسایل ارتباطی، به تدریج حومه‌ها در اطراف شهرها، به ویژه شهرهای بزرگ و پرجمعیت، شکل گرفتند.

۸۲ (۱ ۲ ۳ ۴) منظور از مقر، مکان اصلی و دقیق یک سکونتگاه و محل استقرار آن روی زمین است.

منظور از موقعیت یک شهر یا روستا، وضعیت آن سکونتگاه نسبت به پدیده‌های پیرامون خود و همچنین جایگاه آن در سطح ناحیه است.

۸۳ (۱ ۲ ۳ ۴) اصلاحات ارضی نه تنها وضع روستاییان را بهبود نداد بلکه شرایط انهدام کشاورزی در کشور را فراهم کرد و در نتیجه مهاجرت روستاییان به شهرها شدت گرفت.

۸۴ (۱ ۲ ۳ ۴) به بخش‌های پیرامونی یک شهر حومه می‌گویند. با افزایش شهرنشینی و گسترش حمل‌ونقل و وسایل ارتباطی، به تدریج حومه‌ها در اطراف شهرها به‌ویژه شهرهای بزرگ و پرجمعیت شکل گرفتند.

۸۵ (۱ ۲ ۳ ۴) با اصلاحات ارضی در ایران به سبب تقسیم نادرست زمین، حمایت نکردن دولت از کشاورزان، توجه به صنایع مونتاژ و واردات کالا از کشورهای خارجی، نه تنها وضع بهتر نشد بلکه شرایط انهدام کشاورزی در ایران فراهم آمد. در نتیجه، مهاجرت روستاییان به شهرها شدت گرفت.

۸۶ (۱ ۲ ۳ ۴) تشریح موارد نادرست:

الف) میان افزایش جمعیت یک سکونتگاه و کاهش تعداد و تنوع خدمات آن رابطه عکس وجود دارد.

ب) سکونتگاه‌ها را بر اساس میزان جمعیت و عملکرد (خدماتی که ارائه می‌کنند) طبقه‌بندی می‌کنند.

۸۷ (۱ ۲ ۳ ۴) تصویر داده شده موقعیت شهر اهواز را نشان می‌دهد و منظور از موقعیت یک شهر و روستا، وضعیت آن سکونتگاه نسبت به پدیده‌های پیرامون خود و همچنین جایگاه آن در سطح ناحیه است.

۱ ۲ ۳ ۴ ۸۸

اولین تمدن‌های بشری و نخستین شهرهای پرجمعیت، در کنار رودهای دجله، فرات، نیل، سند و ... پدید آمدند. در سکونت‌گزینی انسان‌ها در این مناطق، عواملی چون آب فراوان، آب‌وهوای ملایم و معتدل و خاک حاصلخیز نقش داشته‌اند که نشان از اهمیت بیش‌تر عوامل طبیعی در انتخاب مکان برای استقرار و سکونت جمعیت دارد.

۱ ۲ ۳ ۴ ۹۰

در سده نوزدهم و نیمه اول سده بیستم در کشورهای توسعه‌یافته و صنعتی اروپا و آمریکای شمالی، به دنبال توسعه صنایع کارخانه‌ای، مهاجرت از روستاها به شهرها رخ داد. در این دوره، در برخی از کشورها مانند آلمان، روستاییان برای دریافت دستمزد بیش‌تر، به‌طور نیمه‌وقت در شهرها کار می‌کردند. در برخی از روستاها، شهرنشینان به سرمایه‌گذاری و خرید زمین‌های کشاورزی به منظور ایجاد کشت تجاری، اقدام کردند. همه این عوامل، زمینه را برای مهاجرت به شهرها و کاهش جمعیت روستاها فراهم کرد؛ اما گسترش شهرها و تبدیل روستاها به حومه‌های شهری از عوامل مهاجرت از روستا به شهر نمی‌باشد.

۱ ۲ ۳ ۴ ۹۱

«آستانه نفوذ» یعنی حداقل جمعیتی که تقاضای کالا، خدمات یا عملکردی از سکونتگاه دارند. در سلسله مراتب سکونتگاه‌ها در اروپا، جمعیت شهر منطقه‌ای از شهر متوسط بیشتر است.

۱ ۲ ۳ ۴ ۹۲

شهر محل انباشت سرمایه، تولید کالاهای کارخانه‌ای و تمرکز اقتصادی است و مبادله‌ای نابرابر بین شهر و روستا جریان دارد.

۱ ۲ ۳ ۴ ۹۳

در انتخاب مکان برای استقرار و سکونت جمعیت، عوامل طبیعی (مانند دسترسی به منابع معدنی و ناهمواری) نقش بیشتری نسبت به عوامل انسانی (مانند دسترسی به راه‌های تجاری) دارد. شهر اهواز در کنار رودخانه کارون و در محل تقاطع راه‌های آبی، جاده‌ای و راه‌آهن قرار گرفته است و موقعیت چهارراهی دارد. این موقعیت، سبب شده که حوزه نفوذ گسترده‌ای داشته باشد.

۱ ۲ ۳ ۴ ۹۴

مهم‌ترین ملاک تفاوت شهر و روستا فعالیت‌های اقتصادی آن‌هاست. سکونتگاه‌ها را براساس میزان جمعیت و عملکرد (خدماتی که ارائه می‌کنند) طبقه‌بندی می‌کنند.

۱ ۲ ۳ ۴ ۹۵

افزایش جمعیت مادرشهر و گسترش حومه‌های آنها به تدریج منطقه‌ای با عنوان منطقه مادرشهری به وجود آورد.

۱ ۲ ۳ ۴ ۹۶

به ترتیب ژاپن، آرژانتین و هلند بیشترین سطح شهرنشینی در جهان را دارند.

۱ ۲ ۳ ۴ ۹۷

سطح شهرنشینی در سال ۲۰۱۴ در آمریکای شمالی ۸۱٫۵ درصد، آمریکای لاتین ۷۹٫۵ درصد و آسیا ۴۷٫۵ درصد بوده است.

۱ ۲ ۳ ۴ ۹۸

در نمودار رتبه‌بندی سکونتگاه‌ها، با حرکت به سوی بالای هرم جمعیت سکونتگاه‌ها بیشتر می‌شود و خدماتی که ارائه می‌دهند بیشتر است.

۱ ۲ ۳ ۴ ۹۹

عبارت «در همه شهرهای دنیا جمعیت بیش از ۳۰۰۰ نفر است»، نادرست می‌باشد.

۱ ۲ ۳ ۴ ۱۰۰

موقعیت یک شهر یا روستا در ادامه حیات یا گسترش سکونتگاه و یا حتی نابودی و زوال آن نقش مهمی ایفا می‌کند.

۱ ۲ ۳ ۴ ۱۰۱

نخستین روستاها چهار هزار سال قبل به وجود آمدند.

۱ ۲ ۳ ۴ ۱۰۲

شهر محل انباشت سرمایه، تولید کالاهای کارخانه‌ای و تمرکز اقتصادی است و مبادله‌ای نابرابر بین شهر و روستا جریان دارد.

۱ ۲ ۳ ۴ ۱۰۳

پس از انقلاب اسلامی، علاوه بر تهران ۷ شهر با بیش از یک میلیون نفر جمعیت به کلان‌شهر تبدیل شدند. به‌علاوه، رشد شهرهای بزرگ و کوچک و شهرک‌های اقماری در اطراف تهران، آن را به یک منطقه کلان‌شهری بزرگ تبدیل کرد.

۱ ۲ ۳ ۴ ۱۰۴

اصلاحات ارضی نه تنها موجب بهبود وضع روستاییان نشد، بلکه به ضعف و انهدام کشاورزی در ایران انجامید. در نتیجه، مهاجرت روستاییان به شهرها شدت گرفت.

۱ ۲ ۳ ۴ ۱۰۵

در ایران، تقسیم نادرست زمین / عدم حمایت دولت از کشاورزان / توجه به صنایع مونتاژ و واردات کالا از کشورهای خارجی از عوامل عدم موفقیت در اصلاحات ارضی بود.

۱ ۲ ۳ ۴ ۱۰۶

افزایش جمعیت شهری از سه طریق صورت گرفته است:

۱- افزایش طبیعی جمعیت شهرها، یعنی رشد موالید (تولدها) نسبت به مرگ و میر

۲- مهاجرت روستاییان به شهرها

۳- افزایش جمعیت برخی روستاها و تبدیل شدن آن‌ها به نقاط شهری یا ادغام روستاها در بافت شهری

۱ ۲ ۳ ۴ ۱۰۷

با بروز تحولات صنعتی و ورود کشورها به عصر نوسازی (مدرنیزاسیون)، نفوذ شهرها و شهرگرایی در روستاها افزایش یافت.

۱ ۲ ۳ ۴ ۱۰۸

در برخی کشورها (مانند آلمان) روستاییان برای دریافت دستمزد بیشتر به‌طور نیمه‌وقت در شهرها کار می‌کردند که به زارعان نیمه‌وقت مشهور شده بودند.

۱ ۲ ۳ ۴ ۱۰۹

در زمینه بررسی حوزه نفوذ عملکرد یک سکونتگاه، به دو جنبه «آستانه نفوذ و دامنه نفوذ» توجه می‌شود.

۱ ۲ ۳ ۴ ۱۱۰

سرعت افزایش شهرنشینی در آسیا و آفریقا بیشتر از سایر نواحی جهان بوده و نرخ رشد سالیانه آن ۱٫۵ درصد در سال است.

۱ ۲ ۳ ۴ ۱۱۱

در نیمه سال ۲۰۱۸ میلادی ۵۵ درصد جمعیت ساکن شهرها بوده‌اند و پیش‌بینی می‌شود که تا سال ۲۰۵۰ میلادی این نسبت به حدود ۶۶ درصد برسد.

۱ ۲ ۳ ۴ ۱۱۲

شهر اهواز در کنار رودخانه کارون و در محل تقاطع راه‌های آبی، جاده‌ای و راه‌آهن قرار گرفته و موقعیت چهارراهی دارد.

۱ ۲ ۳ ۴ ۱۱۳

تا سال ۱۳۳۵، مهاجرت از روستاها به شهرها به‌کندی صورت می‌گرفت. این دوره به دوره شهرنشینی کند معروف است.

شهر مشهد دومین کلان‌شهر ایران است و جمعیت تهران بیش از دو برابر آن است.

۱ ۲ ۳ ۴ ۱۱۴

در کشورهای توسعه‌یافته، برخلاف کشورهای آسیایی، آفریقایی و آمریکای لاتین، مهاجرت از روستا به شهر، همگام با تحولات صنعتی صورت گرفته است و روندی تدریجی و طولانی داشته است.

۱ ۲ ۳ ۴ ۱۱۵

مهم‌ترین ملاک تفاوت شهر و روستا فعالیت اقتصادی آن‌ها است و متداول‌ترین ملاک تشخیص شهر و روستا ملاک جمعیتی است.

۱ ۲ ۳ ۴ ۱۱۶

منظور از موقعیت یک شهر یا روستا، وضعیت آن سکونتگاه نسبت به پدیده‌های پیرامون خود و همچنین جایگاه آن در سطح ناحیه است.

۱ ۲ ۳ ۴ ۱۱۷

یکی از پدیده‌های ناشی از نظام اقتصادی سرمایه‌داری، نابرابری فضایی است. در بیشتر شهرها امکانات و خدمات شهری به‌طور عادلانه و متوازن توزیع نشده‌اند و بین مناطق برخوردار و مرفه و مناطق محروم تفاوت‌های چشمگیری از نظر فضای جغرافیایی مشاهده می‌شود.

۱۱۸) منظور از اصطلاح شهرنشینی افزایش نسبت جمعیت شهرهای یک کشور یا ناحیه به روستاهای آن است. سرعت گسترش شهرنشینی در آسیا و آفریقا بیشتر از سایر نواحی جهان است. ۱ ۲ ۳ ۴

۱۱۹) در سده نوزدهم و نیمه اول قرن بیستم در کشورهای توسعه‌یافته و صنعتی اروپا و آمریکای شمالی، مهاجرت از روستاها به شهرها رخ داد که البته این مهاجرت‌ها تدریجی و طولانی مدت بود. در برخی از روستاها شهرنشینان به سرمایه‌گذاری و خرید زمین‌های کشاورزی به منظور ایجاد کشت تجاری اقدام کردند و در نتیجه آن، روستانشینی کاهش یافت. ۱ ۲ ۳ ۴

۱۲۰) متداول‌ترین ملاک تشخیص شهر و روستا ملاک جمعیتی است و اگر جمعیت سکونتگاه به میزان معینی برسد، آن را شهر تلقی می‌کنند. ۱ ۲ ۳ ۴

۱۲۱) بررسی گزینه‌ها: ۱ ۲ ۳ ۴

گزینه ۱: درست - تعریف موقعیت

گزینه ۲: نادرست - تعریف هسته اولیه

گزینه ۳: درست - تعریف هسته اولیه

گزینه ۴: نادرست - تعریف مقر

۱۲۲) به‌طور کلی افزایش جمعیت شهری از سه طریق صورت گرفته است: ۱ ۲ ۳ ۴

۱- افزایش طبیعی جمعیت شهرها یعنی رشد موالید (تولدها) نسبت به مرگ‌ومیر؛

۲- مهاجرت روستاییان به شهرها؛

۳- افزایش جمعیت برخی روستاها و تبدیل شدن آن‌ها به نقاط شهری یا ادغام روستاها در بافت شهری.

۱۲۳) در سده نوزدهم و نیمه اول قرن بیستم در کشورهای توسعه‌یافته و صنعتی اروپا و آمریکای شمالی، به‌دنبال توسعه صنایع کارخانه‌ای، مهاجرت از روستاها به شهرها رخ داد. ۱ ۲ ۳ ۴

۱۲۴) با بروز تحولات صنعتی و ورود کشورها به عصر نوسازی (مدرنیزاسیون)، نفوذ شهرها و شهرگرایی در روستاها افزایش یافت. ۱ ۲ ۳ ۴

۱۲۵) معمولاً به مادرشهر (متروپل)، کلان‌شهر نیز گفته می‌شود. برخی نیز معتقدند که کلان‌شهر ترجمه و معادل واژه مگاسیتی است. با افزایش جمعیت مادرشهرها و گسترش حومه‌های آن‌ها، به تدریج منطقه‌هایی با عنوان منطقه مادرشهری به‌وجود آمدند. در نتیجه گسترش فوق‌العاده زیاد دو یا چند مادرشهر، زنجیره‌ای از مادرشهرها پدید می‌آید که به آن‌ها مگالاپلیس (منطقه ابرشهری) می‌گویند. ۱ ۲ ۳ ۴

۱۲۶) یکی از مهم‌ترین پدیده‌های مربوط به تغییرات الگوی شهرنشینی در جهان، افزایش شهرهای میلیونی است. در سال ۱۹۵۰ میلادی، فقط دو شهر لندن و نیویورک بودند که بیشتر از ۸ میلیون نفر جمعیت داشتند. ۱ ۲ ۳ ۴

۱۲۷) تا چند دهه پیش، شهرهای با بیش از ۵ و ۱۰ میلیون نفر در جهان فقط در نیمکره شمالی و در آمریکای شمالی، اروپا و ژاپن وجود داشتند؛ اما امروزه آسیا، آمریکای لاتین و آفریقا با رشد شهرهای میلیونی و پرجمعیت روبه‌رو شده‌اند. ۱ ۲ ۳ ۴

۱۲۸) متداول‌ترین ملاک تشخیص شهر و روستا «ملاک جمعیتی» است و مهم‌ترین ملاک تفاوت شهر و روستا، «فعالیت‌های اقتصادی» آن‌هاست. ۱ ۲ ۳ ۴

۱۲۹) منظور از مقر، مکان اصلی و دقیق یک سکونتگاه و محل استقرار آن روی زمین است. ۱ ۲ ۳ ۴

منظور از موقعیت یک شهر یا روستا، وضعیت آن سکونتگاه نسبت به پدیده‌های پیرامون خود و همچنین جایگاه آن در سطح ناحیه است.

منظور از هسته اولیه مکانی است که مردم بر حسب نیاز آن را برای زندگی انتخاب کرده و به اشغال درآورده‌اند و بعدها روستا یا شهر از آن محل گسترش یافته است.

۱۳۰) مقر هر روستا یا شهر، هسته اولیه آن را شامل می‌شود. منظور از هسته اولیه مکانی است که مردم برحسب نیاز آن را برای زندگی انتخاب کرده و به اشغال درآورده‌اند و بعدها روستا یا شهر از آن محل گسترش یافته است. ۱ ۲ ۳ ۴

تشریح سایر گزینه‌ها:

گزینه ۱: از چهار هزار سال قبل، نخستین روستاهای پرجمعیت و همچنین تمدن‌های اولیه در کنار رودهای دجله و فرات، نیل، کارون، سند و ... پدید آمدند.

گزینه ۳: در سکونت‌گزینی انسان‌ها در کنار رودها، عوامل چون آب فراوان، آب‌وهوای ملایم و خاک حاصلخیز جلگه‌ها نقش مهمی داشته است.

گزینه ۴: جایگاه سکونتگاه در سطح ناحیه، در ذیل تعریف «موقعیت» بیان می‌شود.

۱۳۱) در کشورهای آسیایی و آفریقایی، بخش عمده‌ای از رشد شهرنشینی به علت صنعتی‌شدن و توسعه کارخانه‌ها یا رشد بخش خدمات و ورود این کشورها به تجارت جهانی و به‌دنبال آن مهاجرت فزاینده روستاییان به شهرها به منظور اشتغال و دستمزد بیشتر بوده است. رشد شهرنشینی در قاره‌های آسیا و آفریقا، ۱٫۵ درصد در سال است. ۱ ۲ ۳ ۴

۱۳۲) تشریح گزینه‌های دیگر:

گزینه ۱: درصد جمعیت شهری در قاره آمریکا بیش از آفریقا است.

گزینه ۳: منظور از اصطلاح شهرنشینی، افزایش «جمعیت» شهرهای یک ناحیه به روستاهای آن است.

گزینه ۴: مطابق پیش‌بینی‌ها، جمعیت روستایی جهان در سال‌های آینده با رشد منفی مواجه خواهد بود.

۱۳۳) به محدوده جغرافیایی که از یک سکونتگاه کالا و انواع خدمات دریافت می‌کند و بین آن محدوده و سکونتگاه جریان کالا، خدمات و رفت‌وآمد وجود دارد، حوزه نفوذ آن سکونتگاه می‌گویند. در زمینه بررسی حوزه نفوذ یک سکونتگاه به دو جنبه توجه می‌شود: ۱ ۲ ۳ ۴

(الف) آستانه جمعیتی نفوذ: یعنی حداقل جمعیتی که تقاضای کالا، خدمات یا عملکردی از آن سکونتگاه دارند.

(ب) دامنه نفوذ: یعنی بیشترین مسافتی که مردم منطقه برای دریافت خدمات از آن سکونتگاه طی می‌کنند.

۱۳۴) برخی تغییرات محیط پیرامون (مانند رویدادهای سیاسی یا تغییرات آب‌وهوایی) ممکن است موجب از دست رفتن موقعیت و اعتبار یک شهر یا انتقال آن به مکانی دیگر شود. ۱ ۲ ۳ ۴

۱۳۵) مقر هر روستا یا شهر، هسته اولیه آن را شامل می‌شود. هسته اولیه مکانی است که مردم برحسب نیاز آن را برای زندگی انتخاب کرده‌اند. ۱ ۲ ۳ ۴

۱۳۶) منظور از مقر، مکان اصلی و دقیق یک سکونتگاه و محل استقرار آن روی زمین است. پدید آمدن شهر خرم‌آباد در دره‌های زاگرس، به مقر (مکان، جایگاه) آن ۱ ۲ ۳ ۴

اشاره دارد.

سایر موارد، وضعیت هر کدام از این سکونتگاه‌ها نسبت به پدیده‌های پیرامون‌شان را بیان می‌کنند (موقعیت).

۱۳۷) ۱ ۲ ۳ ۴ در انتخاب مکان برای استقرار و سکونت جمعیت، عوامل طبیعی بیشترین نقش را داشته‌اند. در سکونت‌گزینی انسان‌ها در این مناطق، عواملی چون آب فراوان، آب‌وهوای ملایم و خاک حاصلخیز جلگه‌ها نقش مهمی داشته است.

۱۳۸) ۱ ۲ ۳ ۴ در شهرها نوگرایی بیشتر و تغییرات اجتماعی سریع‌تر است. تشریح گزینه‌های نادرست:

گزینه ۲) مهم‌ترین ملاک تفاوت شهر و روستا فعالیت‌های اقتصادی آن‌ها است.

گزینه ۳) در شهرها خانه‌ها و مغازه‌ها و فضاهای صنعتی به هم فشرده‌ترند و فعالیت‌های در فضاهای محدودتری متراکم شده‌اند.

گزینه ۴) خدمات و تسهیلات در روستاها کم‌تر و محدودتر است.

۱۳۹) ۱ ۲ ۳ ۴ در امتداد مسیرهای ارتباطی و حمل‌ونقل زنجیره‌ای از مادرشهرها یا کلان‌شهرها پدید می‌آیند که به آن‌ها، «مگالاپلیس» می‌گویند و شکل خطی، کریدوری، خوشه‌ای یا کهکشانی دارند.

۱۴۰) ۱ ۲ ۳ ۴ منظور از «مقر»، مکان اصلی و دقیق یک سکونتگاه و محل استقرار آن روی زمین است.

۱۴۱) ۱ ۲ ۳ ۴ متداول‌ترین ملاک تشخیص شهر و روستا «ملاک جمعیتی» است و در «روستاها» وابستگی اجتماعی و تعاون و همکاری بیش‌تر است.

۱۴۲) ۱ ۲ ۳ ۴ منظور از مقر، مکان اصلی و دقیق یک سکونتگاه و محل استقرار آن روی زمین است. مقر هر روستا یا شهر، هسته اولیه آن را نیز شامل می‌شود که مردم برحسب نیاز آن را برای زندگی انتخاب کرده و به اشغال درآورده‌اند و بعدها روستا یا شهر از آن محل گسترش یافته است.

تغییرات محیط پیرامون ممکن است موجب از دست رفتن موقعیت و اعتبار یک سکونتگاه شود.

۱۴۳) ۱ ۲ ۳ ۴ ویژگی‌های عمده برنامه آمایش سرزمین عبارت‌اند از:

۱- توجه به ظرفیت‌ها و توانمندی‌های همه مناطق و استان‌های کشور

۲- توجه به همه ابعاد توسعه

۳- توجه به عدالت در توسعه

۴- توزیع متوازن جمعیت

۵- توجه به نیازهای حال و آینده

۶- توجه به حفظ محیط زیست

۱۴۴) ۱ ۲ ۳ ۴ از موضوعاتی که در زمینه شهرنشینی در ایران رخ داد، تبدیل تهران به مادرشهر ملی بود. با «مهاجرت گسترده مردم از سراسر کشور»، جمعیت این شهر به طور مداوم به شدت افزایش یافت و رفته‌رفته، فاصله زیادی با سایر شهرها پیدا کرد.

۱۴۵) ۱ ۲ ۳ ۴ تنها گزاره «د» صحیح می‌باشد.

تشریح سایر گزاره‌ها:

الف) متداول‌ترین ملاک تشخیص شهر و روستا «ملاک جمعیتی» است.

ب) در اغلب سکونت‌گاه‌های روستایی درصد بیش‌تری از جمعیت فعال در بخش «کشاورزی» و در شهرها بیش‌تر مردم در بخش‌های «صنعتی» و «خدماتی» مشغول به کار هستند.

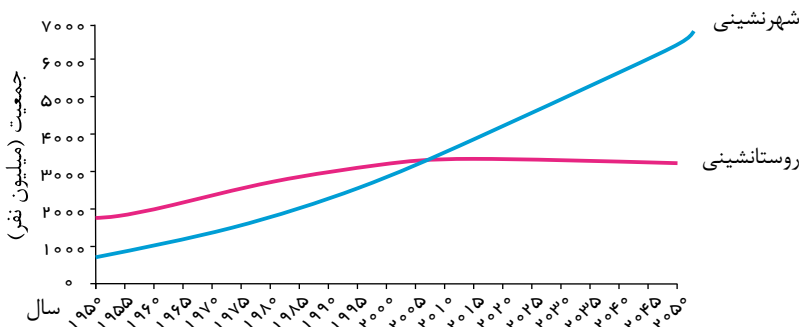
ج) تاکنون صاحب‌نظران درباره تعریف شهر و روستا و ملاک‌های تشخیص آن‌ها نظریات مختلفی داده‌اند اما هنوز تعریف مشخصی در این زمینه وجود ندارد.

د) در «روستاها» چون جمعیت کم‌تر است، بیش‌تر افراد یکدیگر را می‌شناسند و روابط خویشاوندی، وابستگی اجتماعی و همکاری میان آن‌ها بیش‌تر است.

۱۴۶) ۱ ۲ ۳ ۴ تا سال ۱۳۳۵ مهاجرت از روستاها به شهرها به کندی صورت می‌گرفت و محصولات کشاورزی بخش عمده تولیدات داخلی را تشکیل می‌داد. این دوره به «دوره شهرنشینی کند» معروف است.

۱۴۷) ۱ ۲ ۳ ۴ با ورود کشورهای آسیایی، آفریقایی و آمریکایی لاتین به دوره صنعتی شدن، مهاجرت فزاینده از روستا به شهر در این نواحی به وقوع پیوست؛ اما این مهاجرت‌ها با توسعه صنعتی همگام نبودند. رشد شهرنشینی در این نواحی طی دوره‌های زمانی کوتاه‌تر و سریع‌تر از رشد صنعتی رخ داد و شهرها از نظر امکانات و تسهیلات، آمادگی لازم برای ورود مهاجران روستایی را نداشتند. در نتیجه، مشکلات زیادی برای روستاها و شهرها به وجود آمد.

۱۴۸) ۱ ۲ ۳ ۴ با توجه به نمودار زیر، بین سال‌های ۲۰۰۵ تا ۲۰۱۰ میلادی جمعیت شهری و روستایی جهان به برابری رسید و پیش‌بینی می‌شود تا سال ۲۰۵۰ میلادی نسبت جمعیت شهرنشین جهان به جمعیت روستانشین به حدود ۶۶ درصد برسد.



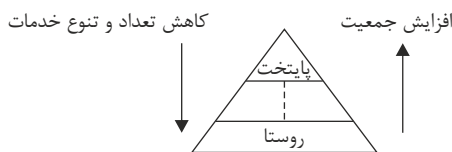
۱۴۹) ۱ ۲ ۳ ۴ در ایران، اصلاحات ارضی در سه مرحله انجام گرفت اما به سبب تقسیم نادرست زمین، حمایت نکردن دولت از کشاورزان، توجه به صنایع مونتاژ و واردات کالا از کشورهای خارجی نه تنها وضع روستاییان بهتر نشد، بلکه شرایط انهدام کشاورزی نیز فراهم آمد.

مهاجرت روستاییان به شهرها معلول عدم موفقیت اصلاحات ارضی است، نه علت آن.

۱۵۰) ۱ ۲ ۳ ۴ رشد شهرنشینی در کشورهای آسیایی، آفریقایی و آمریکایی لاتین، طی دوره‌های زمانی کوتاه‌تر و سریع‌تر از رشد صنعتی رخ داد و شهرها از نظر امکانات و تسهیلات، آمادگی لازم برای ورود مهاجران روستایی را نداشتند.

- ۱۵۱) برخی از سکونت‌گاه‌ها حوزه نفوذ کم‌وسعتی دارند. برای مثال، یک شهر کوچک ممکن است فقط به چند روستای پیرامون خود خدمات بدهد و ساکنان روستاهای پیرامون برای خرید و کار در کارخانه‌ها و استفاده از مراکز درمانی به آن شهر مراجعه کنند.
- ۱۵۲) سرعت گسترش شهرنشینی در آسیا و آفریقا بیشتر از سایر نواحی جهان است و بخش عمده‌ای از رشد شهرنشینی در کشورهای این نواحی، به علت مهاجرت فزاینده روستاییان به شهرها به منظور اشتغال و دستمزد بیشتر و به دنبال صنعتی شدن و توسعه کارخانه‌ها و یا رشد بخش خدمات و ورود این کشورها به تجارت جهانی است.
- ۱۵۳) در کشور ایران دسترسی به آب، قلعه‌های دفاعی، بازارهای محلی و قرار گرفتن در تقاطع راه‌ها از مهم‌ترین عوامل شکل‌گیری هسته اولیه شهرها و روستاها بوده است.
- ۱۵۴) - آداب و رسوم و شیوه زندگی در شهر و روستا متفاوت است. در شهرها نوگرایی بیشتر و تغییرات اجتماعی سریعتر است. (فرهنگ و مناسبات اجتماعی) - در روستاها چون جمعیت کمتر است، بیشتر افراد یکدیگر را می‌شناسند و روابط خویشاوندی و وابستگی اجتماعی و همکاری میان آنها بیشتر است. (فرهنگ و مناسبات اجتماعی) - در روستاها خدمات، امکانات و تسهیلات نسبت به شهرها کمتر و محدودتر است (دسترسی به خدمات و تسهیلات)
- ۱۵۵) در حال حاضر ناحیه آمریکای شمالی با ۸۱/۵ درصد شهرنشینی، بیشترین درصد شهرنشینی را در جهان به خود اختصاص داده است.
- ۱۵۶) در سال ۱۹۹۰ ده شهر با جمعیت بیش از ۱۰ میلیون نفر در جهان وجود داشته است.
- ۱۵۷) نمودار فوق، افزایش جمعیت شهرنشین را به مرور زمان نشان می‌دهد.
- ۱۵۸) از مهم‌ترین تغییرات فضای جغرافیایی در قرن بیستم و بیست و یکم، افزایش جمعیت و شهرنشینی در جهان است.
- ۱۵۹) در نمودار سلسله مراتب سکونتگاه، در رأس هرم پایتخت قرار دارد.
- ۱۶۰) شکل مربوط به نمودار سلسله مراتب سکونتگاه‌ها در اروپا می‌باشد.
- ۱۶۱) در کشورهای پرجمعیت هند و چین روستاهایی با بیش از ۳۰۰۰۰ نفر جمعیت وجود دارد.
- ۱۶۲) امروزه نقش و عملکرد برخی از روستاها تغییر کرده و عملکردهای جدیدی به طور مستقل یا علاوه بر کشاورزی در روستاها پدیدار شده است.
- ۱۶۳) مگالاپلیس‌ها در امتداد راه‌های ارتباطی، شکل خطی و کریدوری و برخی نیز شکل خوشه‌ای و کهکشانی پیدا کرده‌اند.
- ۱۶۴) مهم‌ترین ویژگی‌های مگالاپلیس عبارت‌اند از: تمرکز و انبوهی جمعیت شهری / تمرکز مؤسسات مالی و پولی / تمرکز صنایع دانش بنیان / فراوانی آمد و شد بین مادرشهرهای هم‌جوار با انواع وسایل حمل و نقل زمینی و هوایی.
- ۱۶۵) در برخی از بخش‌های جهان، در نتیجه گسترش فوق‌العاده زیاد دو یا چند مادرشهر در امتداد مسیرهای ارتباطی و حمل و نقل، زنجیره‌ای از مادرشهرها یا کلان‌شهرها پدید آمده است که به آن‌ها مگالاپلیس گفته می‌شود.
- ۱۶۶) برخی از شهرها به دلیل مشارکت زیاد در اقتصاد و تجارت جهانی، حوزه نفوذ وسیعی در سطح جهان دارند.
- ۱۶۷) با افزایش شهرنشینی، گسترش حمل و نقل و وسایل ارتباطی، به تدریج حومه‌ها در اطراف شهرها شکل گرفتند.
- ۱۶۸) برای حداقل میزان جمعیت مادرشهرها ارقام مختلفی را ذکر کرده‌اند؛ اما در این مورد توافقی وجود ندارد.
- ۱۶۹) هلند، ژاپن و آرژانتین ← بیشترین سطح شهرنشینی در جهان را دارند.
- مالاوی، سودان، اوگاندا، سریلانکا ← میزان جمعیت شهرنشینی در آن‌ها کمتر از ۱۰ درصد است.
- ۱۷۰) منظور از اصطلاح شهرنشینی، نسبت جمعیت شهرها به روستاها است.
- ۱۷۱) سرعت گسترش شهرنشینی در آسیا و آفریقا بیشتر از سایر نواحی جهان است و بخش عمده‌ای از رشد شهرنشینی در کشورهای این نواحی، به علت مهاجرت فزاینده روستاییان به شهرها به منظور اشتغال و دستمزد بیشتر و به دنبال صنعتی شدن و توسعه کارخانه‌ها و ورود این کشورها به تجارت جهانی است.
- ۱۷۲) تشریح عبارت نادرست:
- در سال ۱۳۴۱ با اصلاحات ارضی شرایط روستاییان به علت تقسیم نادرست و ... بدتر شد و کشاورزی در معرض انهدام قرار گرفت.
- ۱۷۳) معمولاً به مادرشهر (متروپول) کلان‌شهر نیز گفته می‌شود و برخی نیز معتقدند کلان‌شهر ترجمه و معادل واژه مگاسیتی است و به شهرهایی با بیش از ده میلیون نفر جمعیت اطلاق می‌شود.
- توضیح: در کشور ایران طبق مصوبه شورای عالی معماری و شهرسازی، به مادرشهرهایی که بیش از یک میلیون نفر جمعیت داشته باشند، کلان‌شهر گفته می‌شود و مگالاپلیس به پیوند یک مادرشهر و حومه‌ها و شهرک‌های اقماری آن با یک مادرشهر با حومه‌ها و شهرک‌های اقماری دیگر گفته می‌شود.
- ۱۷۴) مهم‌ترین ملاک تفاوت شهر و روستا فعالیت اقتصادی آن‌هاست و متداول‌ترین ملاک تشخیص شهر و روستا، ملاک جمعیتی است.
- ۱۷۵) آستانه نفوذ یعنی حداقل جمعیتی که تقاضای کالا، خدمات یا عملکردی از یک سکونتگاه دارند.
- ۱۷۶) به مادرشهر، کلان شهر نیز گفته می‌شود.
- مگالاپلیس شمال شرق ایالات متحده آمریکا از بوستن تا واشنگتن نمونه‌ای از اولین مگالاپلیس‌های جهان‌اند.
- ۱۷۷) مهم‌ترین ملاک تفاوت شهری و روستا، فعالیت اقتصادی می‌باشد. متداول‌ترین ملاک تفاوت شهر و روستا میزان جمعیت می‌باشد.
- ۱۷۸) تا سال ۲۰۵۰ میلادی پیش‌بینی می‌شود که حدود ۶۶ درصد جمعیت جهان در شهرها ساکن شوند و سرعت گسترش شهرنشینی در آسیا و آفریقا بیشتر از سایر نواحی جهان است و این میزان به ۱/۵ درصد در سال در این نواحی می‌رسد و در سال ۱۹۵۰ میلادی دو شهر لندن و نیویورک بیشتر از ۸ میلیون نفر جمعیت داشتند.
- ۱۷۹) تشریح عبارت‌های نادرست:
- (الف) در انتخاب مکان برای استقرار و سکونت جمعیت؛ عوامل طبیعی بیشترین نقش را داشته‌اند.
- (ب) در کشور ایران عواملی چون دسترسی به آب، قلعه‌های دفاعی، بازارهای محلی و قرار گرفتن در تقاطع راه‌ها موجب شکل‌گیری هسته اولیه روستاها و شهرها بوده است.

- ۱۸۰) ۱ ۲ ۳ ۴ به‌طور کلی، افزایش جمعیت شهری از سه طریق صورت گرفته است: ۱- افزایش طبیعی جمعیت شهرها یعنی رشد موالید نسبت به مرگ‌ومیرها ۲- مهاجرت روستائیان به شهرها ۳- افزایش جمعیت برخی روستاها و تبدیل شدن آن‌ها به نقاط شهری یا ادغام روستاها در بافت شهری.
- به سبب تقسیم نادرست زمین، حمایت نکردن دولت از کشاورزان، توجه به صنایع مونتاژ و واردات کالاهای خارجی نه تنها اصلاحات ارضی وضع روستائیان را بهتر نکرد، بلکه شرایط انهدام کشاورزی در ایران را فراهم آورد. از دیگر موضوعاتی که در زمینه شهرنشینی در ایران رخ داد، تبدیل تهران به مادر شهر ملی بود.
- ۱۸۱) ۱ ۲ ۳ ۴ مهم‌ترین ویژگی‌های روستاها در مقایسه با شهرها عبارتند از:
- فعالیت در بخش کشاورزی (زراعت، دامداری، جنگل‌داری، صید و شکار و...)
 - جمعیت کمتر و تراکم کمتر جمعیتی
 - فضاهای باز و چشم‌اندازهای طبیعی بیشتر و گسترده‌تر
 - خدمات و تسهیلات کمتر و محدودتر
 - روابط خویشاوندی و وابستگی اجتماعی بیشتر (در شهرها نوگرایی بیشتر و تغییرات اجتماعی سریع‌تر)
- ۱۸۲) ۱ ۲ ۳ ۴ سرعت افزایش شهرنشینی در نواحی مختلف جهان متفاوت است.
- ۱۸۳) ۱ ۲ ۳ ۴ در کشورها نیز تغییرات شهرنشینی و روستانشینی همانند سایر نواحی جهان به وقوع پیوسته است تا سال ۱۳۳۵ شهرنشینی در ایران به‌کندی صورت می‌گرفت و از سال ۱۳۳۵ روند شهرنشینی در ایران سرعت گرفت و دوره شهرنشینی سریع آغاز شد.
- ۱۸۴) ۱ ۲ ۳ ۴ برخی از تفاوت‌های شهر و روستا عبارتند از:
- فعالیت اقتصادی: درصد بیشتری از جمعیت فعال، در بخش کشاورزی فعالیت می‌کنند.
 - وسعت و فضای سکونت و فعالیت: در شهرها فعالیت‌های متنوع در فضاهای محدودتری متمرکز شده است.
 - فرهنگ و مناسبات اجتماعی: در شهرها نوگرایی بیشتر و تغییرات اجتماعی سریع‌تر است.
- ۱۸۵) ۱ ۲ ۳ ۴ در سال ۱۹۹۰، ده شهر با بیش از ۱۰ میلیون نفر در جهان وجود داشت و امروزه تعداد این شهرها به ۲۸ شهر رسیده است.
- ۱۸۶) ۱ ۲ ۳ ۴ سلسله سکونتگاه اروپا به ترتیب شامل پایتخت، شهر منطقه‌ای، شهر متوسط، شهر کوچک، روستاها و هاملت (دهی که کلیسا ندارد) است. آستانه جمعیتی نفوذ، یعنی حداقل یک منطقه که تقاضای کالا، خدمات یا عملکردی از یک سکونتگاه دارند.
- ۱۸۷) ۱ ۲ ۳ ۴ دامنه نفوذ عبارت است از بیشترین مسافتی که مردم منطقه برای دریافت کالا یا خدمات از آن سکونتگاه طی می‌کنند. مهاجرت از روستا به شهرها از مهم‌ترین عوامل تغییر در کاهش روستانشینی و افزایش شهرنشینی است.
- ۱۸۸) ۱ ۲ ۳ ۴ متداول‌ترین ملاک تشخیص شهر و روستا ملاک جمعیتی است که در نواحی مختلف دنیا متفاوت است و به‌طور کلی شهرها از روستاها پرجمعیت‌ترند و تراکم جمعیت نیز در آن‌ها بیشتر است.
- ۱۸۹) ۱ ۲ ۳ ۴ بزرگ‌ترین و مهم‌ترین شهر یک ناحیه، استان یا کشور متروپل یا مادرشهر است که درباره حداقل جمعیت آن توافقی وجود ندارد.
- ۱۹۰) ۱ ۲ ۳ ۴



- ۱۹۱) ۱ ۲ ۳ ۴ منظور از موقعیت یک شهر و روستا وضعیت آن سکونتگاه نسبت به پدیده‌های پیرامون خود و هم‌چنین جایگاه آن در سطح ناحیه است - گزینه ۲، ۳ و ۴ به مثال‌هایی درباره نقش موقعیت یک سکونتگاه در توسعه یا گسترش یا نابودی آن اشاره می‌کند اما گزینه ۱ به مقر و هسته‌ی اولیه سکونتگاه اشاره دارد.
- ۱۹۲) ۱ ۲ ۳ ۴ به بخش‌های پیرامونی یک شهر «حومه» می‌گویند. با افزایش شهرنشینی و گسترش حمل و نقل و وسایل ارتباطی، به تدریج حومه‌ها در اطراف شهرها به‌ویژه شهرهای بزرگ و پرجمعیت شکل گرفتند.
- ۱۹۳) ۱ ۲ ۳ ۴ سلسله مراتب سکونتگاه‌ها یعنی رتبه‌بندی آن‌ها برحسب اهمیت. در سلسله مراتب سکونتگاه‌های اروپایی، پایین‌ترین رتبه متعلق به هاملت است. طبقه‌بندی سکونتگاه‌ها براساس میزان جمعیت و عملکرد آن‌ها صورت می‌گیرد.
- ۱۹۴) ۱ ۲ ۳ ۴ مگالاپلیس شمال شرق ایالات متحده آمریکا (از بوسطن تا واشنگتن) و مگالاپلیس ژاپن (توکیو تا یوکوهاما) از اولین مگالاپلیس‌های جهان هستند.
- ۱۹۵) ۱ ۲ ۳ ۴ یکی از مهم‌ترین پدیده‌های مربوط به تغییرات الگوی شهرنشینی در جهان، افزایش شهرهای میلیونی است. در سال ۱۹۵۰ فقط در شهر لندن، پاریس و نیویورک بودند که بیش‌تر از ۸ میلیون جمعیت داشتند.
- ۱۹۶) ۱ ۲ ۳ ۴ رشد شهرنشینی در کشورهای آسیایی، آفریقایی و آمریکای لاتین طی دوره‌های زمانی کوتاه‌تر و سریع‌تر از رشد صنعتی رخ داد و شهرها از نظر امکانات و تسهیلات، آمادگی لازم را برای ورود مهاجران روستایی نداشتند.
- ۱۹۷) ۱ ۲ ۳ ۴ مادرشهر (متروپل)، بزرگ‌ترین و مهم‌ترین شهر یک ناحیه، استان یا کشور است. با افزایش جمعیت مادرشهرها و گسترش حومه‌های آنان، منطقه‌هایی با عنوان منطقه مادرشهری به‌وجود آمده‌اند.
- در برخی از بخش‌های جهان زنجیره‌های از مادرشهرها پدید آمده‌اند که به آن‌ها مگالاپلیس (منطقه‌ی ابرشهری) می‌گویند.
- ۱۹۸) ۱ ۲ ۳ ۴ در انتخاب مکان برای استقرار و سکونت جمعیت عوامل طبیعی بیشترین نقش را داشته‌اند. در سکونت‌گزینی انسان‌ها در این مناطق عواملی چون آب و هوای ملایم و خاک حاصلخیز جلگه‌ها نقش مهمی داشته‌اند.

۱۹۹) در کشور ایران دسترسی به آب، قلعه‌های دفاعی، بازارهای محلی و قرار گرفتن در تقاطع راه‌ها از مهم‌ترین عوامل شکل‌گیری هسته اولیه روستاها و شهرها بوده است. ۱ ۲ ۳ ۴

۲۰۰) اولین تمدن‌های بشری و نخستین شهرهای پرجمعیت در کنار رودهای دجله، فرات، نیل، سند و ... پدید آمده‌اند. در سکونت‌گزینی انسان‌ها در این مناطق عواملی چون آب فراوان، آب و هوای ملایم و معتدل و خاک حاصلخیز نقش داشته‌اند که نشان‌دهنده اهمیت بیشتر عوامل طبیعی در انتخاب مکان برای استقرار و سکونت جمعیت دارد. ۱ ۲ ۳ ۴

۲۰۱) تصویر داده شده، موقعیت شهر اهواز را نشان می‌دهد و منظور از موقعیت یک شهر و روستا وضعیت آن سکونتگاه نسبت به پدیده‌های پیرامون خود و همچنین جایگاه آن در سطح ناحیه است. ۱ ۲ ۳ ۴

۲۰۲) بررسی سایر گزینه‌ها: ۱ ۲ ۳ ۴

(ب) با افزایش درآمدهای نفتی، تجهیزات و کارخانه‌ها به شهرها تخصیص یافت.

(د) انهدام کشاورزی معلول طرح اصلاحات ارضی است.

۲۰۳) یکی از عوامل دافعه جمعیت از روستاها به سوی شهرها، استفاده از ماشین‌آلات به جای انسان است. ۱ ۲ ۳ ۴

۲۰۴) در برخی از بخش‌های جهان، در نتیجه گسترش فوق‌العاده زیاد دو یا چند مادرشهر در امتداد مسیرهای ارتباطی و حمل‌ونقل، زنجیره‌ای از مادرشهرها یا کلان‌شهرها پدید آمده‌اند که به آن‌ها مگالاپلیس گفته می‌شود. ۱ ۲ ۳ ۴

از مهم‌ترین ویژگی‌های مگالاپلیس عبارت‌اند از: تمرکز و انبوهی جمعیت شهری، تمرکز مؤسسات مالی و پولی، تمرکز صنایع دانش‌بنیان و فراوانی آمد و شد بین مادرشهرهای هم‌جوار.

۲۰۵) با افزایش شهرنشینی و گسترش حمل‌ونقل و وسایل ارتباطی، به تدریج حومه‌ها در اطراف شهرها شکل گرفتند. ۱ ۲ ۳ ۴

معمولاً به مادرشهر (متروپول) کلان‌شهر نیز گفته می‌شود. برخی نیز معتقدند کلان‌شهر معادل واژه انگلیسی مگاسیتی است و به شهرهایی با بیش از ۱۰ میلیون نفر جمعیت اطلاق می‌شود. در ایران به مادرشهرهایی که بیش از ۱ میلیون نفر جمعیت دارند، کلان‌شهر گفته می‌شود.

۲۰۶) معیار و تعریف شهر کوچک و بزرگ و میزان جمعیت آن در کشورهای مختلف فرق می‌کند. پس از طراحی معیارهای رتبه‌بندی، تعداد شهرها یا روستاهایی که در هر طبقه وجود دارند، در جدول قرار می‌گیرد. ۱ ۲ ۳ ۴

۲۰۷) سلسله‌مراتب سکونتگاه‌ها یعنی رتبه‌بندی آن‌ها برحسب اهمیت. برای این منظور، سکونتگاه‌ها را براساس میزان جمعیت و عملکرد (خدماتی که ارائه می‌کنند) طبقه‌بندی می‌کنند. سکونتگاه‌های کوچک یا کم‌جمعیت معمولاً خدمات محدودی به ساکنان ارائه می‌دهند؛ اما در سکونتگاه‌های بزرگ‌تر، تعداد و تنوع خدمات بسیار زیاد است.

۲۰۸) برخی از تفاوت‌های شهر و روستا عبارت‌اند از: ۱ ۲ ۳ ۴

- فعالیت اقتصادی: در روستا، درصد بیشتری از جمعیت فعال، در بخش کشاورزی (زراعت، صید و شکار و...) فعالیت می‌کنند.

- وسعت و فضای سکونت و فعالیت: در شهرها، فعالیت‌های متنوع در فضاهای محدودتری متمرکز شده‌اند.

- فرهنگ و مناسبات اجتماعی: در شهرها نوگرایی بیشتر و تغییرات اجتماعی سریع‌تر است.

۲۰۹) هسته اولیه روستای هولوکو، قلعه‌ای است که برای دفاع از حمله مغول‌ها ساخته شده است. هسته اولیه مکانی است که مردم برحسب نیاز، آن را برای زندگی انتخاب کرده‌اند و سکونتگاه از آنجا گسترش یافته است. ۱ ۲ ۳ ۴

نکته: در انتخاب مکان برای استقرار و سکونت جمعیت، عوامل «طبیعی» بیشترین نقش را داشته‌اند. گزینه‌های «۱» و «۴» بیانگر موقعیت سکونتگاه است.

۲۱۰) درصد شهرنشینی در نواحی مختلف جهان عبارت است از: ۱ ۲ ۳ ۴

- آمریکای شمالی: ۸۱٫۵ درصد

- آمریکای جنوبی: ۷۹٫۵ درصد

- اروپا و اقیانوسیه: ۷۰ تا ۷۳٫۵ درصد

- آسیا: ۴۷٫۵ درصد

- آفریقا: ۴۰ درصد

۲۱۱) آستانه جمعیتی نفوذ، یعنی حداقل جمعیت یک منطقه که تقاضای کالا، خدمات یا عملکردی از یک سکونتگاه دارند. ۱ ۲ ۳ ۴

۲۱۲) دامنه نفوذ بیشترین مسافتی است که مردم یک منطقه برای دریافت کالا یا خدمات از آن سکونتگاه طی می‌کنند. ۱ ۲ ۳ ۴

۲۱۳) مهم‌ترین ویژگی‌های روستاها در مقایسه با شهرها عبارت‌اند از: ۱ ۲ ۳ ۴

- فعالیت جمعیت در بخش کشاورزی (زراعت، دامداری، جنگل‌داری، صید و شکار و...);

- جمعیت کمتر و تراکم کمتر جمعیتی؛

- فضاهای باز و چشم‌اندازهای طبیعی بیشتر و گسترده‌تر؛

- خدمات و تسهیلات کمتر و محدودتر؛

- روابط خویشاوندی و وابستگی اجتماعی بیشتر (در شهرها نوگرایی بیشتر و تغییرات اجتماعی سریع‌تر).

۲۱۴) در این شکل که یک نمونه رتبه‌بندی با سلسله‌مراتب را در سکونتگاه‌ها نشان می‌دهد، با حرکت به سوی بالای هرم، جمعیت سکونتگاه‌ها بیشتر می‌شود و خدماتی هم ارائه می‌دهند، بیشتر و متنوع‌تر می‌شود. ۱ ۲ ۳ ۴

۲۱۵) در مگالاپلیس (منطقه آبرشهری)، حومه‌ها و شهرک‌های آقماری یک مادرشهر به حومه‌ها و شهرک‌های مادرشهر دیگر پیوند می‌خورد. ۱ ۲ ۳ ۴

۲۱۶) در سده نوزدهم و اوایل قرن بیستم در کشورهای توسعه‌یافته و صنعتی اروپا و آمریکای شمالی، به دنبال توسعه صنایع کارخانه‌ای، مهاجرت از روستاها به شهرها رخ داد. ۱ ۲ ۳ ۴

۲۱۷) متروپول ممکن است پایتخت یا شهر اصلی یک ناحیه باشد. ۱ ۲ ۳ ۴

۲۱۸) با اجرای اصلاحات ارضی در ایران، به سبب تقسیم نادرست زمین، حمایت نکردن دولت از کشاورزان، توجه به صنایع مونتاژ و واردات کالا از کشورهای خارجی نه تنها وضع روستائیان بهتر نشد، بلکه شرایط انهدام کشاورزی در ایران فراهم آمد. ۱ ۲ ۳ ۴

پست جغرافی دوازدهم درس یک

- ۲۱۹) در کشور ما نیز تغییرات شهرنشینی و روستانشینی همانند سایر نواحی جهان به وقوع پیوسته است. از سال ۱۳۳۵، روند شهرنشینی در ایران سرعت گرفت و دوره شهرنشینی سریع آغاز شد. ۱ ۲ ۳ ۴
- ۲۲۰) در سده نوزدهم و در اوایل قرن بیستم در کشورهای توسعه یافته و صنعتی اروپا و آمریکای شمالی، به دنبال توسعه صنایع کارخانه‌ای مهاجرت از روستاها به شهرها رخ داد. ۱ ۲ ۳ ۴
- ۲۲۱) یکی از مهم‌ترین پدیده‌های مربوط به تغییرات الگوی شهرنشینی در جهان، افزایش شهرهای میلیونی است. در سال ۱۹۵۰ میلادی دو شهر لندن و نیویورک بیشتر از ۸ میلیون نفر جمعیت داشتند. ۱ ۲ ۳ ۴
- ۲۲۲) سلسله‌مراتب سکونتگاه‌ها یعنی رتبه‌بندی آن‌ها برحسب اهمیت. برای این منظور، سکونتگاه‌ها را بر اساس میزان جمعیت و عملکرد (خدماتی که ارائه می‌کنند) طبقه‌بندی می‌کنند. ۱ ۲ ۳ ۴
- ۲۲۳) منظور از «مقر»، مکان اصلی و دقیق یک سکونتگاه و محل استقرار آن روی زمین است. «مقر» هر روستا یا شهر، هسته اولیه آن را نیز شامل می‌شود. در انتخاب مکان برای استقرار و سکونت جمعیت، «عوامل طبیعی» بیشترین نقش را داشته‌اند. ۱ ۲ ۳ ۴

پاسخنامه کلیبی

۱	۱	۲	۳	۴
۲	۱	۲	۳	۴
۳	۱	۲	۳	۴
۴	۱	۲	۳	۴
۵	۱	۲	۳	۴
۶	۱	۲	۳	۴
۷	۱	۲	۳	۴
۸	۱	۲	۳	۴
۹	۱	۲	۳	۴
۱۰	۱	۲	۳	۴
۱۱	۱	۲	۳	۴
۱۲	۱	۲	۳	۴
۱۳	۱	۲	۳	۴
۱۴	۱	۲	۳	۴
۱۵	۱	۲	۳	۴
۱۶	۱	۲	۳	۴
۱۷	۱	۲	۳	۴
۱۸	۱	۲	۳	۴
۱۹	۱	۲	۳	۴
۲۰	۱	۲	۳	۴
۲۱	۱	۲	۳	۴
۲۲	۱	۲	۳	۴
۲۳	۱	۲	۳	۴
۲۴	۱	۲	۳	۴
۲۵	۱	۲	۳	۴
۲۶	۱	۲	۳	۴
۲۷	۱	۲	۳	۴
۲۸	۱	۲	۳	۴
۲۹	۱	۲	۳	۴
۳۰	۱	۲	۳	۴
۳۱	۱	۲	۳	۴
۳۲	۱	۲	۳	۴
۳۳	۱	۲	۳	۴
۳۴	۱	۲	۳	۴
۳۵	۱	۲	۳	۴
۳۶	۱	۲	۳	۴
۳۷	۱	۲	۳	۴
۳۸	۱	۲	۳	۴
۳۹	۱	۲	۳	۴
۴۰	۱	۲	۳	۴
۴۱	۱	۲	۳	۴

۴۲	۱	۲	۳	۴
۴۳	۱	۲	۳	۴
۴۴	۱	۲	۳	۴
۴۵	۱	۲	۳	۴
۴۶	۱	۲	۳	۴
۴۷	۱	۲	۳	۴
۴۸	۱	۲	۳	۴
۴۹	۱	۲	۳	۴
۵۰	۱	۲	۳	۴
۵۱	۱	۲	۳	۴
۵۲	۱	۲	۳	۴
۵۳	۱	۲	۳	۴
۵۴	۱	۲	۳	۴
۵۵	۱	۲	۳	۴
۵۶	۱	۲	۳	۴
۵۷	۱	۲	۳	۴
۵۸	۱	۲	۳	۴
۵۹	۱	۲	۳	۴
۶۰	۱	۲	۳	۴
۶۱	۱	۲	۳	۴
۶۲	۱	۲	۳	۴
۶۳	۱	۲	۳	۴
۶۴	۱	۲	۳	۴
۶۵	۱	۲	۳	۴
۶۶	۱	۲	۳	۴
۶۷	۱	۲	۳	۴
۶۸	۱	۲	۳	۴
۶۹	۱	۲	۳	۴
۷۰	۱	۲	۳	۴
۷۱	۱	۲	۳	۴
۷۲	۱	۲	۳	۴
۷۳	۱	۲	۳	۴
۷۴	۱	۲	۳	۴
۷۵	۱	۲	۳	۴
۷۶	۱	۲	۳	۴
۷۷	۱	۲	۳	۴
۷۸	۱	۲	۳	۴
۷۹	۱	۲	۳	۴
۸۰	۱	۲	۳	۴
۸۱	۱	۲	۳	۴
۸۲	۱	۲	۳	۴

۸۳	۱	۲	۳	۴
۸۴	۱	۲	۳	۴
۸۵	۱	۲	۳	۴
۸۶	۱	۲	۳	۴
۸۷	۱	۲	۳	۴
۸۸	۱	۲	۳	۴
۸۹	۱	۲	۳	۴
۹۰	۱	۲	۳	۴
۹۱	۱	۲	۳	۴
۹۲	۱	۲	۳	۴
۹۳	۱	۲	۳	۴
۹۴	۱	۲	۳	۴
۹۵	۱	۲	۳	۴
۹۶	۱	۲	۳	۴
۹۷	۱	۲	۳	۴
۹۸	۱	۲	۳	۴
۹۹	۱	۲	۳	۴
۱۰۰	۱	۲	۳	۴
۱۰۱	۱	۲	۳	۴
۱۰۲	۱	۲	۳	۴
۱۰۳	۱	۲	۳	۴
۱۰۴	۱	۲	۳	۴
۱۰۵	۱	۲	۳	۴
۱۰۶	۱	۲	۳	۴
۱۰۷	۱	۲	۳	۴
۱۰۸	۱	۲	۳	۴
۱۰۹	۱	۲	۳	۴
۱۱۰	۱	۲	۳	۴
۱۱۱	۱	۲	۳	۴
۱۱۲	۱	۲	۳	۴
۱۱۳	۱	۲	۳	۴
۱۱۴	۱	۲	۳	۴
۱۱۵	۱	۲	۳	۴
۱۱۶	۱	۲	۳	۴
۱۱۷	۱	۲	۳	۴
۱۱۸	۱	۲	۳	۴
۱۱۹	۱	۲	۳	۴
۱۲۰	۱	۲	۳	۴
۱۲۱	۱	۲	۳	۴
۱۲۲	۱	۲	۳	۴
۱۲۳	۱	۲	۳	۴

۱۲۴	۱	۲	۳	۴
۱۲۵	۱	۲	۳	۴
۱۲۶	۱	۲	۳	۴
۱۲۷	۱	۲	۳	۴
۱۲۸	۱	۲	۳	۴
۱۲۹	۱	۲	۳	۴
۱۳۰	۱	۲	۳	۴
۱۳۱	۱	۲	۳	۴
۱۳۲	۱	۲	۳	۴
۱۳۳	۱	۲	۳	۴
۱۳۴	۱	۲	۳	۴
۱۳۵	۱	۲	۳	۴
۱۳۶	۱	۲	۳	۴
۱۳۷	۱	۲	۳	۴
۱۳۸	۱	۲	۳	۴
۱۳۹	۱	۲	۳	۴
۱۴۰	۱	۲	۳	۴
۱۴۱	۱	۲	۳	۴
۱۴۲	۱	۲	۳	۴
۱۴۳	۱	۲	۳	۴
۱۴۴	۱	۲	۳	۴
۱۴۵	۱	۲	۳	۴
۱۴۶	۱	۲	۳	۴
۱۴۷	۱	۲	۳	۴
۱۴۸	۱	۲	۳	۴
۱۴۹	۱	۲	۳	۴
۱۵۰	۱	۲	۳	۴
۱۵۱	۱	۲	۳	۴
۱۵۲	۱	۲	۳	۴
۱۵۳	۱	۲	۳	۴
۱۵۴	۱	۲	۳	۴
۱۵۵	۱	۲	۳	۴
۱۵۶	۱	۲	۳	۴
۱۵۷	۱	۲	۳	۴
۱۵۸	۱	۲	۳	۴
۱۵۹	۱	۲	۳	۴
۱۶۰	۱	۲	۳	۴
۱۶۱	۱	۲	۳	۴
۱۶۲	۱	۲	۳	۴
۱۶۳	۱	۲	۳	۴
۱۶۴	۱	۲	۳	۴

۱۶۵	۱	۲	۳	۴
۱۶۶	۱	۲	۳	۴
۱۶۷	۱	۲	۳	۴
۱۶۸	۱	۲	۳	۴
۱۶۹	۱	۲	۳	۴
۱۷۰	۱	۲	۳	۴
۱۷۱	۱	۲	۳	۴
۱۷۲	۱	۲	۳	۴
۱۷۳	۱	۲	۳	۴
۱۷۴	۱	۲	۳	۴
۱۷۵	۱	۲	۳	۴
۱۷۶	۱	۲	۳	۴
۱۷۷	۱	۲	۳	۴
۱۷۸	۱	۲	۳	۴
۱۷۹	۱	۲	۳	۴

۱۸۰	۱	۲	۳	۴
۱۸۱	۱	۲	۳	۴
۱۸۲	۱	۲	۳	۴
۱۸۳	۱	۲	۳	۴
۱۸۴	۱	۲	۳	۴
۱۸۵	۱	۲	۳	۴
۱۸۶	۱	۲	۳	۴
۱۸۷	۱	۲	۳	۴
۱۸۸	۱	۲	۳	۴
۱۸۹	۱	۲	۳	۴
۱۹۰	۱	۲	۳	۴
۱۹۱	۱	۲	۳	۴
۱۹۲	۱	۲	۳	۴
۱۹۳	۱	۲	۳	۴
۱۹۴	۱	۲	۳	۴

۱۹۵	۱	۲	۳	۴
۱۹۶	۱	۲	۳	۴
۱۹۷	۱	۲	۳	۴
۱۹۸	۱	۲	۳	۴
۱۹۹	۱	۲	۳	۴
۲۰۰	۱	۲	۳	۴
۲۰۱	۱	۲	۳	۴
۲۰۲	۱	۲	۳	۴
۲۰۳	۱	۲	۳	۴
۲۰۴	۱	۲	۳	۴
۲۰۵	۱	۲	۳	۴
۲۰۶	۱	۲	۳	۴
۲۰۷	۱	۲	۳	۴
۲۰۸	۱	۲	۳	۴
۲۰۹	۱	۲	۳	۴

۲۱۰	۱	۲	۳	۴
۲۱۱	۱	۲	۳	۴
۲۱۲	۱	۲	۳	۴
۲۱۳	۱	۲	۳	۴
۲۱۴	۱	۲	۳	۴
۲۱۵	۱	۲	۳	۴
۲۱۶	۱	۲	۳	۴
۲۱۷	۱	۲	۳	۴
۲۱۸	۱	۲	۳	۴
۲۱۹	۱	۲	۳	۴
۲۲۰	۱	۲	۳	۴
۲۲۱	۱	۲	۳	۴
۲۲۲	۱	۲	۳	۴
۲۲۳	۱	۲	۳	۴